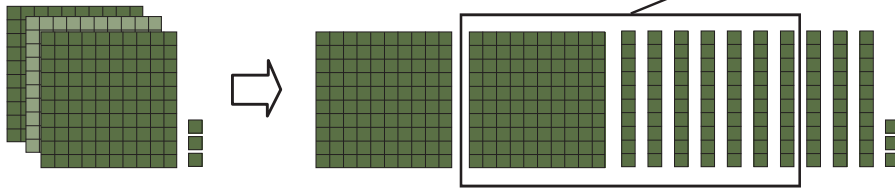


แบบฝึกหัด 2.11

เขียนวงล้อมรอบแผ่นตารางเพื่อหาผลลบ

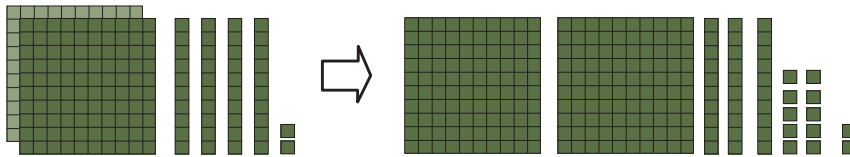
ตัวอย่าง

$$303 - 170 = \square$$




ตอบ ๑๓๓

1 $242 - 128 = \square$




ตอบ

2 $425 - 371 = \square$




ตอบ

3 $320 - 90 = \square$



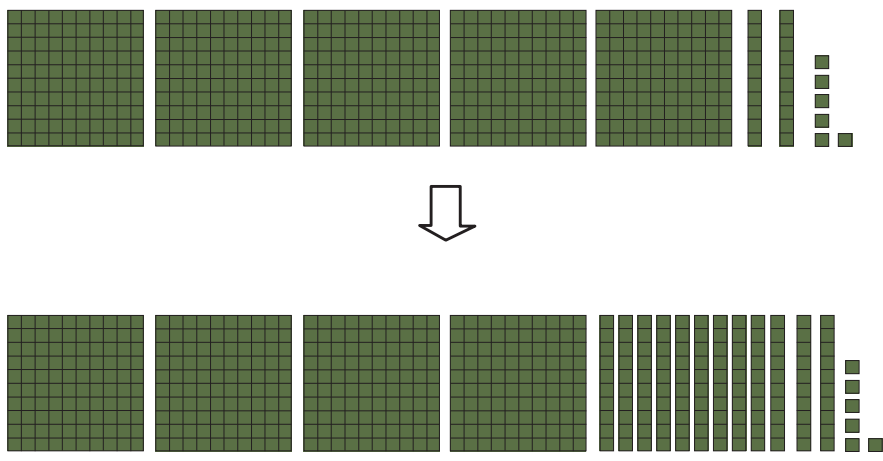
ตอบ

4 $425 - 216 = \square$



ตอบ

5 $526 - 264 = \square$



ตอบ