

## แบบฝึกหัด 2.7

หาผลบวก

1  $27 + 23 + 34 = \square$

วิธีทำ  $27 + 23 + 34 = \dots\dots\dots$   
 $= \dots\dots\dots$   
 $= \dots\dots\dots$

ตอบ  $\dots\dots\dots$   
 $\dots\dots\dots$

2  $22 + 41 + 13 = \square$

วิธีทำ  $22 + 41 + 13 = \dots\dots\dots$   
 $= \dots\dots\dots$   
 $= \dots\dots\dots$

ตอบ  $\dots\dots\dots$   
 $\dots\dots\dots$

3  $23 + 28 + 22 = \square$

วิธีทำ  $23 + 28 + 22 = \dots\dots\dots$   
 $= \dots\dots\dots$   
 $= \dots\dots\dots$

ตอบ  $\dots\dots\dots$   
 $\dots\dots\dots$

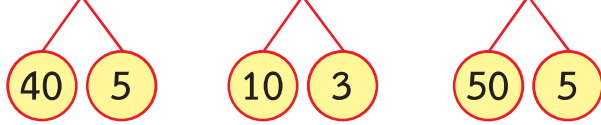
4  $13 + 35 + 15 = \square$

วิธีทำ  $13 + 35 + 15 = \dots\dots\dots$   
 $= \dots\dots\dots$   
 $= \dots\dots\dots$

ตอบ  $\dots\dots\dots$   
 $\dots\dots\dots$

5  $45 + 13 + 55 = \square$

วิธีคิด  $45 + 13 + 55 = \square$



ขั้นที่ 1  $40 + 10 + 50 = \dots\dots\dots$

$= \dots\dots\dots$

ขั้นที่ 2  $5 + 3 + 5 = \dots\dots\dots$

$= \dots\dots\dots$

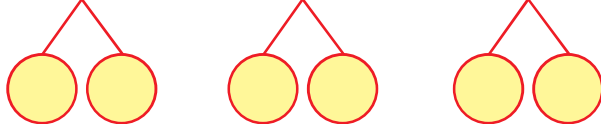
ขั้นที่ 3  $\dots\dots\dots = \dots\dots\dots$

ดังนั้น  $45 + 13 + 55 = \dots\dots\dots$

ตอบ  $\dots\dots\dots$

6  $63 + 48 + 52 = \square$

วิธีคิด  $63 + 48 + 52 = \square$



ขั้นที่ 1  $\dots\dots\dots = \dots\dots\dots$

$= \dots\dots\dots$

ขั้นที่ 2  $\dots\dots\dots = \dots\dots\dots$

$= \dots\dots\dots$

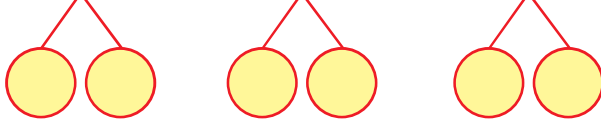
ขั้นที่ 3  $\dots\dots\dots = \dots\dots\dots$

ดังนั้น  $63 + 48 + 52 = \dots\dots\dots$

ตอบ  $\dots\dots\dots$

7  $76 + 14 + 31 = \square$

วิธีคิด  $76 + 14 + 31 = \square$



.....  
 ..... = .....  
 ..... = .....  
 ..... = .....  
 ..... = .....  
 ..... = .....

ดังนั้น  $76 + 14 + 31 = \dots\dots\dots$

ตอบ .....

8  $84 + 32 + 26 = \square$

.....  
 ..... = .....  
 ..... = .....  
 ..... = .....  
 ..... = .....  
 ..... = .....

ดังนั้น  $84 + 32 + 26 = \dots\dots\dots$

ตอบ .....