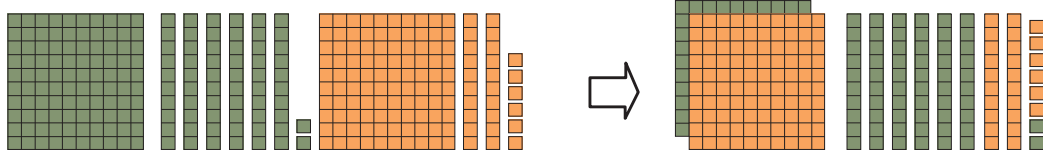


## แบบฝึกหัด 2.3

## 1) หาผลบวก

1)  $162 + 126 = \square$



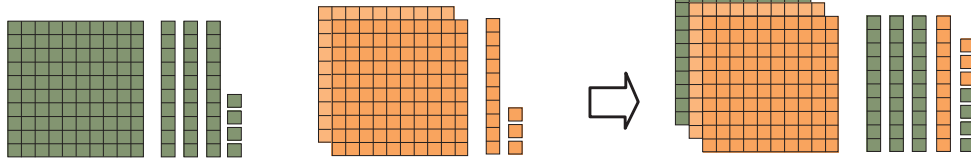
162

กับ

126

ดังนั้น  $162 + 126 =$  \_\_\_\_\_

2)  $134 + 213 = \square$



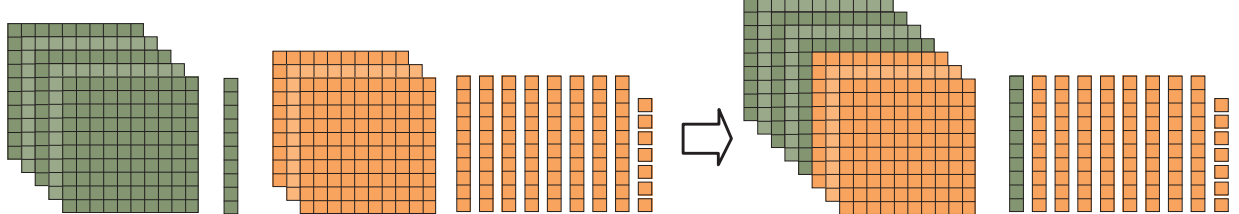
134

กับ

213

ดังนั้น  $134 + 213 =$  \_\_\_\_\_

3)  $510 + 387 = \square$



510

กับ

387

ดังนั้น  $510 + 387 =$  \_\_\_\_\_

2) หาผลบวก

1)  $143 + 124 = \square$



ดังนั้น  $143 + 124 = \dots\dots\dots$

2)  $213 + 253 = \square$



ดังนั้น  $213 + 253 = \dots\dots\dots$

3)  $450 + 340 = \square$



ดังนั้น  $450 + 340 = \dots\dots\dots$