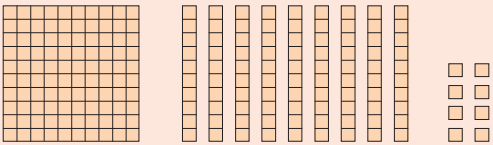


แบบฝึกหัด 1.10

1) เขียนเลขโดดและค่าของเลขโดดในแต่ละหลัก

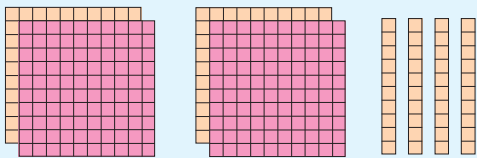
ตัวอย่าง



..... ร้อย กับ สิบ กับ หน่วย เป็น
 1 ร้อย กับ 9 สิบ กับ 8 หน่วย เป็น 198

| | | | | |
|-----|-------|-------------|-------|-------|
| 198 | | ในหลักร้อย | มีค่า | |
| | | ในหลักสิบ | มีค่า | |
| | | ในหลักหน่วย | มีค่า | |

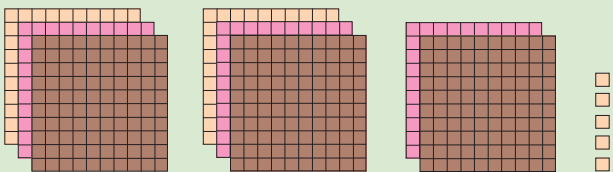
1)



..... ร้อย กับ สิบ กับ หน่วย เป็น

| | | | | |
|-----|-------|-------------|-------|-------|
| [] | | ในหลักร้อย | มีค่า | |
| | | ในหลักสิบ | มีค่า | |
| | | ในหลักหน่วย | มีค่า | |

2)

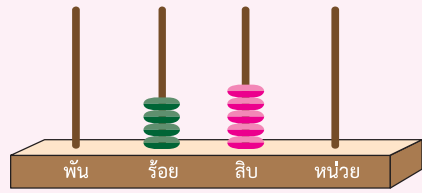


..... ร้อย กับ สิบ กับ หน่วย เป็น

| | | | | |
|-----|-------|-------------|-------|-------|
| [] | | ในหลักร้อย | มีค่า | |
| | | ในหลักสิบ | มีค่า | |
| | | ในหลักหน่วย | มีค่า | |

2) เขียนเลขโดด ค่าของเลขโดดในแต่ละหลัก และเขียนในรูปกระจาย

1)



..... ร้อย กับ สิบ กับ หน่วย เป็น

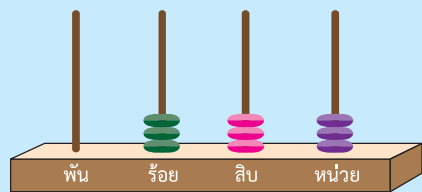
.....
 ในหลักร้อย มีค่า

.....
 ในหลักสิบ มีค่า

.....
 ในหลักหน่วย มีค่า

เขียนในรูปกระจาย

2)



..... ร้อย กับ สิบ กับ หน่วย เป็น

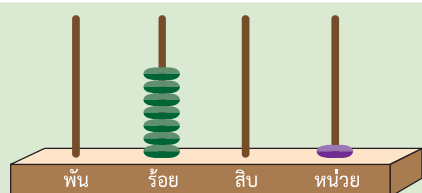
.....
 ในหลักร้อย มีค่า

.....
 ในหลักสิบ มีค่า

.....
 ในหลักหน่วย มีค่า

เขียนในรูปกระจาย

3)



..... ร้อย กับ สิบ กับ หน่วย เป็น

.....
 ในหลักร้อย มีค่า

.....
 ในหลักสิบ มีค่า

.....
 ในหลักหน่วย มีค่า

เขียนในรูปกระจาย

3) เขียนเลขโดด ค่าของเลขโดดในแต่ละหลัก และเขียนในรูปกระจาย

1)

394

..... 3 ในหลักร้อย มีค่า
.......... 9 ในหลักสิบ มีค่า
.......... 4 ในหลักหน่วย มีค่า
.....เขียนในรูปกระจาย
.....

2)

636

..... ในหลักร้อย มีค่า
.......... ในหลักสิบ มีค่า
.......... ในหลักหน่วย มีค่า
.....เขียนในรูปกระจาย
.....

3)

541

..... ในหลักร้อย มีค่า
.......... ในหลักสิบ มีค่า
.......... ในหลักหน่วย มีค่า
.....เขียนในรูปกระจาย
.....

4)

890

..... ในหลักร้อย มีค่า
.......... ในหลักสิบ มีค่า
.......... ในหลักหน่วย มีค่า
.....เขียนในรูปกระจาย
.....