

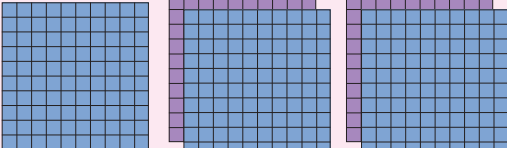
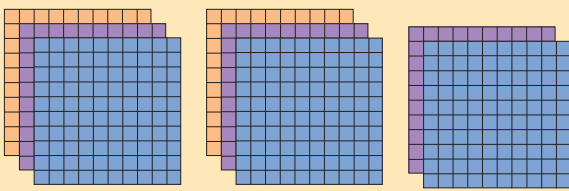
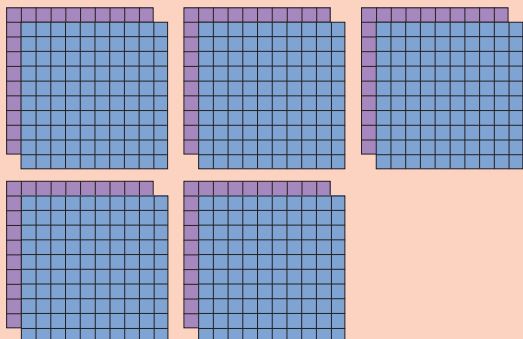
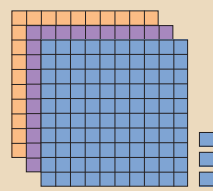
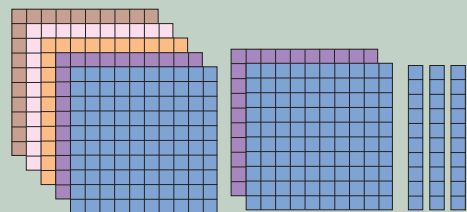
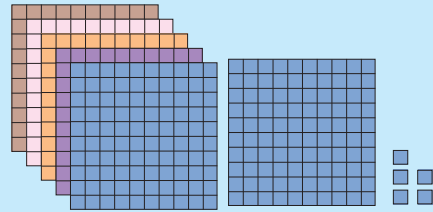
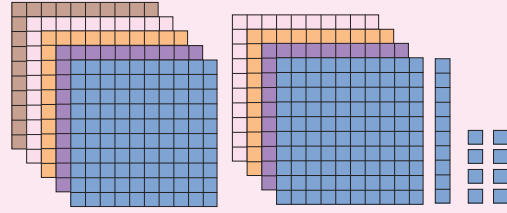
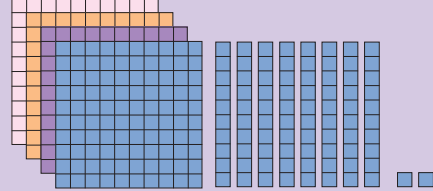


แบบฝึกหัด 1.7

1) เขียนตัวเลขฮินดูอารบิก และตัวเลขไทยแสดงจำนวน

แผ่นตารางแสดงจำนวน	ตัวเลขฮินดูอารบิก	ตัวเลขไทย
1) 		
2) 		
3) 		
4) 		
5) 		

2 เขียนตัวเลขฮินดูอารบิก และตัวเลขไทยแสดงจำนวน

แผ่นตารางแสดงจำนวน	ตัวเลขฮินดูอารบิก	ตัวเลขไทย
1) 	_____ _____	_____ _____
2) 	_____ _____	_____ _____
3) 	_____ _____	_____ _____
4) 	_____ _____	_____ _____
5) 	_____ _____	_____ _____

3) วงรอบภาพให้เท่ากับจำนวนที่กำหนด

1)

406

2)

871

3)

653