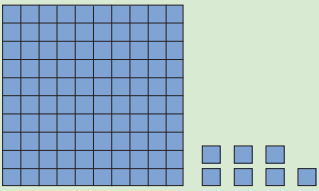


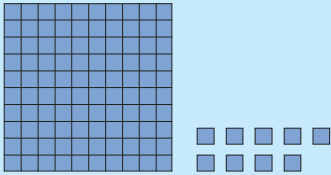
แบบฝึกหัด 1.6

1) เขียน \times ทับภาพ ตัวเลข หรือตัวหนังสือ ที่แสดงจำนวนที่เท่ากัน

| | | | |
|----|---|-----|-----|
| 1) |  | ๑๐๗ | 170 |
| 2) | หนึ่งร้อยสี่สิบหก | ๑๖๔ | 146 |
| 3) | หนึ่งร้อยยี่สิบหนึ่ง | 121 | ๑๒๑ |

๒ เขียนตัวเลขฮินดูอารบิก ตัวเลขไทย และตัวหนังสือแสดงจำนวน

1)

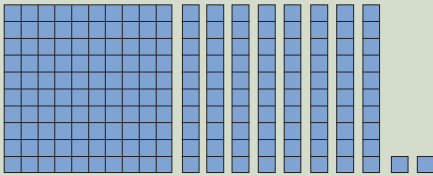


ตัวเลขฮินดูอารบิก

ตัวเลขไทย

ตัวหนังสือ

2)

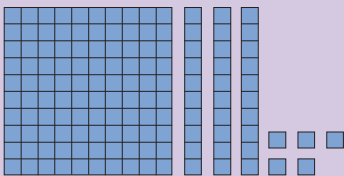


ตัวเลขฮินดูอารบิก

ตัวเลขไทย

ตัวหนังสือ

3)

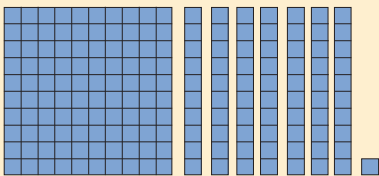


ตัวเลขฮินดูอารบิก

ตัวเลขไทย

ตัวหนังสือ

4)

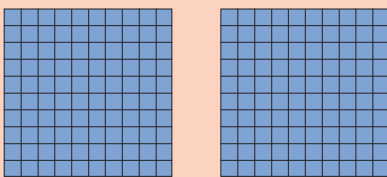


ตัวเลขฮินดูอารบิก

ตัวเลขไทย

ตัวหนังสือ

5)



ตัวเลขฮินดูอารบิก

ตัวเลขไทย

ตัวหนังสือ

3 เขียนตัวเลขฮินดูอารบิก ตัวเลขไทย หรือตัวหนังสือ

| ข้อ | ตัวเลข ฮินดูอารบิก | ตัวเลขไทย | ตัวหนังสือ |
|-----|-----------------------|----------------|---------------------|
| 1) | | ๑๑๔ | |
| 2) | 150 | | |
| 3) | | | หนึ่งร้อยหกสิบแปด |
| 4) | | ๑๙๓ | |
| 5) | | ๑๘๙ | หนึ่งร้อยแปดสิบเก้า |
| 6) | 101 | | |
| 7) | | | หนึ่งร้อยยี่สิบเจ็ด |