


## แบบฝึกหัด 1.2

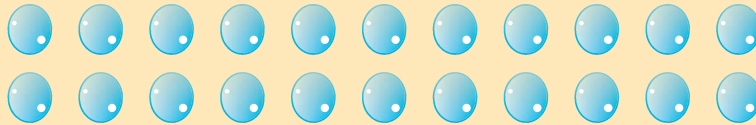
1) วงรอบภาพแสดงการนับทีละ 2 และเขียนตัวเลขแสดงจำนวน

1)



แก้วตามีตุ๊กตา ..... ตัว

2)



โบว์มีลูกแก้ว ..... ลูก


3)



ออมสินมีโดเรมอน ..... ตัว


2) วงรอบภาพแสดงการนับทีละ 2 หรือทีละ 10 และเขียนตัวเลขแสดงจำนวน

1)



ขนมทองหยิบ ..... ชิ้น

2)




ขนมทองหยอด ..... ชิ้น

3)



ขนมวุ้นกรอบ ..... ชิ้น

4)



ขนมอะลัว ..... ชิ้น

5)



ขนมไข่ ..... ชิ้น

6)



ขนมตะโก้ ..... ชิ้น