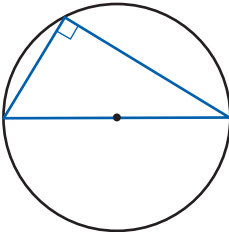
 **แบบฝึกหัด 4 : จับคู่คำตอบถอดรหัส (3)**

ชื่อ-สกุล ชั้น ม.3/ เลขที่

ชื่อ-สกุล ชั้น ม.3/ เลขที่



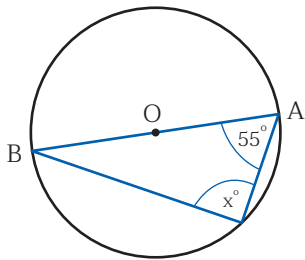
มุมในครึ่งวงกลมมีขนาด 90 องศา หรือหนึ่งมุมฉาก



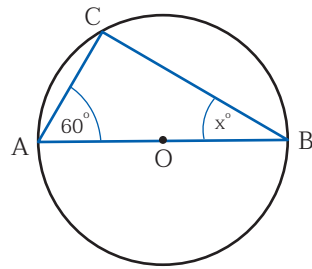
หน่วยการเรียนรู้ที่ 4 กลมกลิ้งกับสิ่งน่ารู้

คำชี้แจง จงเขียนแสดงแนวคิดเพื่อหาค่า x แล้วโยงเส้นจับคู่ค่า x ที่ได้ กับคำตอบแล้วนำตัวอักษรภาษาอังกฤษที่คู่กับคำตอบนั้นไปถอดรหัส

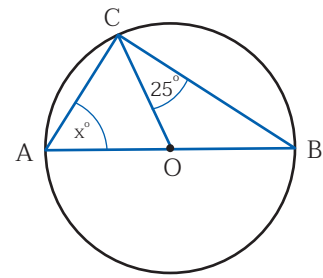
1.



2.



3.



.....

.....

.....

คำตอบ

H : 30



M : 35



K : 40



D : 45



R : 50



D : 60



O : 65



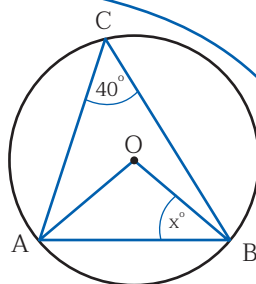
C : 90



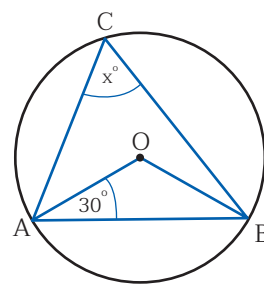
K : 120



4.



5.



1) $\widehat{AOB} = 2(\widehat{ACB})$

$= 2 \times 40 = 65^\circ$

2) $\widehat{OAB} = x^\circ$

3) $x + x + 80 = 180$

$2x = 180 - 80$

$2x = 100$

$x = 50$

.....

.....

.....

รหัสที่ได้คือ

1

2

3

4

5

R

