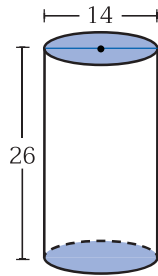


 **แบบฝึกหัด 1 : พื้นที่ผิวของทรงกระบอก**

คำชี้แจง ให้นักเรียนแสดงวิธีทำในการหาพื้นที่ผิวของทรงกระบอกที่กำหนดให้ต่อไปนี้

1. จงหาพื้นที่ผิวของทรงกระบอกต่อไปนี้ (กำหนด $\pi \approx \frac{22}{7}$)



วิธีทำ

.....

.....

.....

.....

.....

.....

.....

.....

.....

.....

.....

.....

.....

.....

.....

.....

.....

.....

.....

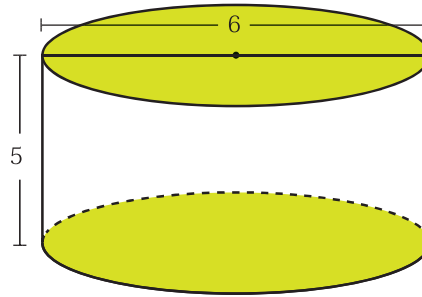
.....

.....

.....

หน่วยการเรียนรู้ที่ 4 หุ่นกระบอก กอบกู้โลก

2. จงหาพื้นที่ผิวของทรงกระบอกต่อไปนี้ (กำหนด $\pi \approx 3.14$)



วิธีทำ

.....

.....

.....

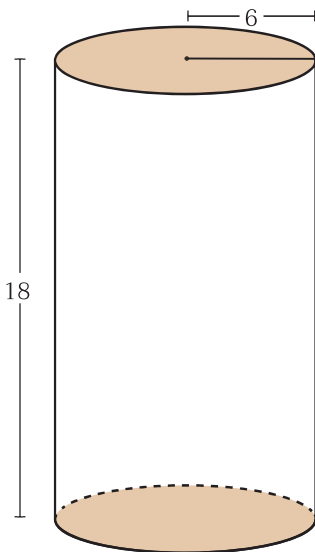
.....

.....

.....

.....

.....



3. จงหาพื้นที่ผิวของทรงกระบอกต่อไปนี้

วิธีทำ

.....

.....

.....

.....

.....

.....

.....