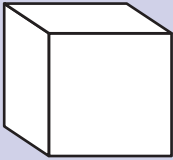



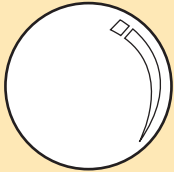







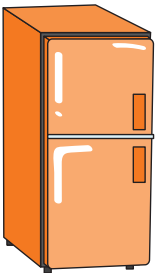



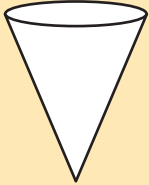



แบบฝึกหัด 3.2

1 เขียนวงล้อมรอบสิ่งของที่มีลักษณะตามรูปที่กำหนดให้ทางซ้าย

 <p>ทรงสี่เหลี่ยมมุมฉาก</p>	  
--	--

 <p>ทรงกลม</p>	  
---	--

 <p>ทรงกระบอก</p>	  
--	--

 <p>กรวย</p>	  
---	--



2 ระบายสีหรือแรเงารูปเรขาคณิตสามมิติที่ตรงกับชนิดที่กำหนดให้ทางซ้าย

ทรงสี่เหลี่ยมมุมฉาก

ทรงกลม

ทรงกระบอก

กรวย