

รายวิชา คณิตศาสตร์

รหัสวิชา ค11101

ชั้นประถมศึกษาปีที่ 1



เรื่อง ทรงสี่เหลี่ยมมุมฉาก

ครูผู้สอน ครูจิรวุฒิ ภัคดี

ครูรัชนีพร พิณฑอง

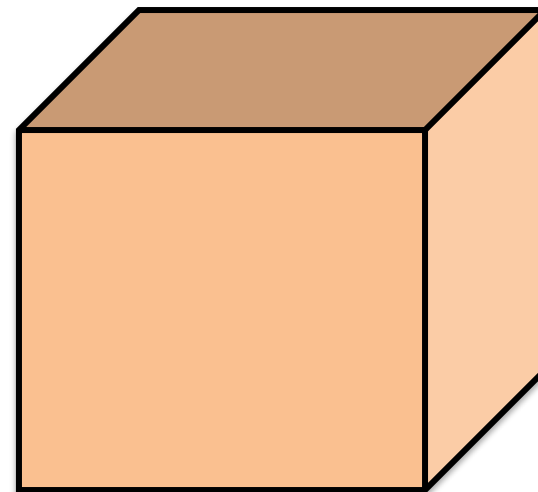



ทรงสี่เหลี่ยมมุมฉาก



รู้หรือไม่ว่าตรงสี่เหลี่ยมมุมฉาก
มีลักษณะเป็นอย่างไร

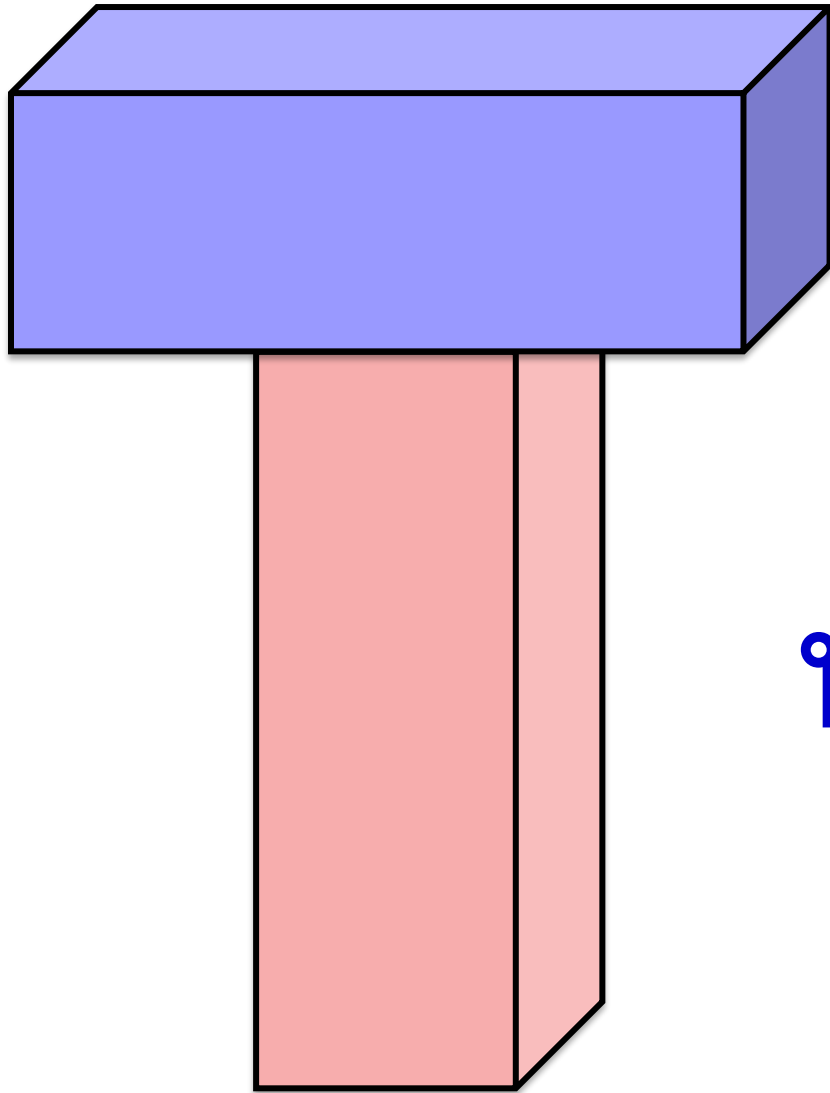




ทรงสี่เหลี่ยมมุมฉาก



ทรงสี่เหลี่ยมมุมฉาก



ทรงสี่เหลี่ยมมุมฉาก

จุดประสงค์การเรียนรู้

เพื่อให้นักเรียนสามารถจำแนกรูป

เรขาคณิตสามมิติที่มีลักษณะ

เป็นทรงสี่เหลี่ยมมุมฉาก



ให้นักเรียนช่วยจำแนก
รูปเรขาคณิตสามมิติที่มีลักษณะ
เป็นทรงสี่เหลี่ยมมุมฉาก





ให้นักเรียนช่วยบอกรูปต่อไปนี้
เป็นทรงสี่เหลี่ยมมุมฉากหรือไม่


เป็นทรงสี่เหลี่ยมมุมฉาก



ไม่เป็นทรงสี่เหลี่ยมมุมฉาก



เป็นทรงสี่เหลี่ยมมุมฉาก




ไม่เป็นทรงสี่เหลี่ยมมุมฉาก




ไม่เป็นทรงสี่เหลี่ยมมุมฉาก



เป็นทรงสี่เหลี่ยมมุมฉาก



ไม่เป็นทรงสี่เหลี่ยมมุมฉาก



เป็นทรงสี่เหลี่ยมมุมฉาก



เป็นทรงสี่เหลี่ยมมุมฉาก



เป็นทรงสี่เหลี่ยมมุมฉาก



ไม่เป็นทรงสี่เหลี่ยมมุมฉาก



ไม่เป็นทรงสี่เหลี่ยมมุมฉาก




คำชี้แจงกิจกรรมนักเรียน



1. ให้นักเรียนทำแบบฝึกหัด 3.1

คำชี้แจงบทบาทครูปลายทาง




1. แจกแบบฝึกหัด 3.1 ให้นักเรียน
2. ครูอธิบายคำชี้แจงแต่ละข้อ
3. ครูตรวจสอบความถูกต้องและให้ความช่วยเหลือตามความเหมาะสม



แบบฝึกหัด 3.1

ระบายสีทรงสี่เหลี่ยมมุมฉากทุกรูป




ใบงานที่ 3.1

ทรงสี่เหลี่ยมมุมฉาก



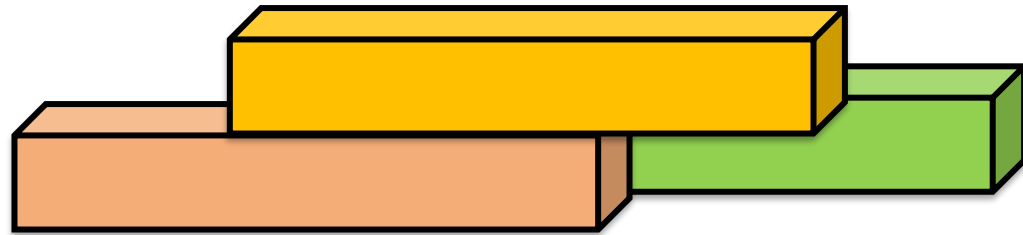
(สามารถดาวน์โหลดได้ที่ www.dltv.ac.th)





สรุป

ทรงสี่เหลี่ยมมุมฉากเป็นรูปเรขาคณิตสามมิติชนิดหนึ่ง ที่หน้าทั้งหกหน้ามีลักษณะเรียบแบนสามารถวางซ้อนกันได้ กลิ้งไม่ได้





บทเรียนครั้งต่อไป

เรื่อง

ทรงกลม ทรงกระบอก

และกรวย

