





แบบฝึกหัด 2.37

พิจารณาแผนภาพต่อไปนี้

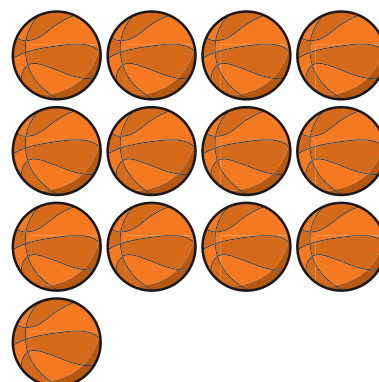
ร้านขายอุปกรณ์กีฬา



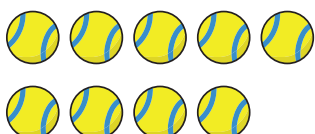
ลูกวอลเลย์บอล



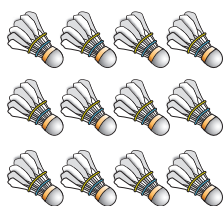
ลูกฟุตบอล



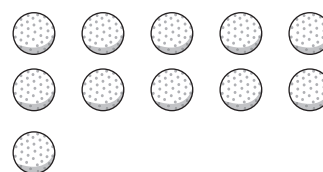
ลูกบาสเกตบอล



ลูกเทนนิส



ลูกขนไก่



ลูกกอล์ฟ

เติมคำตอบ

- 1 มีลูกวอลเลย์บอลมากกว่า อยู่ ลูก
 ประโยคสัญลักษณ์



2 มีลูกฟุตบอลมากกว่า อยู่ ลูก
ประโยชน์สัญลักษณ์

3 มีลูกบาสเกตบอลน้อยกว่า อยู่ ลูก
ประโยชน์สัญลักษณ์

4 มีลูกขนไก่มากกว่า อยู่ ลูก
ประโยชน์สัญลักษณ์

5 มีลูกขนไคน้อยกว่า อยู่ ลูก
ประโยชน์สัญลักษณ์

6 มีลูกกอล์ฟมากกว่า อยู่ ลูก
ประโยชน์สัญลักษณ์

7 มีลูกกอล์ฟ ลูกฟุตบอล
ประโยชน์สัญลักษณ์