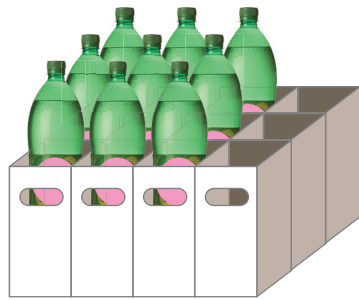




แบบฝึกหัด 2.35

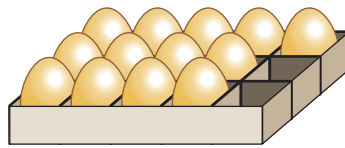
หาผลลบ

- 1 ลิ้งไบหนึ่งบรรจุน้ำอัดลมได้ 12 ขวด แต่ตอนนี้มีน้ำอัดลมอยู่ 9 ขวด ลิ้งไบนี้บรรจุน้ำอัดลมได้อีกกี่ขวด



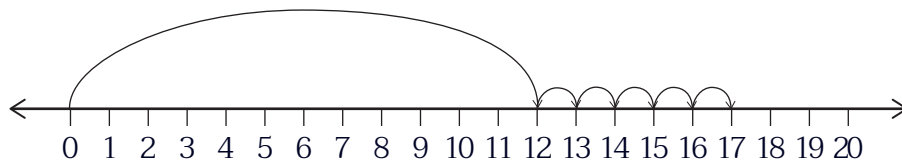
ประโยคสัญลักษณ์
 ลิ้งไบนี้บรรจุน้ำอัดลมได้อีก ขวด

- 2 กล่องเก็บไข่บรรจุ 15 ฟอง มีไข่ไก่อยู่แล้ว 13 ฟอง สามารถบรรจุไข่ไก่ได้เพิ่มอีกกี่ฟอง



ประโยคสัญลักษณ์
 กล่องเก็บไข่นี้สามารถบรรจุไข่ไก่ได้อีก ฟอง

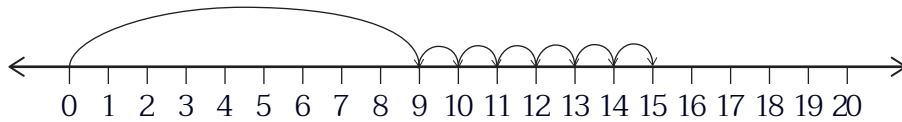
3 $17 - 12 = \square$



นับต่อจาก 12 ไปถึง 17 ได้ ดังนั้น $17 - 12 = \dots\dots\dots$

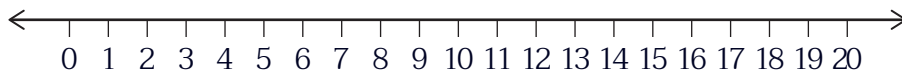


4 $15 - 9 = \square$



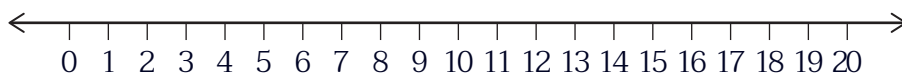
นับต่อจาก 9 ไปถึง 15 ได้ ดังนั้น $15 - 9 = \dots\dots\dots$

5 $12 - 9 = \square$



นับต่อจาก ไปถึง ได้ ดังนั้น $12 - 9 = \dots\dots\dots$

6 $20 - 12 = \square$



นับต่อจาก ไปถึง ได้ ดังนั้น $20 - 12 = \dots\dots\dots$