



แบบฝึกหัด 2.33


1 วงล้อมรอบจำนวน ● เพื่อแสดงการเอาออกและหาผลลบ

1) $8 - 2 = \square$




ดังนั้น $8 - 2 = \dots\dots\dots$

2) $15 - 9 = \square$



ดังนั้น $15 - 9 = \dots\dots\dots$

3) $17 - 5 = \square$




ดังนั้น $17 - 5 = \dots\dots\dots$



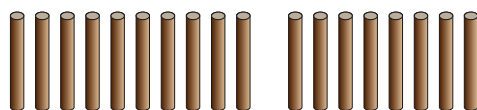
๒ วงล้อมรอบจำนวนแต่ยังไม่แสดงการเอาออกและหาผลลบ

1)




$16 - 4 = \square$

2)



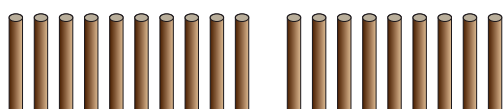
$18 - 7 = \square$

3)




$13 - 6 = \square$

4)



$19 - 5 = \square$

5)



$14 - 11 = \square$