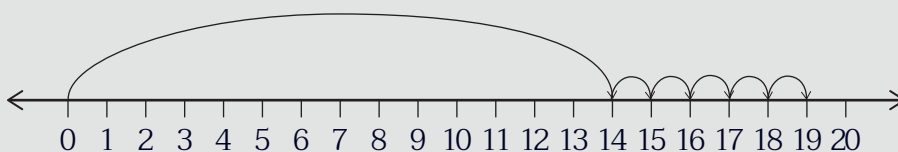




แบบฝึกหัด 2.29

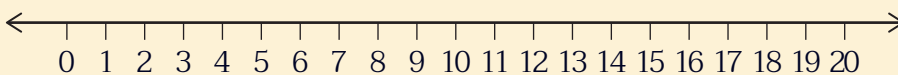
หาผลบวกโดยใช้เส้นจำนวนและเขียนตัวเลขแสดงจำนวน

1  $14 + 5 = \square$



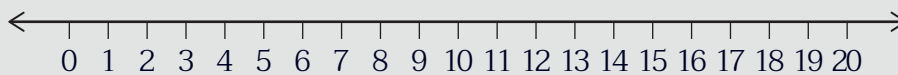
นับต่อจาก ..... ไปอีก ..... จะได้ .....  
ดังนั้น  $14 + 5 = \dots\dots\dots$

2  $13 + 2 = \square$



นับต่อจาก ..... ไปอีก ..... จะได้ .....  
ดังนั้น  $13 + 2 = \dots\dots\dots$

3  $8 + 11 = \square$



นับต่อจาก ..... ไปอีก ..... จะได้ .....  
ดังนั้น  $11 + 8 = \dots\dots\dots$