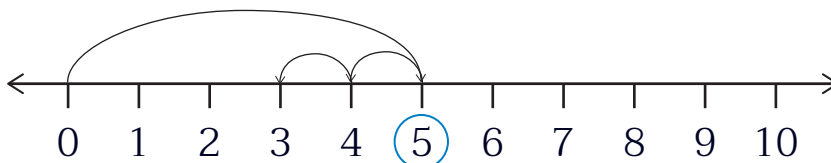




แบบฝึกหัด 2.19

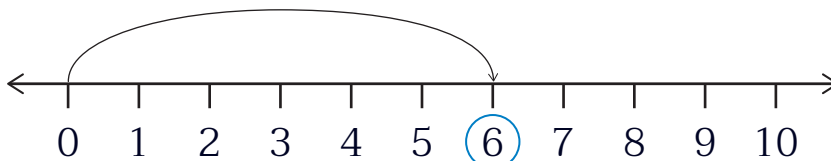
1) ทหาผลลบโดยใช้เส้นจำนวน และเติมคำตอบ

1) $5 - 2 = \square$



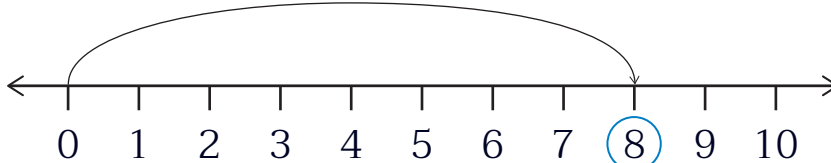
ตอบ

2) $6 - 4 = \square$



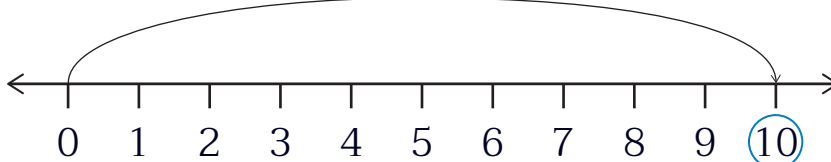
ตอบ

3) $8 - 3 = \square$



ตอบ

4) $10 - 2 = \square$



ตอบ



๒) หาผลลบโดยใช้เส้นจำนวน และเติมคำตอบ

1) $9 - 3 = \square$



ตอบ

2) $8 - 2 = \square$



ตอบ

3) $10 - 6 = \square$



ตอบ

4) $10 - 4 = \square$



ตอบ