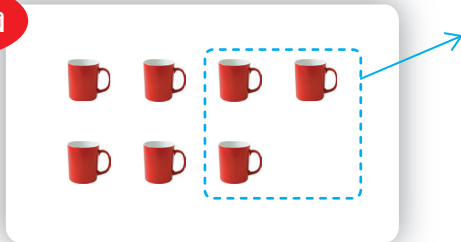




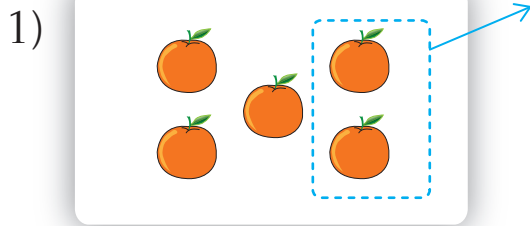
แบบฝึกหัด 2.14

1 เขียนตัวเลขแสดงจำนวนใน


ตัวอย่าง



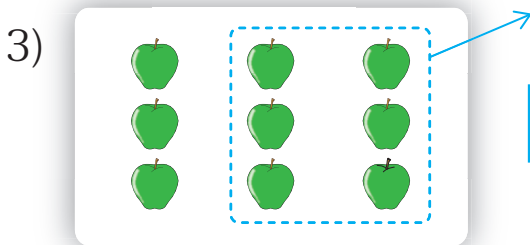
7 เอ้ออก เหลือ



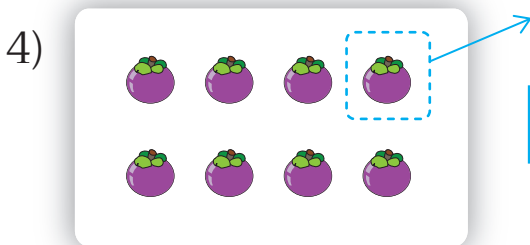
5 เอ้ออก เหลือ



8 เอ้ออก เหลือ



เอ้ออก เหลือ

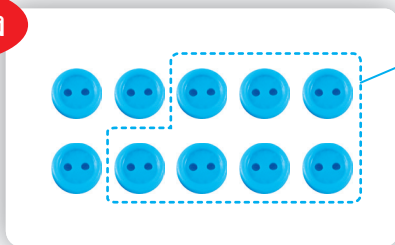


เอ้ออก เหลือ



๒ เขียนตัวเลขแสดงจำนวนใน และประโยคสัญลักษณ์การลบ

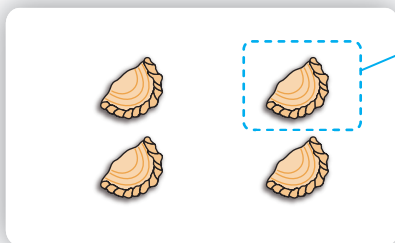
ตัวอย่าง



เาออก เหลือ

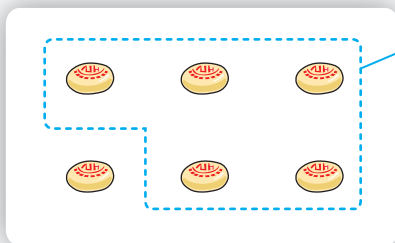
$10 - 7 = 3$

1)




เาออก เหลือ

2)




เาออก เหลือ

3)



เาออก เหลือ

4)



เาออก เหลือ



3 เขียนประโยคสัญลักษณ์การลบ

ตัวอย่าง

$8 - 4 = 4$

1)

2)

3)

4)