

รายวิชา คณิตศาสตร์

รหัสวิชา ค11101

ชั้นประถมศึกษาปีที่ 1

เรื่อง ทบทวนการหาผลบวก
ที่ผลบวกไม่เกิน 10

ครูผู้สอน ครูจิรวุฒิ ภัคดี

ครูรัชนีพร พิณฑอง



ทบทวนการหาผลบวก ที่ผลบวกไม่เกิน 10



จุดประสงค์การเรียนรู้

เพื่อให้นักเรียนสามารถหาผลบวก
ของจำนวนสองจำนวนที่ผลบวก
ไม่เกิน 10 ได้



ให้นักเรียนหาผลบวก



ให้นักเรียนหาผลบวก

$$4 + 6 = 10$$



ให้นักเรียนหาผลบวก

$$2 + 7 = \boxed{9}$$



ให้นักเรียนหาผลบวก

$$4 + 3 =$$

7



ให้นักเรียนหาผลบวก

$$5 + 3 = \boxed{8}$$



ให้นักเรียนหาผลบวก

$$6 + 0 = \boxed{6}$$



ให้นักเรียนหาผลบวก

$$4 + 4 = 8$$



ให้นักเรียนหาผลบวก

$$4 + 1 = 5$$



แม่ค้าขายขนมไปแล้ว 3 ถุง ขายได้เพิ่ม
อีก 5 ถุง แม่ค้าขายขนมได้ทั้งหมดก็ถุง



แม่ค้าขายขนมไปแล้ว 3 ถุง ขายได้เพิ่ม
อีก 5 ถุง แม่ค้าขายขนมได้ทั้งหมดกี่ถุง



โจทย์ถามอะไร

แม่ค้าขายขนมได้ทั้งหมดกี่ถุง



โจทย์บอกอะไร


แม่ค้าขายขนมไปแล้ว 3 ถุง

ขายได้เพิ่มอีก 5 ถุง

แม่ค้าขายขนมไปแล้ว 3 ถุง ขายได้เพิ่ม
อีก 5 ถุง แม่ค้าขายขนมได้ทั้งหมดก็ถุง



แม่ค้าขายขนมทั้งหมด
มากกว่าหรือน้อยกว่า
3 ถุง เพราะเหตุใด

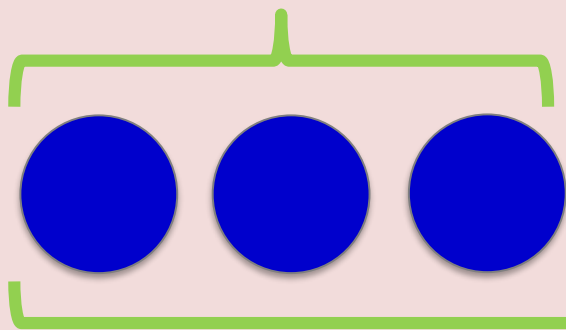
มากกว่า 

เพราะขายได้แล้ว 3 ถุง
และขายได้อีก 5 ถุง


แม่ค้าขายขนมไปแล้ว 3 ถุง ขายได้เพิ่ม
อีก 5 ถุง แม่ค้าขายขนมได้ทั้งหมดกี่ถุง



ขายขนมไปแล้ว



ขายขนมได้เพิ่ม



ขายขนมได้ทั้งหมด

แม่ค้าขายขนมไปแล้ว 3 ถุง ขายได้เพิ่ม
อีก 5 ถุง แม่ค้าขายขนมได้ทั้งหมดกี่ถุง



หาคำตอบด้วยวิธีใด

วิธีบวก

เขียนเป็นประโยคสัญลักษณ์ได้อย่างไร

$$3 + 5 = \square$$

แม่ค้าขายขนมไปแล้ว 3 ถุง ขายได้เพิ่ม
อีก 5 ถุง แม่ค้าขายขนมได้ทั้งหมดกี่ถุง



แม่ค้าขายขนมได้ทั้งหมดกี่ถุง

8 ถุง

8 เป็นคำตอบที่สมเหตุสมผลหรือไม่

สมเหตุสมผล เพราะ 8 มากกว่า 3

เกมบิงโก



เกมบิงโก (รอบที่ 1)



ครูแจกแผ่นบิงโกให้นักเรียนคนละแผ่น โดยแต่ละแผ่นมีตัวเลข
ที่เป็นผลบวกของจำนวนเดียวกันสองจำนวนที่ผลบวกไม่เกิน 10



3	9	6	5
8	5	9	7
9	7	5	3
5	10	7	9

3	4	6	5
2	5	9	7
4	7	8	3
5	1	7	0

2	9	3	5
0	6	8	7
9	7	5	3
5	4	7	6



BINGO

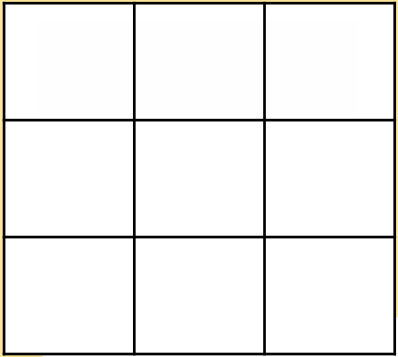
3	9	6	5
8	5	9	7
9	7	5	3
5	10	7	9

3	4	6	5
2	5	9	7
4	7	8	3
5	1	7	0

BINGO

3	9	6	5
8	5	9	7
9	7	5	3
5	10	7	9

3	4	6	5
2	5	9	7
4	7	8	3
5	1	7	0



เกมบิงโก (รอบที่ 2)



ครูแจกแผ่นบิงโกที่ไม่มีตัวเลขให้นักเรียนคนละ 1 แผ่น
ให้นักเรียนเขียนผลบวกของจำนวนเดียวกันสองจำนวน
ที่ผลบวกไม่เกิน 10 ลงในแผ่นบิงโก จากนั้นครูโยนลูกเต๋า
ให้นักเรียนแต่ละคนหาผลบวกในใจพร้อมทั้งเขียนกากบาท
ลงในแผ่นบิงโก **ใครกาเป็นแนวตั้ง แนวนอน แนวทแยง**
ครบ 3 จำนวนเป็นผู้ชนะ



สรุป

การบวกจำนวนสองจำนวน เป็นการ
นำรวมจำนวนสิ่งต่าง ๆ สองกลุ่ม





บทเรียนครั้งต่อไป

เรื่อง การลบโดยการเอาออก
ที่ตัวตั้งไม่เกิน 10



