





แบบฝึกหัด 2.13

1) ชิดเส้นใต้ส่วนที่โจทย์บอกและเขียนวงล้อมรอบส่วนที่โจทย์ถาม พร้อมเขียนประโยคสัญลักษณ์และหาคำตอบ

1)



โจทย์ปัญหา แม่ซื้อมะม่วงสุก 4 ผล ซื้อมะม่วงดิบ 5 ผล
แม่ซื้อมะม่วงทั้งหมดกี่ผล

ประโยคสัญลักษณ์

ตอบ

2)



โจทย์ปัญหา กระถางแรกมีดอกมะลิ 6 ดอก อีกกระถาง
มีดอกมะลิ 2 ดอก รวมมีดอกมะลิกี่ดอก

ประโยคสัญลักษณ์

ตอบ



3) โจทย์ปัญหา ตอนเช้าแนนตีมนมไป 2 กล่อง ตอนบ่ายตีมนมอีก 2 กล่อง วันนี้แนนตีมนมทั้งหมดกี่กล่อง

ประโยคสัญลักษณ์

ตอบ

4) โจทย์ปัญหา ในจานมีส้ม 2 ผล มีส้มน้อยกว่าแอปเปิล 3 ผล ในจานมีแอปเปิลทั้งหมดกี่ผล

ประโยคสัญลักษณ์

ตอบ

5) โจทย์ปัญหา จูนมีกางเกง 4 ตัว ซืือกางเกงเพิ่มอีก 3 ตัว จูนมีกางเกงทั้งหมดกี่ตัว

ประโยคสัญลักษณ์

ตอบ

6) โจทย์ปัญหา แม่คั้นน้ำส้ม 3 แก้ว ยายคั้นน้ำส้ม 5 แก้ว แม่และยายคั้นน้ำส้มรวมทั้งหมดกี่แก้ว

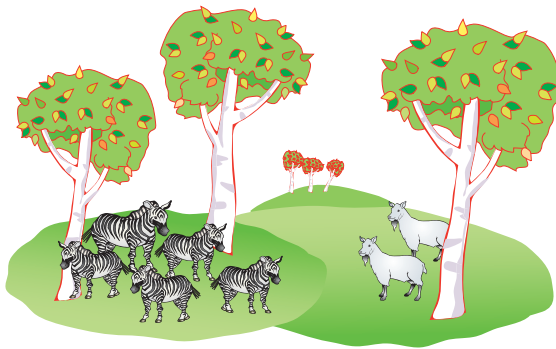
ประโยคสัญลักษณ์

ตอบ



2 เขียนคำถามเพื่อสร้างโจทย์ปัญหาการบวก และเขียนประโยคสัญลักษณ์

1)




โจทย์ปัญหา ในสวนสัตว์มีม้าลาย 5 ตัว มีแพะ 2 ตัว

.....

ประโยคสัญลักษณ์

2)



โจทย์ปัญหา บนต้นไม้มีลิง 4 ตัว กำลังปีนขึ้นต้นไม้ 2 ตัว

.....

ประโยคสัญลักษณ์