

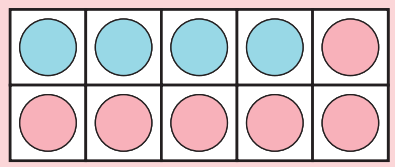


แบบฝึกหัด 2.9

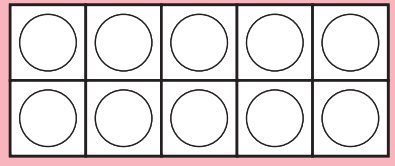
1 ระบายสีแสดงจำนวนในกรอบสี่เหลี่ยม เพื่อหาจำนวนที่หายไป

ตัวอย่าง

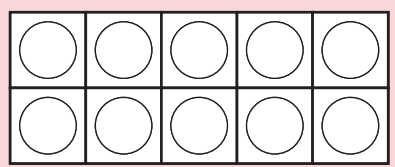
$$\boxed{4} + \boxed{6} = \boxed{10}$$



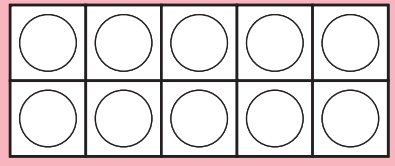
1) $\boxed{} + \boxed{3} = \boxed{10}$



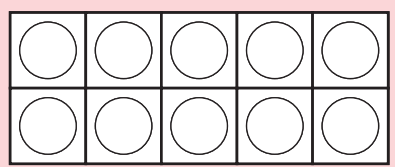
2) $\boxed{1} + \boxed{} = \boxed{10}$

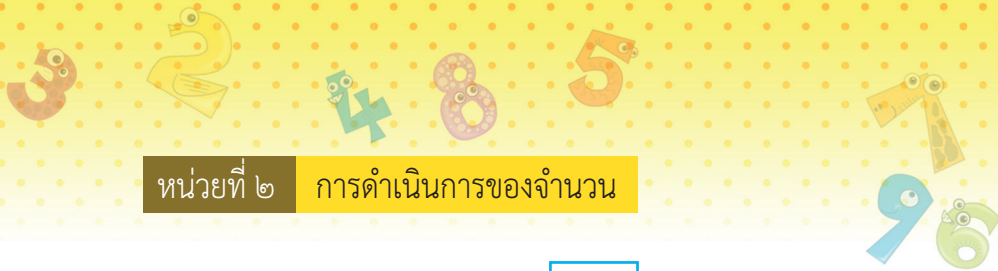


3) $\boxed{} + \boxed{2} = \boxed{10}$



4) $\boxed{0} + \boxed{} = \boxed{10}$





๒ เติมจำนวนใน

1) + 5 = 7

2) 6 + = 9

3) + 0 = 4

4) 7 + = 10

5) 5 + = 5

6) 1 + 9 = + 8

7) + 7 = 2 + 6