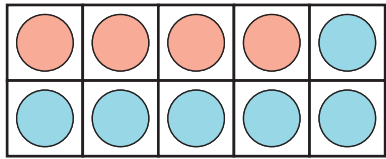




แบบฝึกหัด 2.8

1 เขียนตัวเลขแสดงจำนวน พร้อมเขียนประโยคสัญลักษณ์การบวก

1)

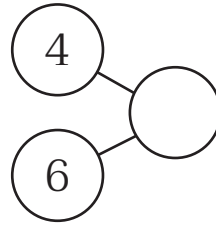


เขียนประโยคสัญลักษณ์ได้

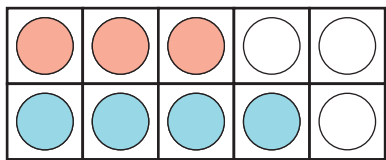
$4 + 6 = \square$

หรือ

$6 + 4 = \square$



2)

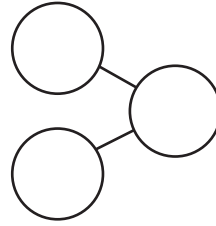


เขียนประโยคสัญลักษณ์ได้

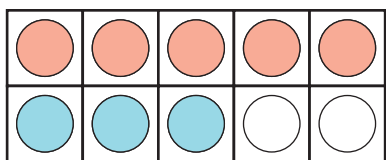
$\square + \square = \square$

หรือ

$\square + \square = \square$



3)

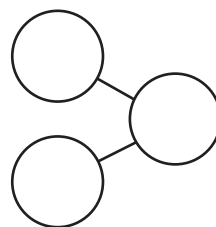


เขียนประโยคสัญลักษณ์ได้

$\square + \square = \square$

หรือ

$\square + \square = \square$





๒) เติมจำนวนใน

1)  $\boxed{4} + \boxed{5} = \boxed{\phantom{00}}$

$\boxed{5} + \boxed{4} = \boxed{\phantom{00}}$

$\boxed{5} + \boxed{4} = \boxed{\phantom{00}} + \boxed{5}$

2)

$\boxed{6} + \boxed{2} = \boxed{\phantom{00}} + \boxed{6}$

3)

$\boxed{\phantom{00}} + \boxed{3} = \boxed{3} + \boxed{4}$

4)

$\boxed{\phantom{00}} + \boxed{2} = \boxed{2} + \boxed{8}$

5)

$\boxed{7} + \boxed{1} = \boxed{1} + \boxed{\phantom{00}}$

6)

$\boxed{0} + \boxed{9} = \boxed{\phantom{00}} + \boxed{0}$