
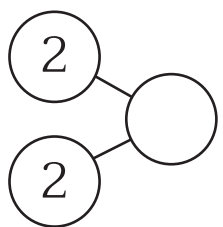




แบบฝึกหัด 2.7

1 เขียนความสัมพันธ์ของจำนวนแบบส่วนย่อย-ส่วนรวม พร้อมเขียนประโยคสัญลักษณ์การบวก


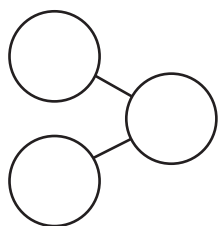
1)

เขียนประโยคสัญลักษณ์ได้

2 + =

2)

เขียนประโยคสัญลักษณ์ได้

..... + =

3)




เขียนประโยคสัญลักษณ์ได้

..... + =



๒ ทาผลบวก

1)

$1 + 1 = \square$

แล้ว

$1 + 2 = \square$

2)

$2 + 2 = \square$

แล้ว

$2 + 3 = \square$

3)

$4 + 4 = \square$

แล้ว

$4 + 5 = \square$

4)

$3 + 3 = \square$

แล้ว

$3 + 2 = \square$

5)

$5 + 5 = \square$

แล้ว

$5 + 4 = \square$

6)

$5 + 5 = \square$

แล้ว

$5 + 6 = \square$