




แบบฝึกหัด 2.4


1) เติมจำนวนใน 

1)



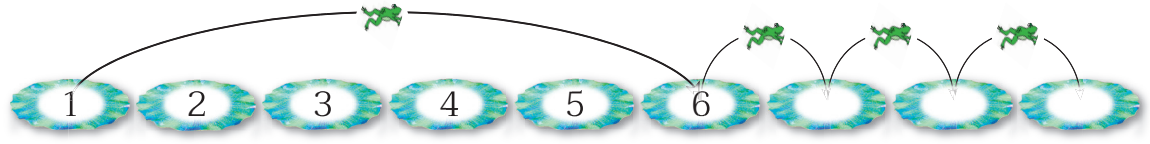
อยู่ที่ 3 กระโดดไปอีก 2 เป็น .....  
3 + ..... = .....

2)



อยู่ที่ 4 กระโดดไปอีก ..... เป็น .....  
4 + ..... = .....

3)

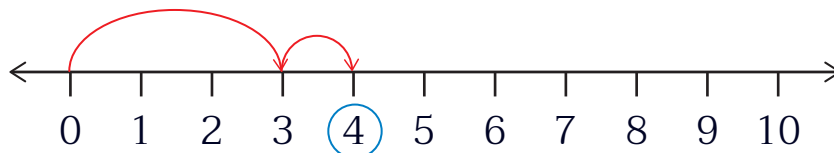


อยู่ที่ ..... กระโดดไปอีก ..... เป็น .....  
..... + ..... = .....



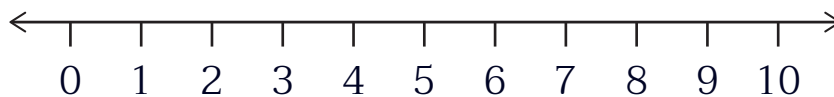
๒ ทหาผลบวกโดยใช้เส้นจำนวน

1)  $3 + 1 = \square$



ดังนั้น  $3 + 1 = \dots\dots\dots$

2)  $6 + 2 = \square$



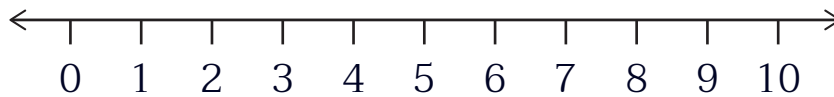
ดังนั้น  $6 + 2 = \dots\dots\dots$

3)  $7 + 2 = \square$



ดังนั้น  $7 + 2 = \dots\dots\dots$

4)  $9 + 1 = \square$



ดังนั้น  $9 + 1 = \dots\dots\dots$