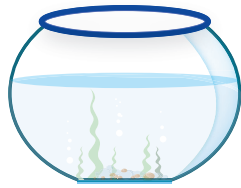




แบบฝึกหัด 2.3

1) เติมจำนวนใน

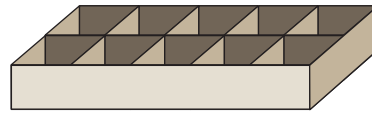
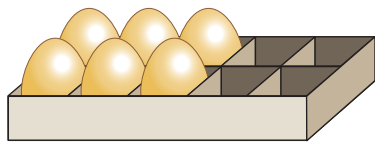
1)



มีปลา 0 ตัว ซื้อมาเพิ่มอีก ตัว รวมมีปลา ตัว

0 + =

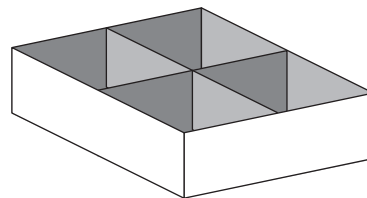

2)



ไข่ ฟอง กับไข่ ฟอง

..... + =

3)




4 รวมกับ เป็น

..... + =



4)



..... รวมกับ เป็น

..... + =

5)



..... รวมกับ เป็น

..... + =

6)



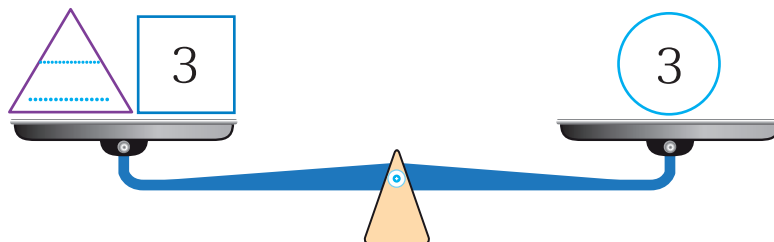
..... รวมกับ เป็น

..... + =

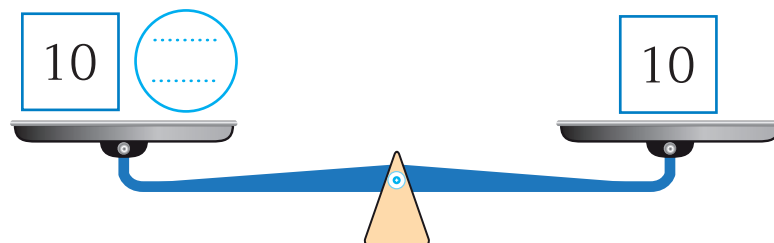


๒ เติมจำนวนในช่องว่าง

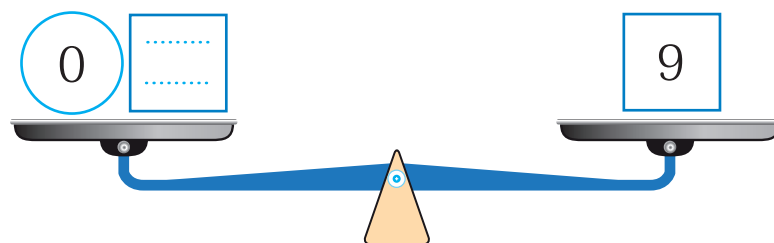
1)



2)



3)



๓ เติมจำนวนใน

1) $5 + 0 = \dots\dots\dots$

2) $0 + 9 = \dots\dots\dots$

3) $7 + \dots\dots\dots = 7$

4) $\dots\dots\dots + 10 = 10$

5) $\dots\dots\dots + 0 = 4$