

รายวิชา คณิตศาสตร์

รหัสวิชา ค11101

ชั้นประถมศึกษาปีที่ 1

เรื่อง การแสดงสิ่งต่าง ๆ

ตามตำแหน่ง

ครูผู้สอน ครูจิรวุฒิ ภักดี

ครูรัชนีพร พิณฑอง



การแสดงสิ่งต่าง ๆ

ตามตำแหน่ง



จุดประสงค์การเรียนรู้


เพื่อให้นักเรียนสามารถ
แสดงสิ่งต่าง ๆ ตามตำแหน่ง
และอันดับที่กำหนด





ข้อตกลงในการเรียน

สองตาดู



สองหูฟัง



สมองคิด



มีสติ



กลับบ้านทบทวน



ไม่เข้าใจให้ถาม



เฮ้ เฮ้ เฮ้



เรียนรู้อย่างฉลาด



การแสดงสิ่งต่าง ๆ
ตามตำแหน่ง



ตู้เก็บของเล่น

ชั้นบน	ไม้บล็อก	ลูกแก้ว	รถลาก
ชั้นกลาง	เกม	รถไฟ	หม้อข้าวหม้อแกง
ชั้นล่าง	หุ่นยนต์	ตัวต่อ	ตุ๊กตาหมี



ไม้บล็อกเก็บอยู่ชั้นใด

ชั้นบนข้างซ้าย

ตู้เก็บของเล่น

ชั้นบน	ไม้บล็อก	ลูกแก้ว	รถลาก
ชั้นกลาง	เกม	รถไฟ	หม้อข้าวหม้อแกง
ชั้นล่าง	หุ่นยนต์	ตัวต่อ	ตุ๊กตาหมี

ลูกแก้วเก็บอยู่ชั้นใด

ชั้นบนตรงกลาง



ตู้เก็บของเล่น

ชั้นบน	ไม้บล็อก	ลูกแก้ว	รถลาก
ชั้นกลาง	เกม	รถไฟ	หม้อข้าวหม้อแกง
ชั้นล่าง	หุ่นยนต์	ตัวต่อ	ตุ๊กตาหมี

รถลากเก็บอยู่ชั้นใด

ชั้นบนข้างขวา



ตู้เก็บของเล่น

ชั้นบน	ไม้บล็อก	ลูกแก้ว	รถลาก
ชั้นกลาง	เกม	รถไฟ	หม้อข้าวหม้อแกง
ชั้นล่าง	หุ่นยนต์	ตัวต่อ	ตุ๊กตาหมี



เกมเก็บอยู่ชั้นใด


ชั้นกลางข้างซ้าย

ตู้เก็บของเล่น

ชั้นบน	ไม้บล็อก	ลูกแก้ว	รถลาก
ชั้นกลาง	เกม	รถไฟ	หม้อข้าวหม้อแกง
ชั้นล่าง	หุ่นยนต์	ตัวต่อ	ตุ๊กตาหมี

รถไฟเก็บอยู่ชั้นใด

ชั้นกลางตรงกลาง



ตู้เก็บของเล่น

ชั้นบน	ไม้บล็อก	ลูกแก้ว	รถลาก
ชั้นกลาง	เกม	รถไฟ	หม้อข้าวหม้อแกง
ชั้นล่าง	หุ่นยนต์	ตัวต่อ	ตุ๊กตาหมี

หม้อข้าวหม้อแกงเก็บอยู่ชั้นใด

ชั้นกลางข้างขวา



ตู้เก็บของเล่น

ชั้นบน	ไม้บล็อก	ลูกแก้ว	รถลาก
ชั้นกลาง	เกม	รถไฟ	หม้อข้าวหม้อแกง
ชั้นล่าง	หุ่นยนต์	ตัวต่อ	ตุ๊กตาหมี



หุ่นยนต์เก็บอยู่ชั้นใด

ชั้นล่างข้างซ้าย

ตู้เก็บของเล่น

ชั้นบน	ไม้บล็อก	ลูกแก้ว	รถลาก
ชั้นกลาง	เกม	รถไฟ	หม้อข้าวหม้อแกง
ชั้นล่าง	หุ่นยนต์	ตัวต่อ	ตุ๊กตาหมี

ตัวต่อเก็บอยู่ชั้นใด

ชั้นล่างตรงกลาง



ตู้เก็บของเล่น

ชั้นบน	ไม้บล็อก	ลูกแก้ว	รถลาก
ชั้นกลาง	เกม	รถไฟ	หม้อข้าวหม้อแกง
ชั้นล่าง	หุ่นยนต์	ตัวต่อ	ตุ๊กตาหมี




ตุ๊กตาหมีเก็บอยู่ชั้นใด

ชั้นล่างข้างขวา

ตู้เก็บอุปกรณ์กีฬา



ตู้เก็บอุปกรณ์กีฬา

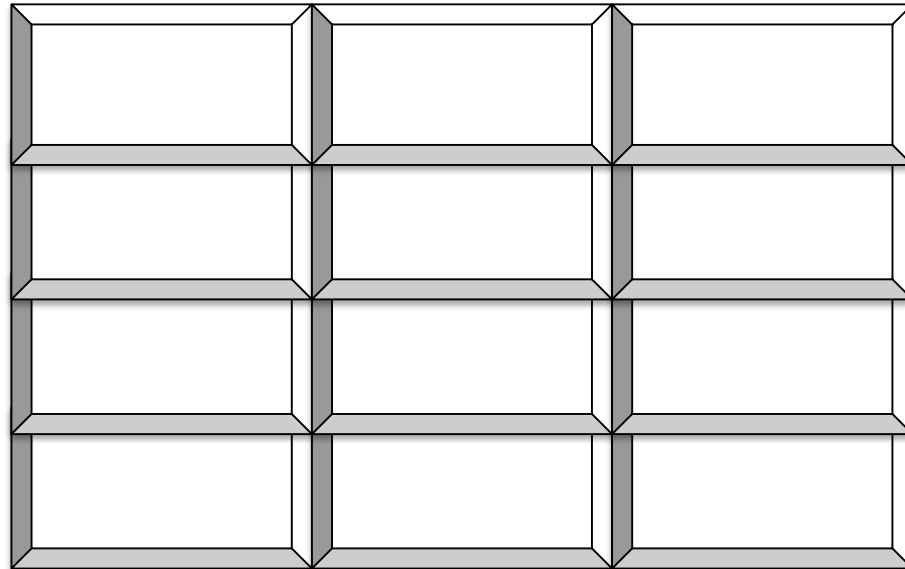


ตู้เก็บอุปกรณ์กีฬามีกี่ชั้น

4 ชั้น



ตู้เก็บอุปกรณ์กีฬา



แต่ละชั้นมีกี่ช่อง

3 ช่อง



ตู้เก็บอุปกรณ์กีฬา

ชั้นที่ 4

A

B

C

ชั้นที่ 3

A

B

C

ชั้นที่ 2

A

B

C

ชั้นที่ 1

A

B

C



ตู้เก็บอุปกรณ์กีฬา

ชั้นที่ 4

A	B	C
---	---	---


ชั้นที่ 3

A	B	C
---	---	---

ชั้นที่ 2

A	B	C
---	---	---

ชั้นที่ 1

A	B	C 
---	---	---



ลูกฟุตบอลเก็บที่ชั้น 1 ช่อง C



ตู้เก็บอุปกรณ์กีฬา

ชั้นที่ 4

A	B	C
---	---	---

ชั้นที่ 3

A	B	C
---	---	---

ชั้นที่ 2

A 	B	C
---	---	---

ชั้นที่ 1

A	B	C 
---	---	---



ลูกบาสเกตบอลเก็บที่ชั้น 2 ช่อง A



ตู้เก็บอุปกรณ์กีฬา

ชั้นที่ 4

A	B	C
---	---	---

ชั้นที่ 3

A	B 	C
---	---	---

ชั้นที่ 2

A 	B	C
---	---	---

ชั้นที่ 1

A	B	C 
---	---	---




ลูกวอลเลย์บอลเก็บที่ชั้น 3 ช่อง B



ตู้เก็บอุปกรณ์กีฬา

ชั้นที่ 4



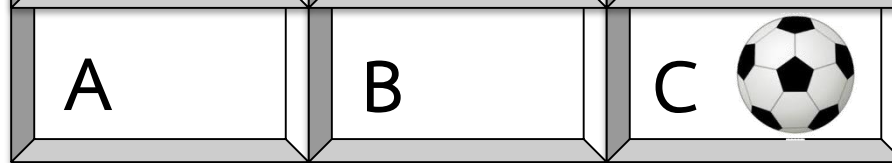
ชั้นที่ 3



ชั้นที่ 2



ชั้นที่ 1








ลูกแบดมินตันเก็บที่ชั้น 4 ช่อง A



ตู้เก็บอุปกรณ์กีฬา

ชั้นที่ 4

A 	B	C 
A	B 	C
A 	B	C
A	B	C 

ชั้นที่ 3

ชั้นที่ 2

ชั้นที่ 1




ลูกปิงปองเก็บที่ชั้น 4 ช่อง C



ตู้เก็บอุปกรณ์กีฬา

ชั้นที่ 4



ชั้นที่ 3



ชั้นที่ 2



ชั้นที่ 1




ลูกกอล์ฟเก็บที่ชั้น 3 ช่อง A



ตู้เก็บอุปกรณ์กีฬา

ชั้นที่ 4



ชั้นที่ 3



ชั้นที่ 2



ชั้นที่ 1



ลูกแฮนด์บอลเก็บที่ชั้น 2 ช่อง C



ตู้เก็บอุปกรณ์กีฬา

ชั้นที่ 4

A



B

C



ชั้นที่ 3

A



B



C

ชั้นที่ 2

A



B

C



ชั้นที่ 1

A

B



C



ลูกรักบี้เก็บที่ชั้น 1 ช่อง B



ตู้เก็บอุปกรณ์กีฬา

ชั้นที่ 4

A



B

C



ชั้นที่ 3

A



B



C

ชั้นที่ 2

A



B



C



ชั้นที่ 1

A

B



C



ลูกตะกร้อเก็บที่ชั้น 2 ช่อง B




คำชี้แจงกิจกรรมนักเรียน



1. ให้นักเรียนทำแบบฝึกหัด 1.32

คำชี้แจงบทบาทครูปลายทาง



1. แจกแบบฝึกหัด 1.32 ให้นักเรียน
2. ครูอธิบายคำชี้แจงแต่ละข้อ
3. ครูตรวจสอบความถูกต้องและให้ความช่วยเหลือตามความเหมาะสม



แบบฝึกหัด 1.32

๑ เขียนชื่อขนมลงในชั้นวางขนมตามตำแหน่งที่กำหนดให้

- | | | | |
|--------------|---------------|-----|--------|
| 1) กลีบลำดวน | อยู่ชั้นที่ 2 | ของ | ช่อง ก |
| 2) ฝอยทอง | อยู่ชั้นที่ 4 | ของ | ช่อง ค |
| 3) ทองเอก | อยู่ชั้นที่ 3 | ของ | ช่อง ข |
| 4) อาลัว | อยู่ชั้นที่ 2 | ของ | ช่อง ข |
| 5) บ้าบิ่น | อยู่ชั้นที่ 1 | ของ | ช่อง ค |
| 6) เม็ดขนุน | อยู่ชั้นที่ 3 | ของ | ช่อง ก |
| 7) ข้าวตู | อยู่ชั้นที่ 2 | ของ | ช่อง ค |
| 8) ทองหยิบ | อยู่ชั้นที่ 4 | ของ | ช่อง ข |
| 9) สังขยา | อยู่ชั้นที่ 1 | ของ | ช่อง ก |
| 10) ทองหยอด | อยู่ชั้นที่ 4 | ของ | ช่อง ก |
| 11) หม้อแกง | อยู่ชั้นที่ 3 | ของ | ช่อง ค |
| 12) ขนมชั้น | อยู่ชั้นที่ 1 | ของ | ช่อง ข |

ชั้นวางขนม



ใบงานที่ 1.32

การแสดงสิ่งต่าง ๆ ตามตำแหน่ง



(สามารถดาวน์โหลดได้ที่ www.dltv.ac.th)

๒ เขียนคำบอกตำแหน่งและอันดับที่ของสิ่งของที่กำหนด
คู่เก็บของ



ตัวอย่าง

กระป๋องเก็บอยู่

ชั้น 3 ช่อง B

- | | |
|-----------------------|----------------------|
| 1) ถ้วยเก็บอยู่ | <input type="text"/> |
| 2) กระเป๋าเก็บอยู่ | <input type="text"/> |
| 3) แปรงสีฟันเก็บอยู่ | <input type="text"/> |
| 4) กล่องเก็บอยู่ | <input type="text"/> |
| 5) ช้อนเก็บอยู่ | <input type="text"/> |
| 6) ขวดเก็บอยู่ | <input type="text"/> |
| 7) ผ้าเช็ดตัวเก็บอยู่ | <input type="text"/> |
| 8) จานเก็บอยู่ | <input type="text"/> |
| 9) แก้วเก็บอยู่ | <input type="text"/> |
| 10) หมวกเก็บอยู่ | <input type="text"/> |

ใบงานที่ 1.32

การแสดงสิ่งต่าง ๆ

ตามตำแหน่ง



(สามารถดาวน์โหลดได้ที่ www.dltv.ac.th)



สรุป

การบอกตำแหน่งและอันดับที่
ของสิ่งต่าง ๆ ทำให้เข้าใจตรงกัน
ว่าอยู่ที่ใด หรือกล่าวถึงสิ่งใด





บทเรียนครั้งต่อไป

เรื่อง การแสดงสิ่งต่าง ๆ
ตามตำแหน่งและอันดับที่



