

รายวิชา คณิตศาสตร์

รหัสวิชา ค11101

ชั้นประถมศึกษาปีที่ 1

เรื่อง การบอกตำแหน่งของสิ่งต่าง ๆ (2)

ครูผู้สอน ครูจิรวุฒิ ภักดี

ครูรัชนิพร พิณฑอง



# การบอกตำแหน่งของสิ่งต่าง ๆ (2)



# จุดประสงค์การเรียนรู้


เพื่อให้นักเรียนสามารถบอกตำแหน่ง  
โดยใช้คำว่า ข้างซ้าย ข้างขวา ข้างหน้า  
ข้างหลัง ถัดจาก ระหว่าง.....กับ  
ตั้งแต่.....ถึง.....





# ข้อตกลงในการเรียน

สองตาดู



สองหูฟัง



สมองคิด



มีสติ



กลับบ้านทบทวน



ไม่เข้าใจให้ถาม



เฮ้ เฮ้ เฮ้



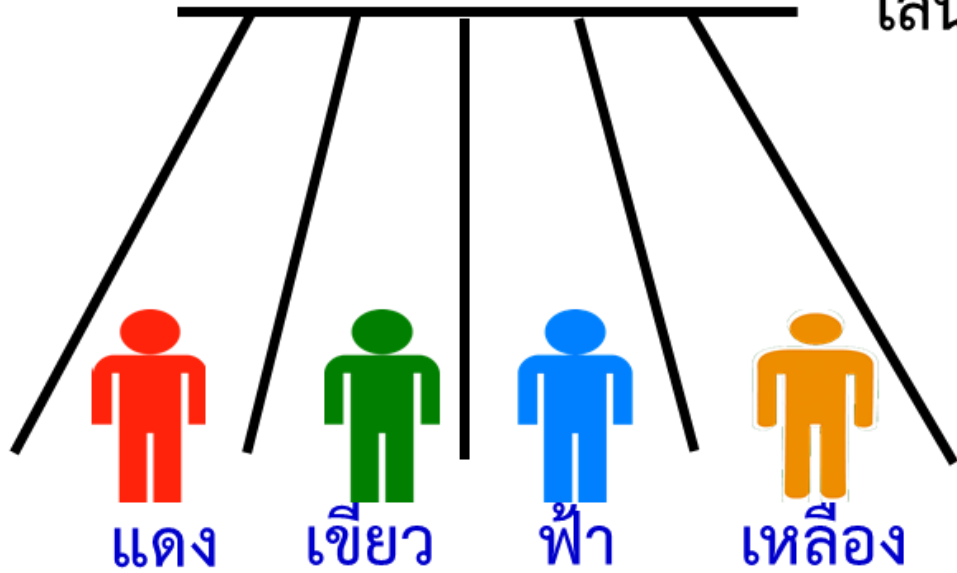
เรียนรู้อย่างฉลาด




# การบอกตำแหน่ง ของสิ่งต่าง ๆ



เส้นชัย

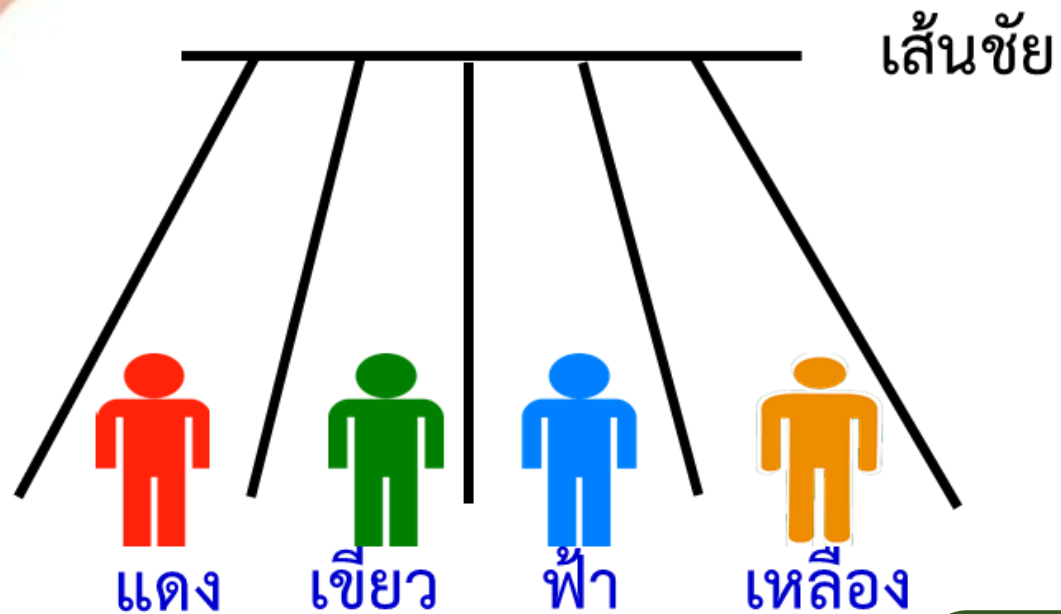


ภาพนี้เป็นภาพเกี่ยวกับอะไร



การแข่งขันวิ่ง





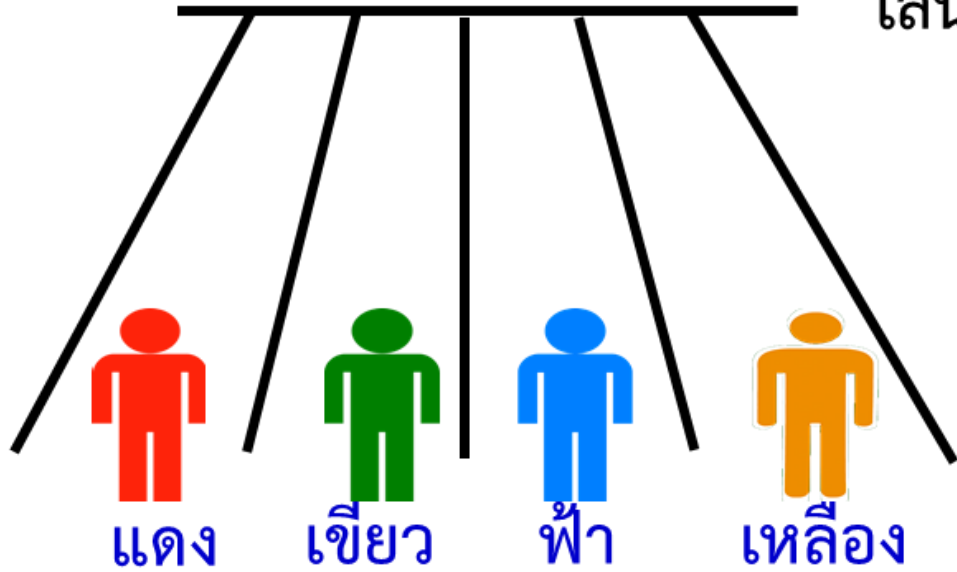
มีนักกีฬาอะไรบ้าง




สีแดง สีเขียว สีฟ้า สีเหลือง



เส้นชัย



นักกีฬาสีอะไรอยู่ข้างซ้ายของ  
นักกีฬาสีเขียว

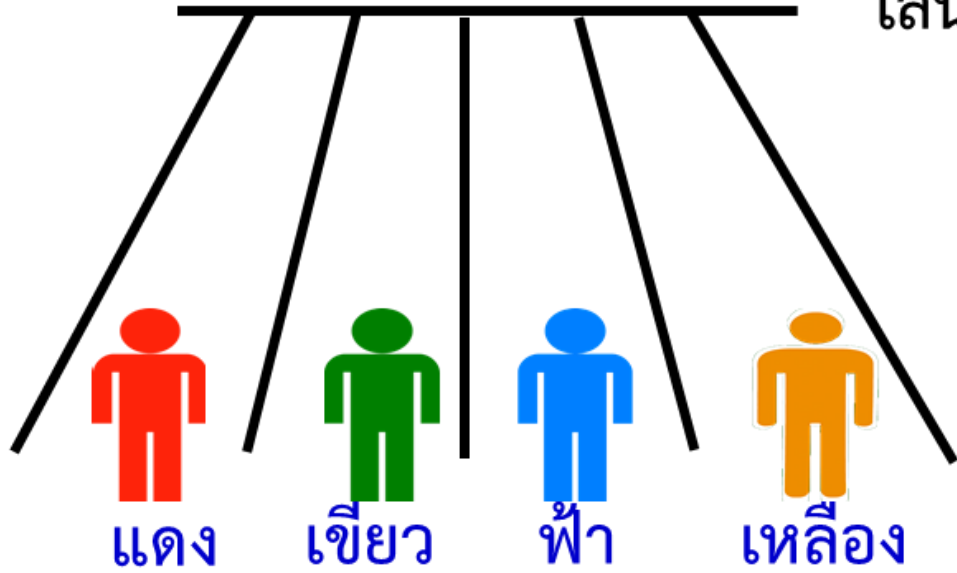


สีแดง






เส้นชัย



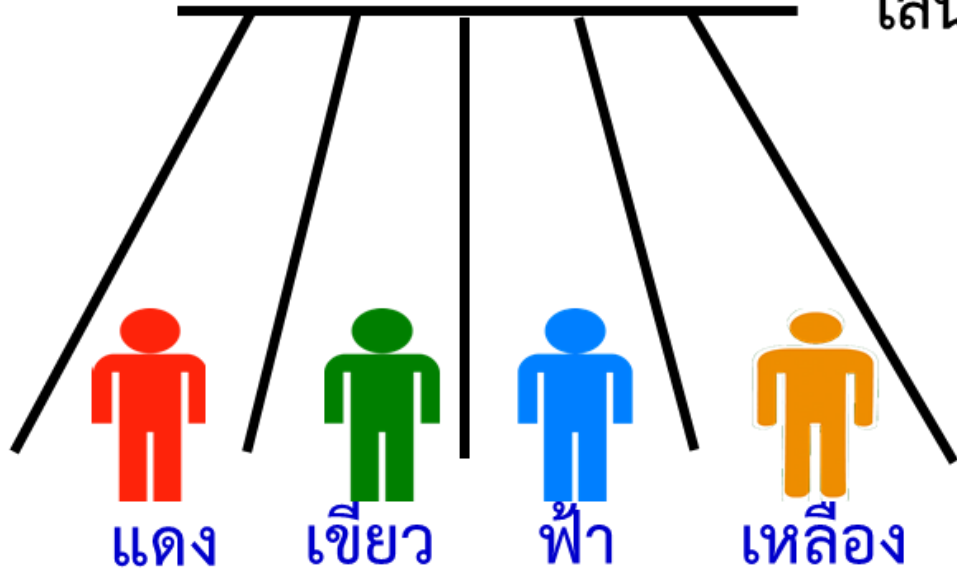
นักกีฬาสีอะไรอยู่ข้างขวาของ  
นักกีฬาสีฟ้า




สีเหลือง



เส้นชัย



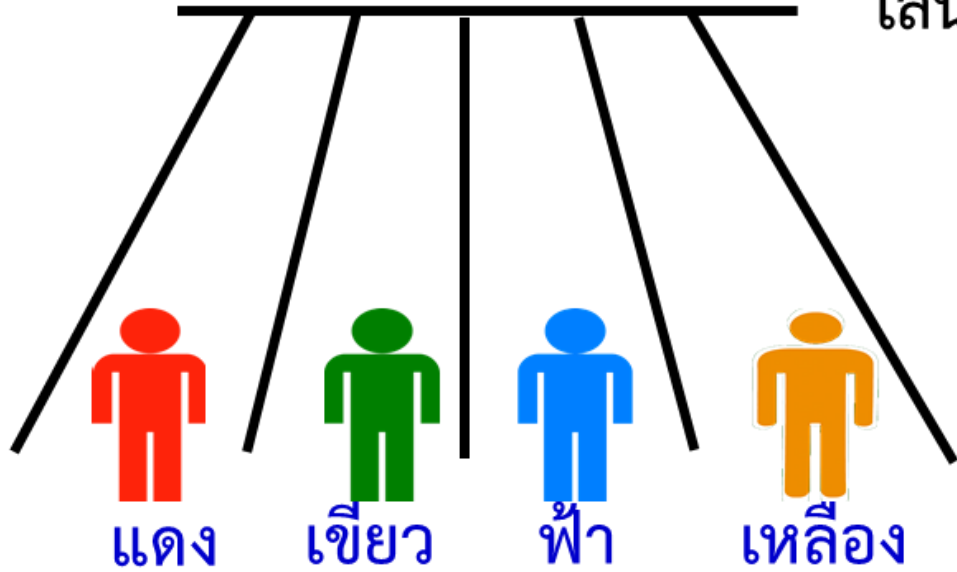
นักกีฬาสีอะไรอยู่ข้างซ้ายของ  
นักกีฬาสีเหลือง




สีฟ้า



เส้นชัย



นักกีฬาสีอะไรอยู่ข้างขวาของ  
นักกีฬาสีเขียว



สีฟ้า

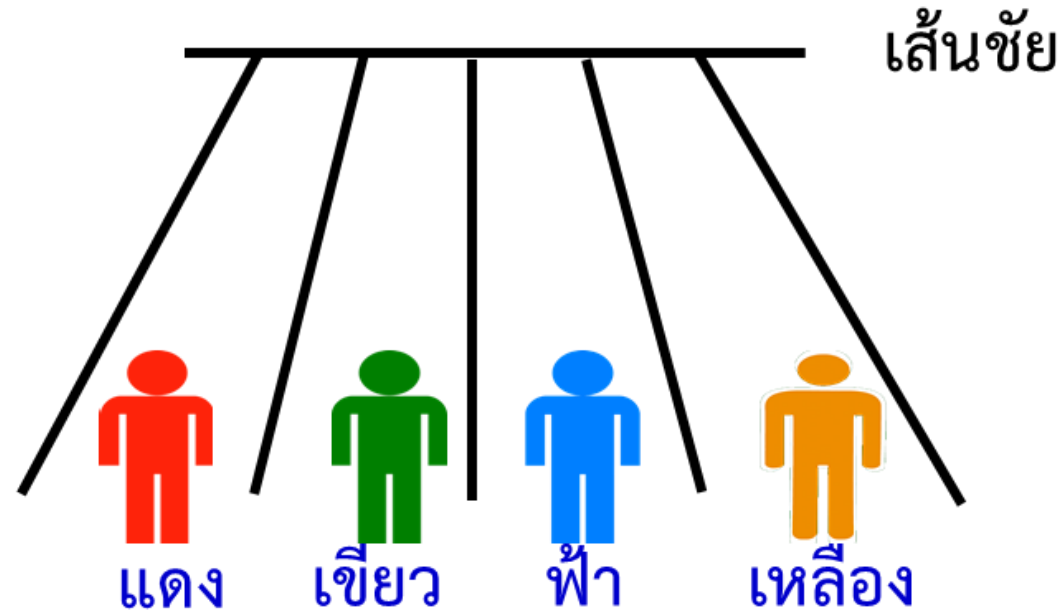


การบอกตำแหน่ง

โดยใช้คำว่า

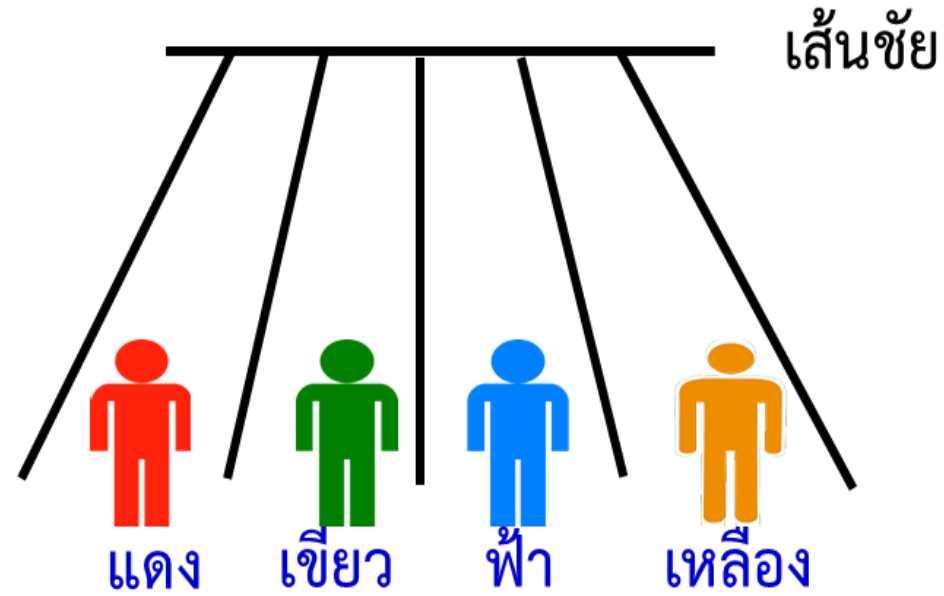
“ถัดจาก”





“ถัดจาก”

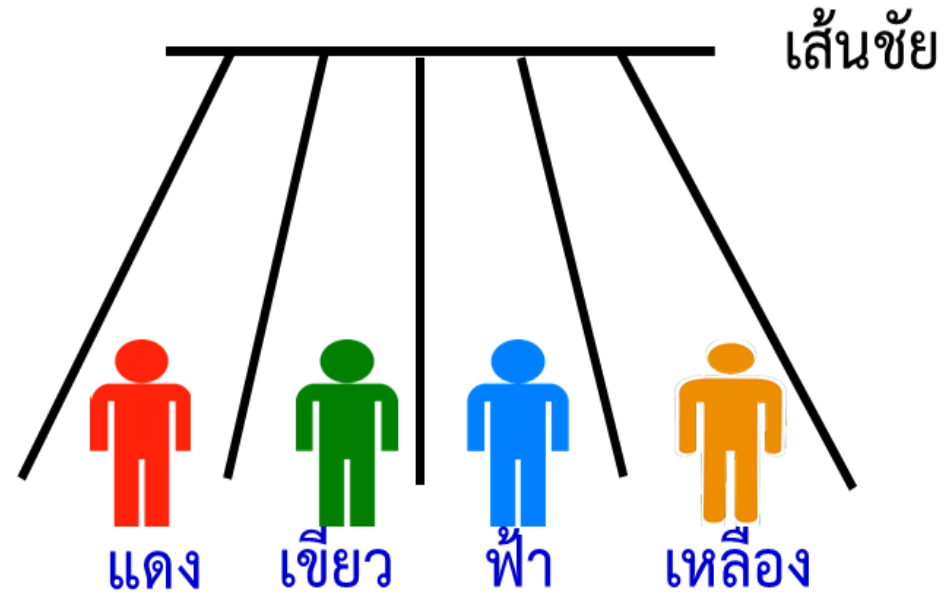
นักกีฬาสีเขียวยืนถัดจากนักกีฬาสีแดง



ถัดจากนักกีฬาสีเขียวเป็นนักกีฬาอะไร

ถัดจากนักกีฬาสีเขียวเป็นนักกีฬาฟ้า





ถัดจาก นักกีฬาสีฟ้าเป็นนักกีฬาอะไร

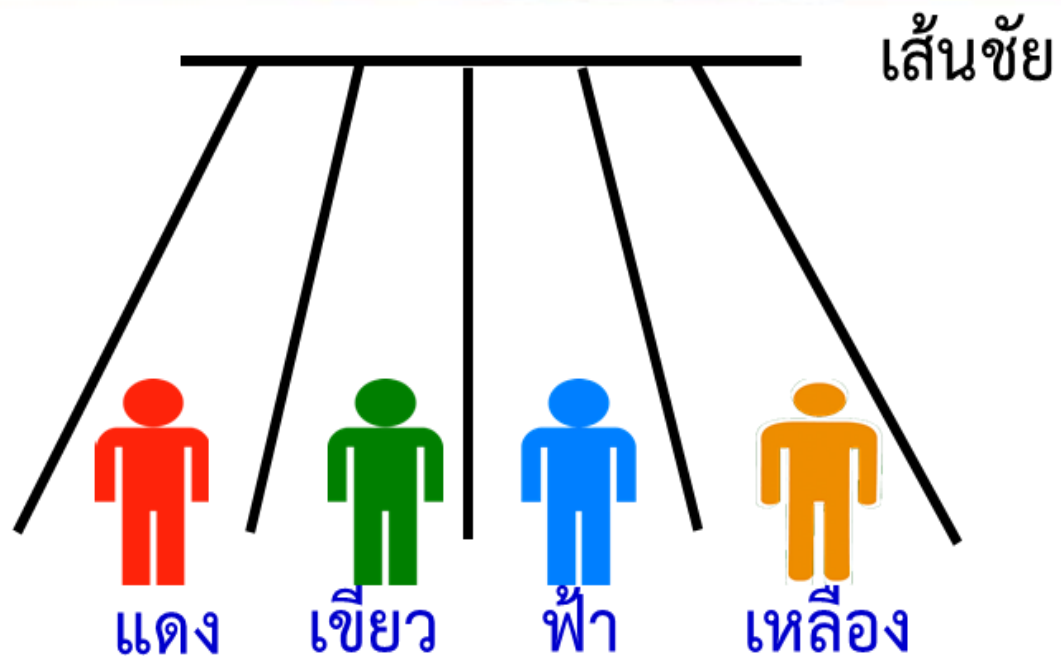
ถัดจาก นักกีฬาสีฟ้าเป็นนักกีฬา สีเหลือง



การบอกตำแหน่งโดยใช้  
คำว่า “ระหว่าง...กับ...”

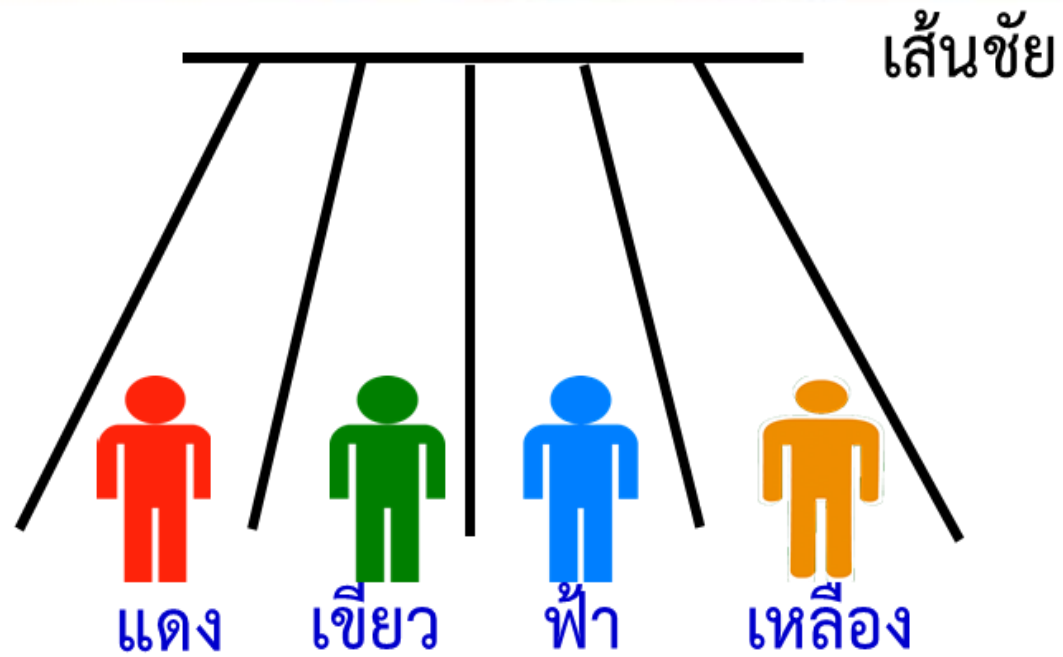






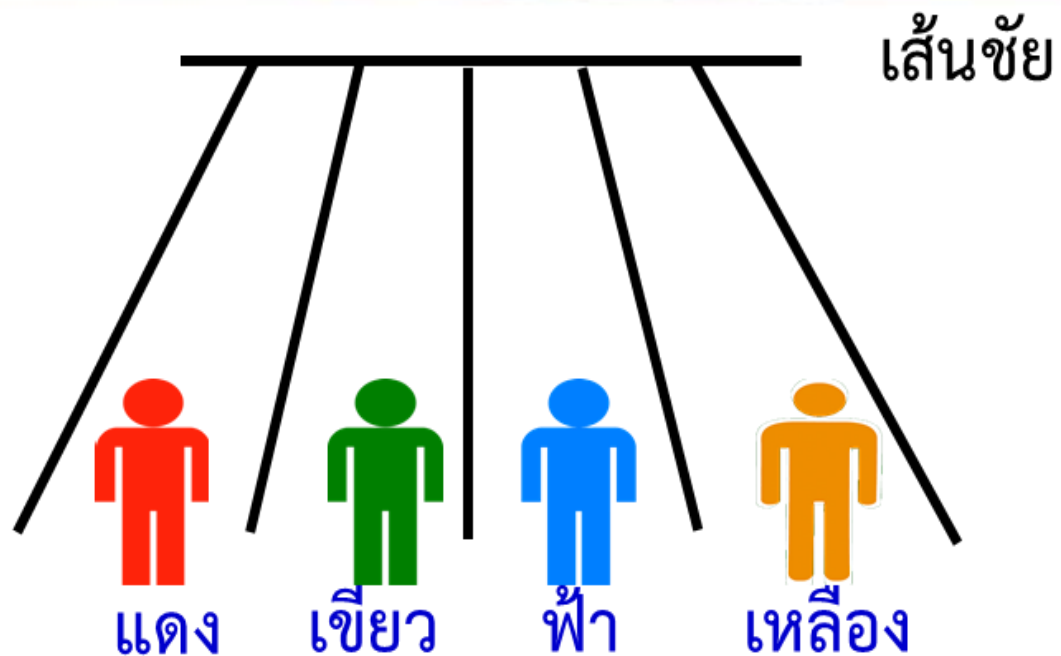
“ระหว่าง...กับ...”

นักกีฬาสีเขียวยืนระหว่างนักกีฬาสีแดงกับนักกีฬาฟ้า



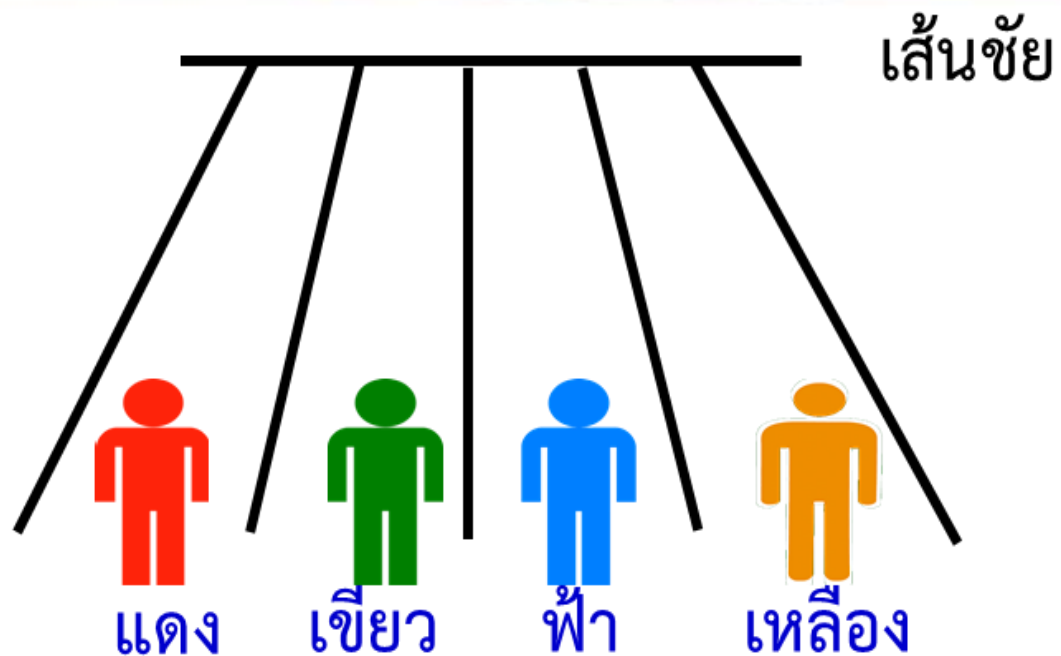
ระหว่างนักกีฬาสีแดงกับนักกีฬาฟ้าเป็นนักกีฬาอะไร

นักกีฬาเขียว



ระหว่างนักกีฬาสีเขียวกับนักกีฬาสีเหลืองเป็นนักกีฬาอะไร

นักกีฬาฟ้า



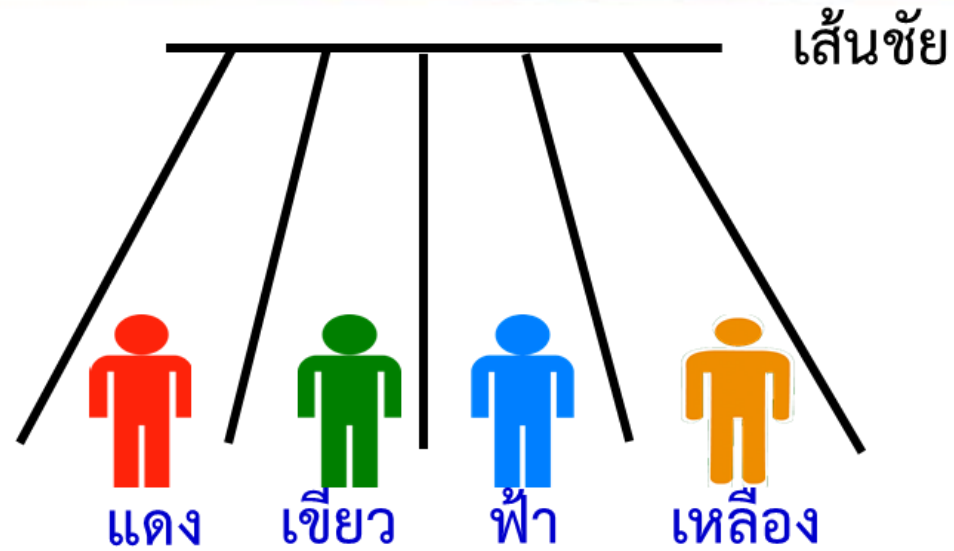
ระหว่างนักกีฬาสีแดงกับนักกีฬาสีเหลืองเป็นนักกีฬาอะไร

นักกีฬาสีเขียวและนักกีฬาฟ้า

การบอกตำแหน่งโดยใช้

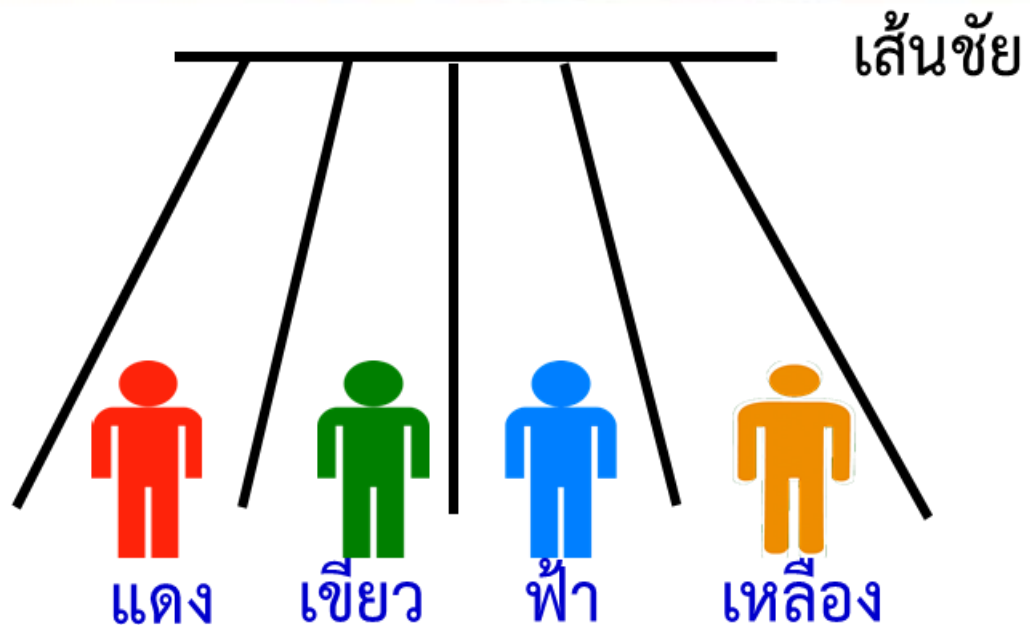
คำว่า “ตั้งแต่...ถึง...”





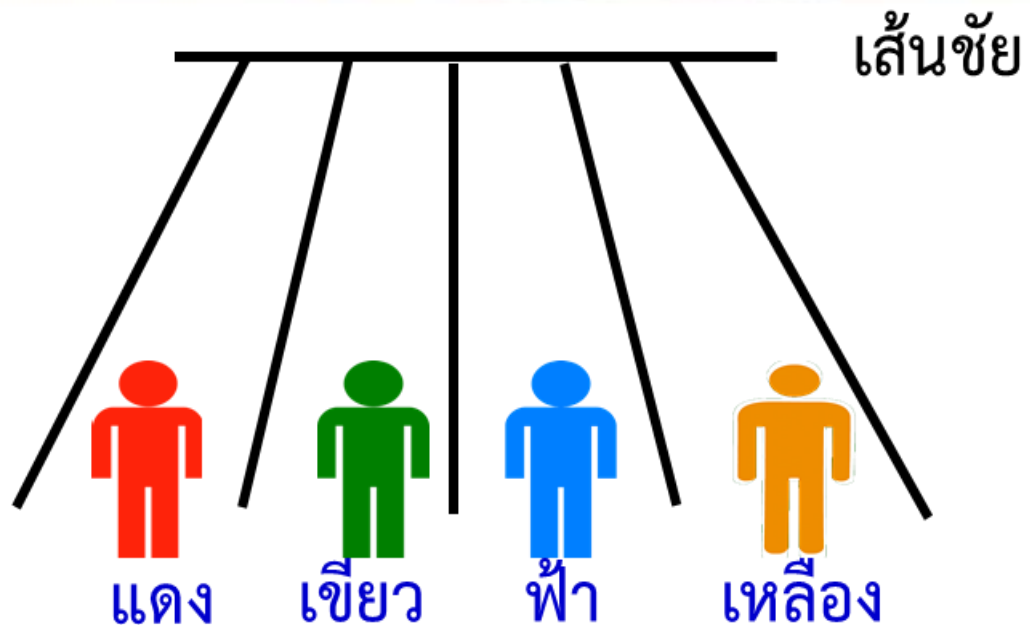
“ตั้งแต่...ถึง...”

ตั้งแต่ นักกีฬาสีแดง ถึง นักกีฬาฟ้าจะเป็น  
นักกีฬาแดง นักกีฬาเขียวและนักกีฬาฟ้า



ตั้งแต่ นักกีฬาสีเขียว ถึง นักกีฬาเหลือง เป็นนักกีฬาอะไร

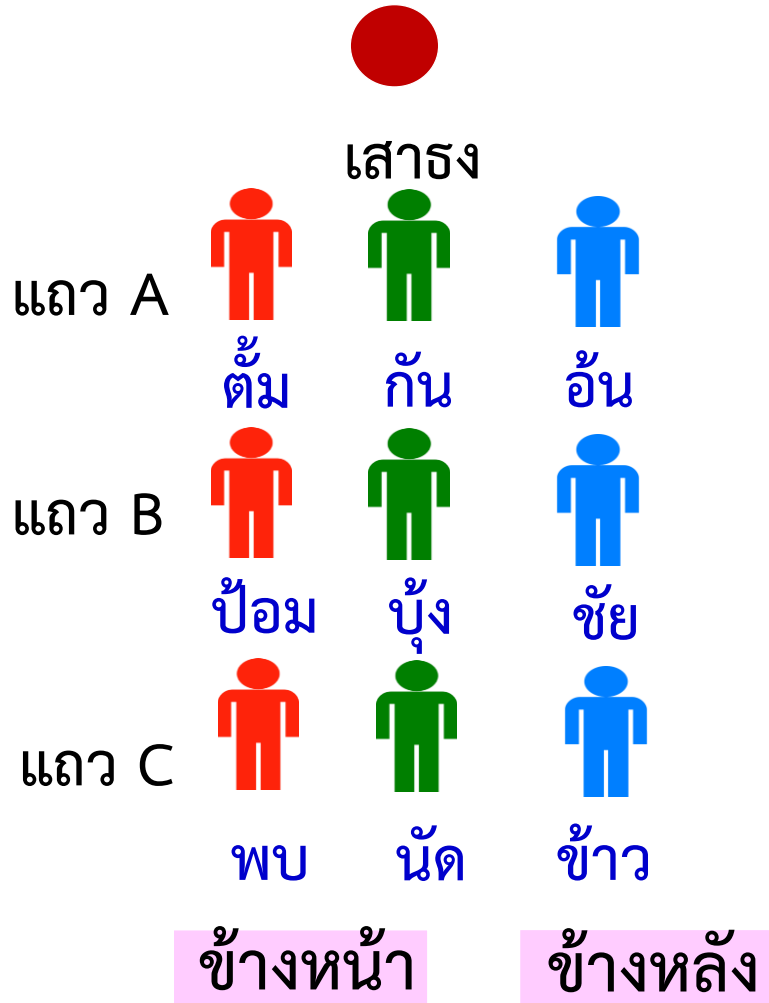
นักกีฬาเขียว นักกีฬาฟ้า และนักกีฬาเหลือง



ตั้งแต่ นักกีฬาสีแดง ถึง นักกีฬาเหลือง เป็นนักกีฬาอะไร

นักกีฬาสีแดง นักกีฬาเขียว นักกีฬาฟ้า และนักกีฬาเหลือง

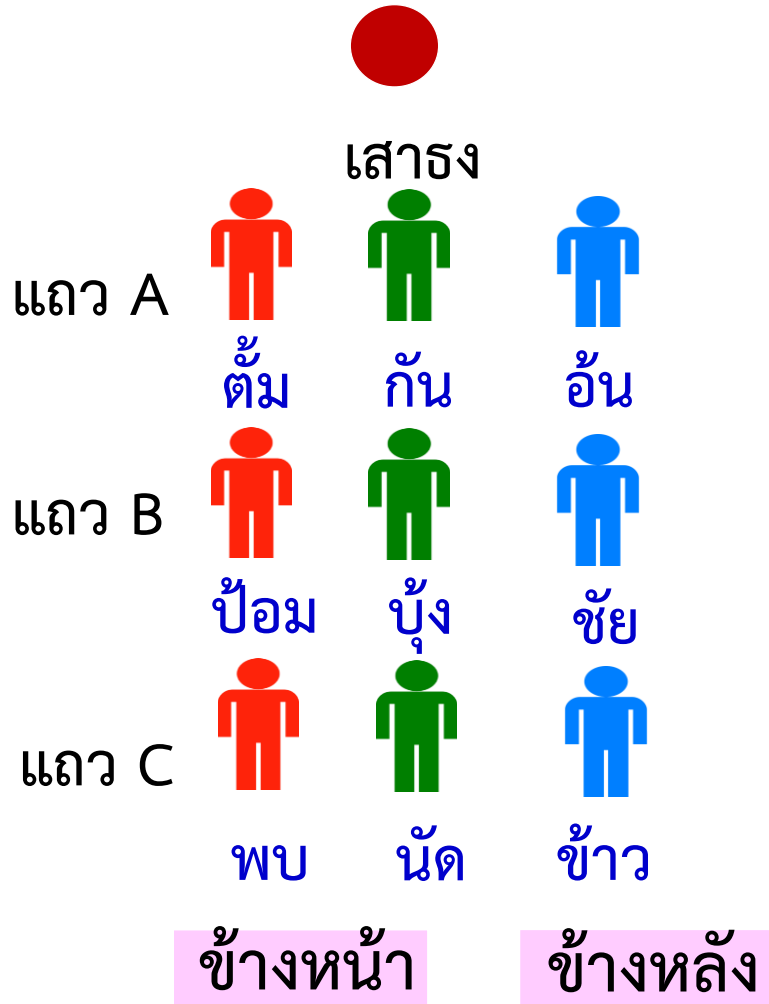





แถว A มีใครบ้าง

ต้ม กัน อัน

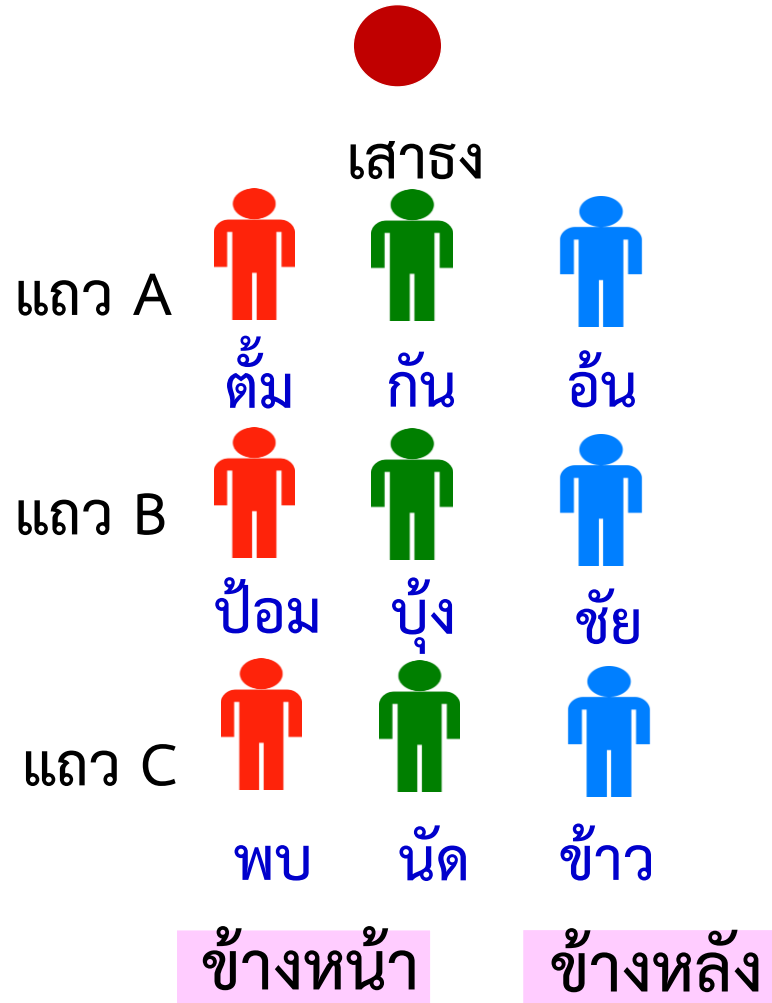





แถว B มีใครบ้าง

ป้อม บุ้ง ชัย

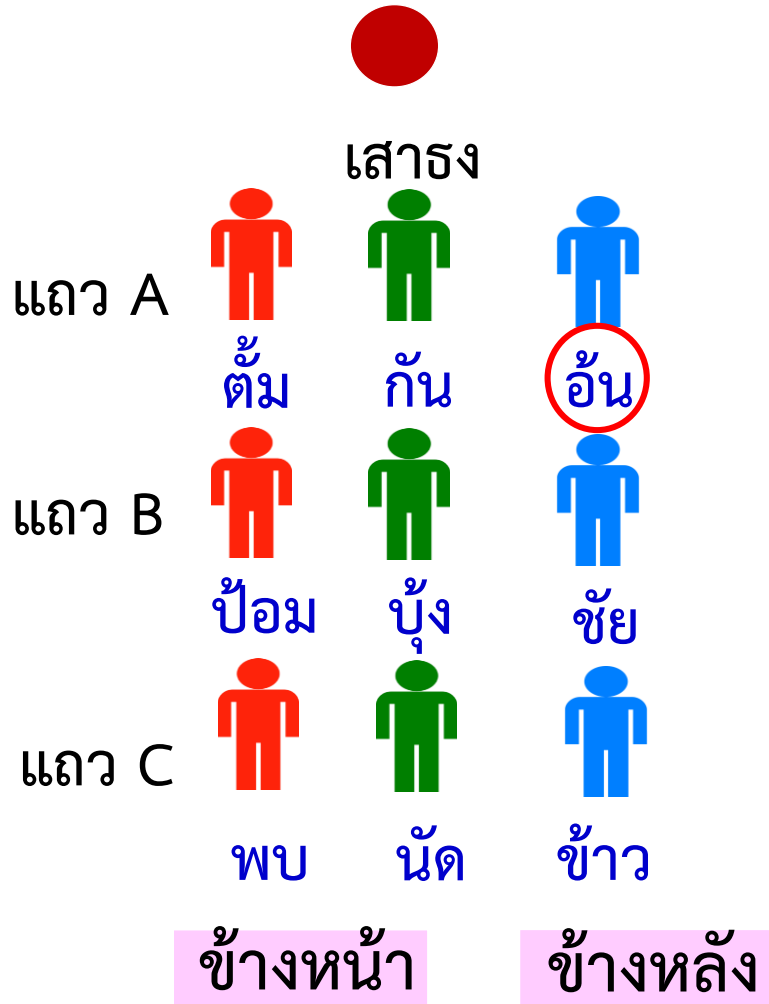




แถว C มีใครบ้าง

พบ นัด ข้าว





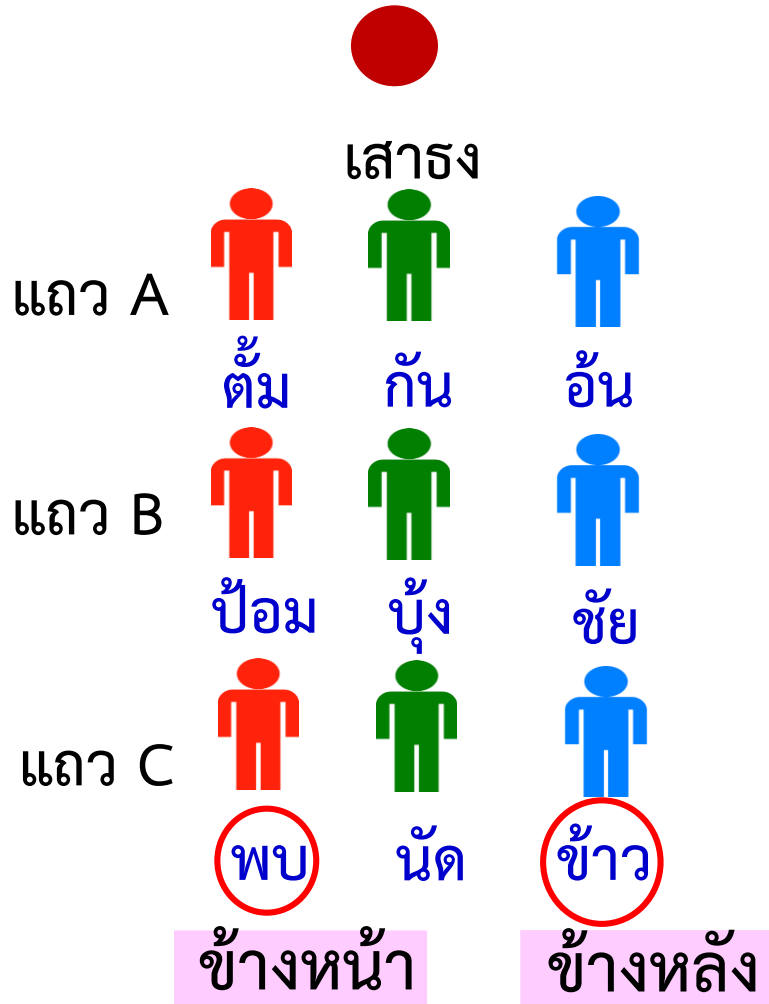
ทุกคนหันหน้าเข้าหาเสารง



ใครอยู่ข้างขวา  
ของก้น

อ้นอยู่ข้างขวาของก้น



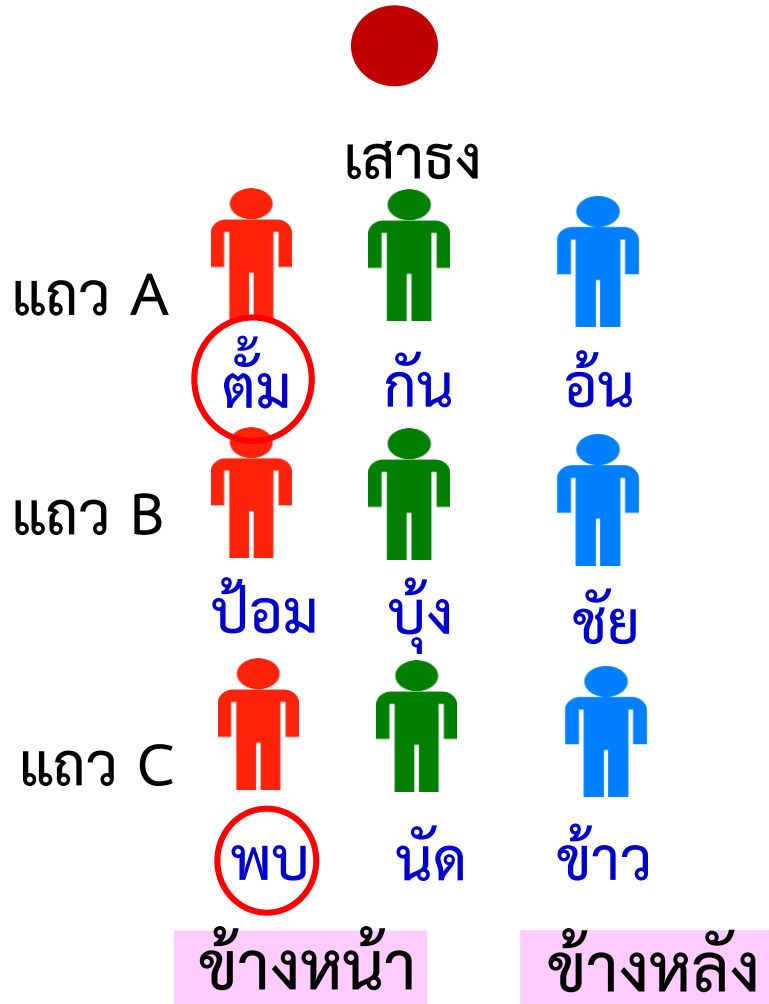


ทุกคนหันหน้าเข้าหาเสารง

นัตอยู่ระหว่าง  
ใครกับใคร

นัตอยู่ระหว่าง  
พบกับข้าว





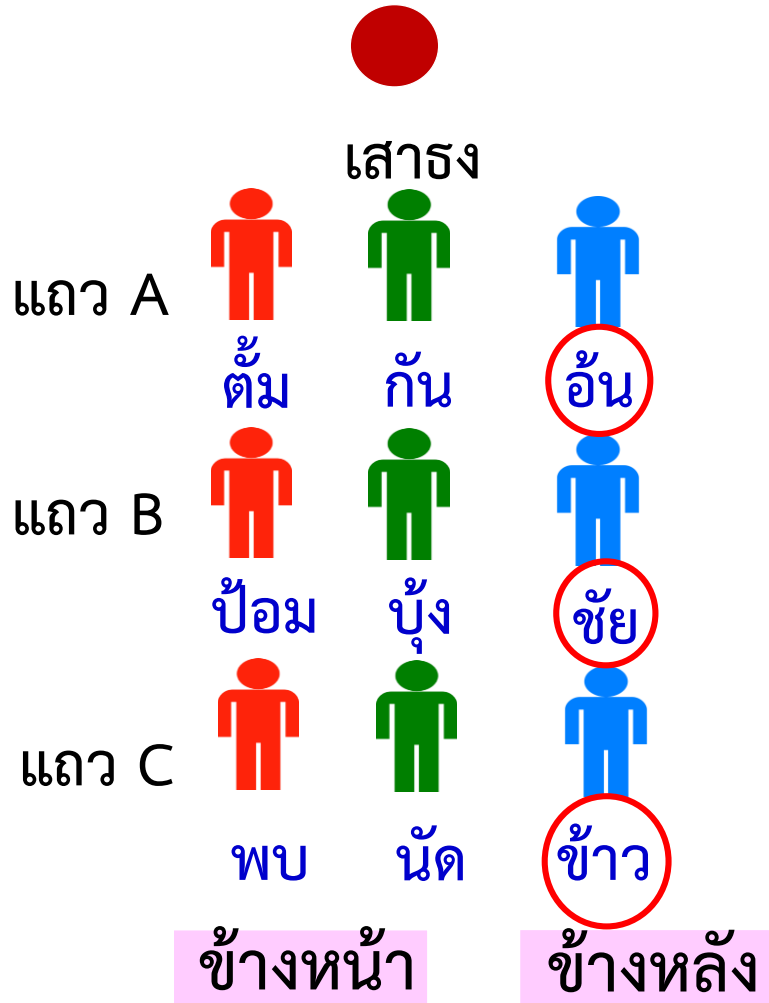
ทุกคนหันหน้าเข้าหาเสาธง



ป้อมอยู่ระหว่าง  
ใครกับใคร

ป้อมอยู่ระหว่าง  
ต้มกับพบ





ทุกคนหันหน้าเข้าหาเสาธง

ตั้งแต่อันถึงข้าว  
เป็นใครบ้าง

อัน ชัย และข้าว




# คำชี้แจงกิจกรรมนักเรียน



1. ให้นักเรียนทำแบบฝึกหัด 1.29

# คำชี้แจงบทบาทครูปลายทาง



1. แจกแบบฝึกหัด 1.29 ให้นักเรียน
2. ครูอธิบายคำชี้แจงแต่ละข้อ
3. ครูตรวจสอบความถูกต้องและให้ความช่วยเหลือตามความเหมาะสม





## แบบฝึกหัด 1.29

## 1 เขียนคำบอกตำแหน่งในช่องว่าง

คำบอกตำแหน่ง เช่น ซ้ายซ้าย ซ้ายขวา ซ้ายหน้า ซ้ายหลัง  
ถัดจาก ระหว่าง ..... กับ ตั้งแต่ ..... ถึง



- 1) ดอนอยู่ \_\_\_\_\_ ของแตน
- 2) บ๊องอยู่ \_\_\_\_\_ ของก๊อง
- 3) \_\_\_\_\_ ก๊อง \_\_\_\_\_ ดอน เป็น ก๊อง แตน และดอน
- 4) \_\_\_\_\_ บ๊อง \_\_\_\_\_ ดอน เป็น ก๊อง และแตน
- 5) \_\_\_\_\_ แตนเป็นดอน

## 2



- 1) \_\_\_\_\_ อ้อม \_\_\_\_\_ แจ่ม เป็น อ้อม พิม และแจ่ม
- 2) \_\_\_\_\_ ดาว \_\_\_\_\_ มุก เป็น อ้อม พิม และ แจ่ม
- 3) \_\_\_\_\_ พิมเป็นแจ่ม

# ใบงานที่ 1.29

## การบอกตำแหน่งของสิ่งต่าง ๆ

### (2)



(สามารถดาวน์โหลดได้ที่ [www.dltv.ac.th](http://www.dltv.ac.th))

3



- 1) หวานอยู่ \_\_\_\_\_ แว
- 2) อ้อมอยู่ \_\_\_\_\_ เพลิน
- 3) หวานอยู่ \_\_\_\_\_ ของแพร
- 4) ชวนอยู่ \_\_\_\_\_ ของเพลิน
- 5) \_\_\_\_\_ ดัง \_\_\_\_\_ ทาม เป็น แพร
- 6) \_\_\_\_\_ สม \_\_\_\_\_ เพลิน เป็น สม อ้อม และเพลิน

4



- 1) แก้วอยู่ \_\_\_\_\_ ของดอน
- 2) ป่านอยู่ \_\_\_\_\_ ของอัน
- 3) \_\_\_\_\_ ดอน \_\_\_\_\_ อัน เป็น แพรว
- 4) \_\_\_\_\_ แพรว \_\_\_\_\_ ป่าน เป็น แพรว อัน และป่าน

# ใบงานที่ 1.29

## การบอกตำแหน่งของสิ่งต่าง ๆ

### (2)



(สามารถดาวน์โหลดได้ที่ [www.dltv.ac.th](http://www.dltv.ac.th))



# สรุป

คำที่ใช้บอกตำแหน่งที่เรียนมาแล้ว  
เช่น ข้างซ้าย ข้างขวา ข้างหน้า  
ข้างหลัง ระหว่าง...กับ ตั้งแต่...ถึง





# บทเรียนครั้งต่อไป

## เรื่อง การบอกตำแหน่ง ของสิ่งต่าง ๆ (3)

