



แบบฝึกหัด 1.25

1 เขียนตัวเลขแสดงความสัมพันธ์ของจำนวนแบบส่วนย่อย - ส่วนรวม

ตัวอย่าง

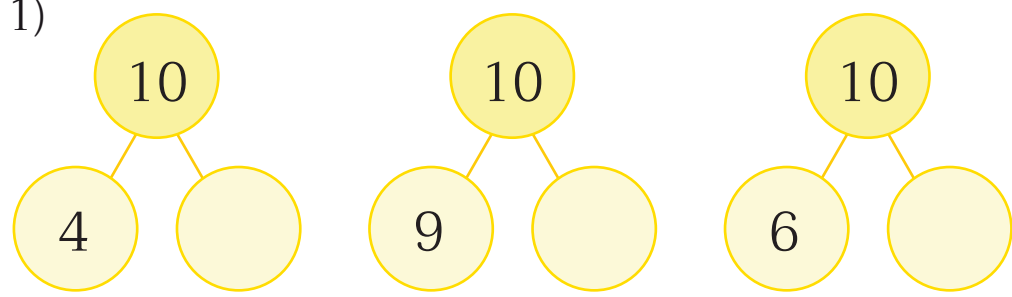
1)

2)

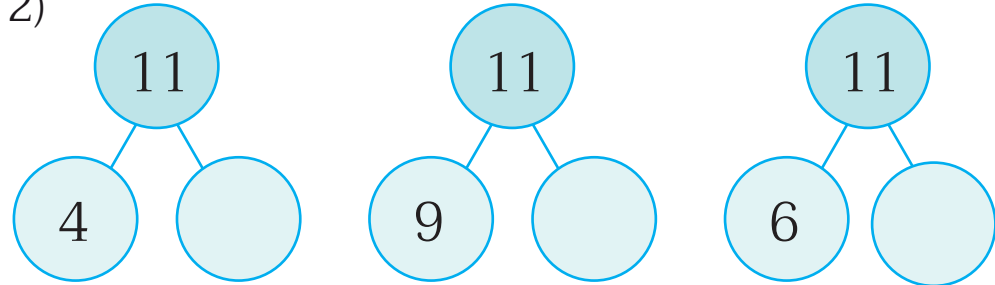


๒ เขียนตัวเลขแสดงความสัมพันธ์ของจำนวนแบบส่วนย่อย - ส่วนรวม

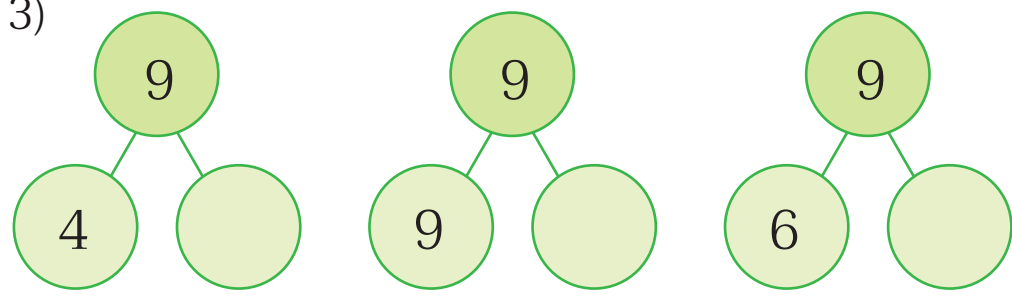
1)



2)



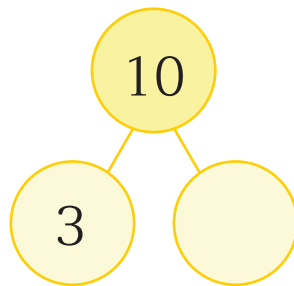
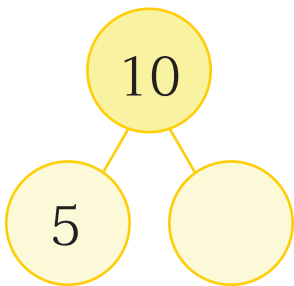
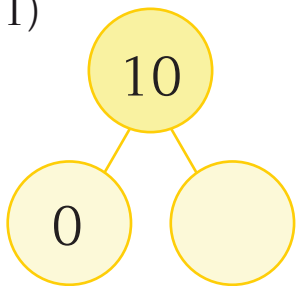
3)



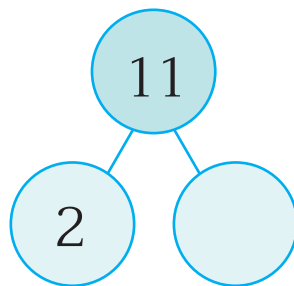
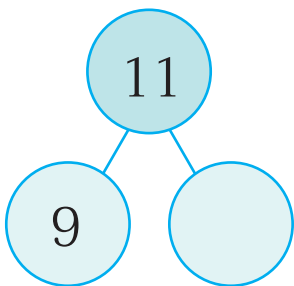
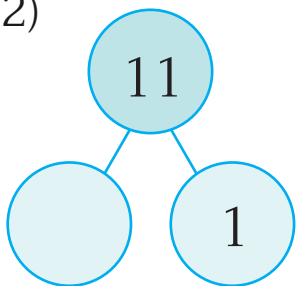


3 เขียนตัวเลขแสดงความสัมพันธ์ของจำนวนแบบส่วนย่อย - ส่วนรวม

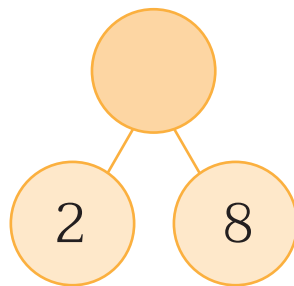
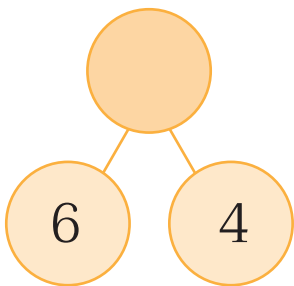
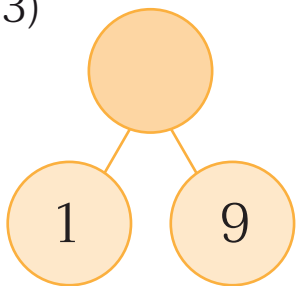
1)



2)



3)





๔ เขียนตัวเลขแสดงความสัมพันธ์ของจำนวนแบบส่วนย่อย - ส่วนรวม

