

แบบฝึกหัด 1.23

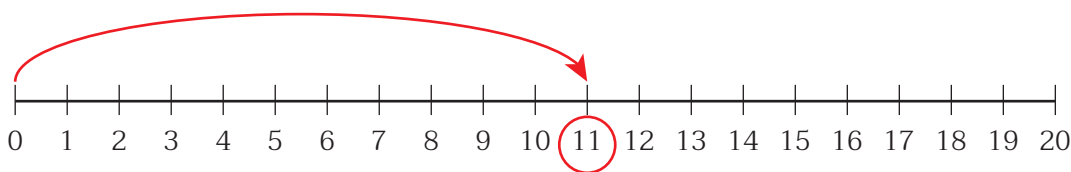
1 เขียนตัวเลขแสดงจำนวน และเขียนเส้นแสดงจำนวนนั้นบนเส้นจำนวน

ตัวอย่าง




แสดงจำนวน

11

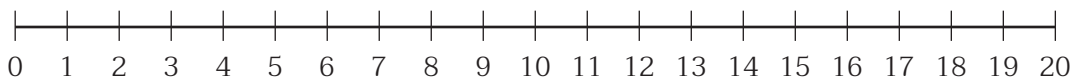


1)



แสดงจำนวน

Empty dashed box for writing the number.

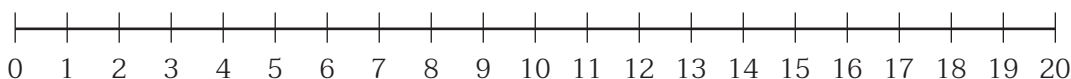


2)



แสดงจำนวน

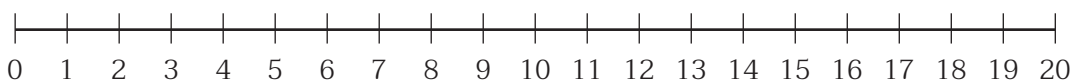
Empty dashed box for writing the number.





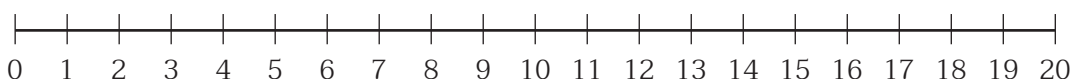
๒ เขียนเส้นแสดงจำนวนบนเส้นจำนวนแล้วเติมคำตอบ

1) 15 และ 14



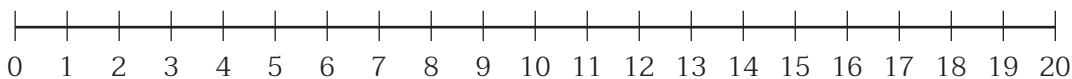
จำนวนใด มากกว่า

2) 11 และ 17



จำนวนใด น้อยกว่า

3) 16 12 19 และ 10



จำนวนใด มากที่สุด



๓ เขียนตัวเลขแสดงจำนวนลูกปัด และเขียนเส้นแสดงจำนวนลูกปัด บนเส้นจำนวน แล้วเรียงลำดับจำนวนลูกปัดจาก มากไปน้อย



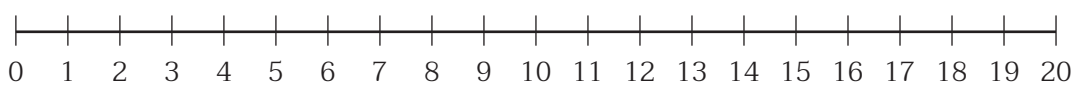
ลูกปัด  เม็ด



ลูกปัด  เม็ด




ลูกปัด  เม็ด



เรียงลำดับจาก มากไปน้อย




4 เขียนตัวเลขแสดงจำนวนซ้อน และเขียนเส้นแสดงจำนวนซ้อน บนเส้นจำนวน แล้วเรียงลำดับจำนวนซ้อนจาก **น้อยไปมาก**



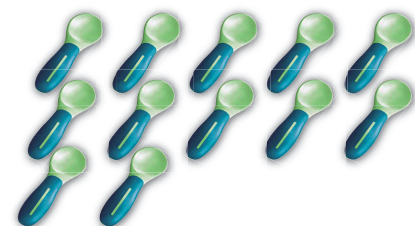
ซ้อน

คัน



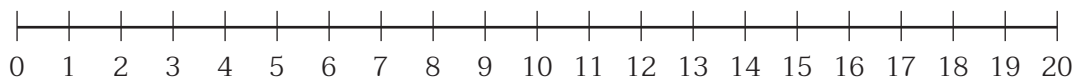
ซ้อน

คัน



ซ้อน

คัน



เรียงลำดับจาก **น้อยไปมาก**