

รายวิชา คณิตศาสตร์

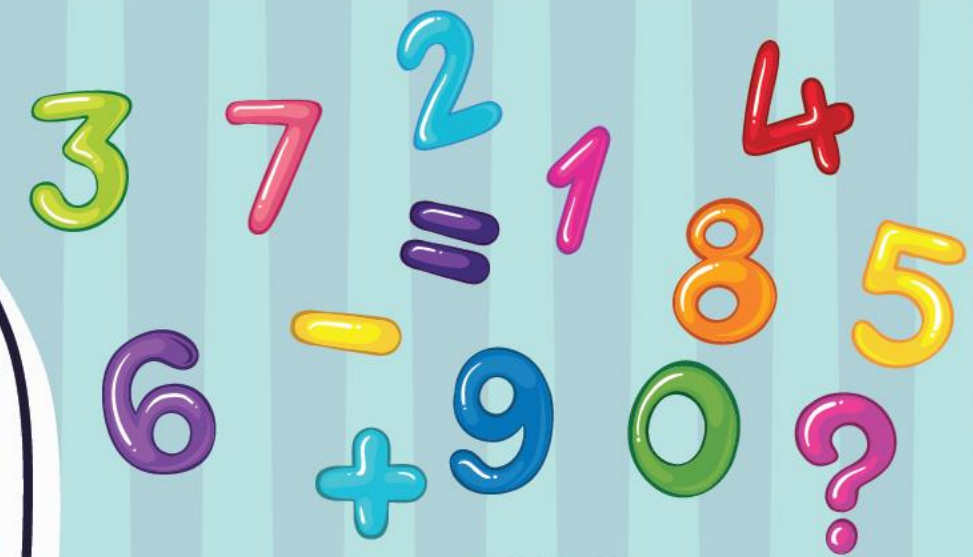
รหัสวิชา ค11101

ชั้นประถมศึกษาปีที่ 1

เรื่อง หลัก ค่าของเลขโดดในหลักสิบ
และหลักหน่วยของจำนวน 10 ถึง 20

ครูผู้สอน ครูจิรวุฒิ ภัคดี

ครูรัชนีพร พิณฑอง



หลัก ค่าของเลขโดดในหลักสิบ
และหลักหน่วยของจำนวน

10 ถึง 20



จุดประสงค์การเรียนรู้


เพื่อให้นักเรียนสามารถบอกหลัก
ค่าของเลขโดดในหลักสิบและหลักหน่วย
ของจำนวน 10 ถึง 20





ข้อตกลงในการเรียน

สองตาดู



มีสติ



เรียนรู้อย่างฉลาด



สองหูฟัง



ไม่เข้าใจให้ถาม



สมองคิด



กลับบ้านทบทวน



เฮ้ เฮ้ เฮ้





ทบทวนการเขียน

แสดงจำนวนนับ 10 ถึง 20






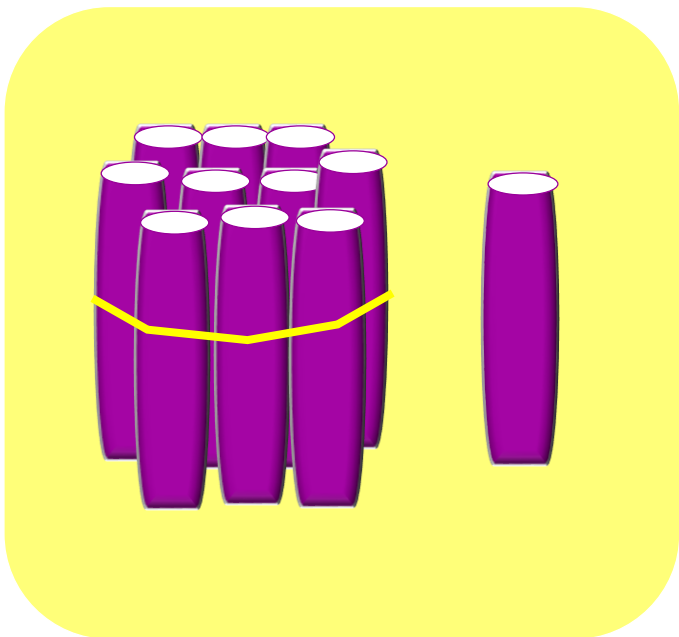
จากภาพมัดไม้แสดงจำนวนอะไร

10

เขียนแสดงจำนวนมัดไม้ได้อย่างไร

1 สิบ กับ 0 หน่วย





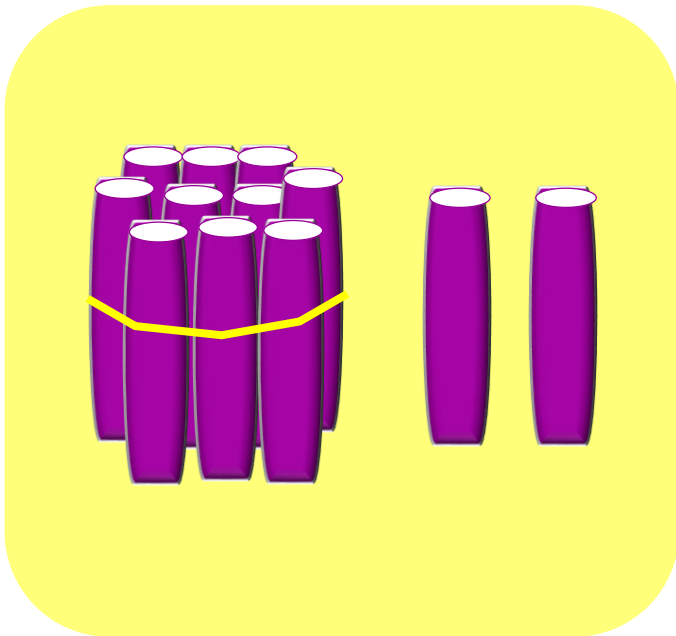
จากภาพมัดไม้แสดงจำนวนอะไร

11

เขียนแสดงจำนวนมัดไม้ได้อย่างไร

1 สิบ กับ 1 หน่วย





จากภาพมัดไม้แสดงจำนวนอะไร

12

เขียนแสดงจำนวนมัดไม้ได้อย่างไร

1 สิบ กับ 2 หน่วย





จากภาพมัดไม้แสดงจำนวนอะไร

13

เขียนแสดงจำนวนมัดไม้ได้อย่างไร

1 สิบ กับ 3 หน่วย






จากภาพมัดไม้แสดงจำนวนอะไร

14

เขียนแสดงจำนวนมัดไม้ได้อย่างไร

1 สิบ กับ 4 หน่วย






จากภาพมัดไม้แสดงจำนวนอะไร

15

เขียนแสดงจำนวนมัดไม้ได้อย่างไร

1 สิบ กับ 5 หน่วย






จากภาพมัดไม้แสดงจำนวนอะไร

16

เขียนแสดงจำนวนมัดไม้ได้อย่างไร

1 สิบ กับ 6 หน่วย






จากภาพมัดไม้แสดงจำนวนอะไร

17

เขียนแสดงจำนวนมัดไม้ได้อย่างไร

1 สิบ กับ 7 หน่วย







จากภาพมัดไม้แสดงจำนวนอะไร

18

เขียนแสดงจำนวนมัดไม้ได้อย่างไร

1 สิบ กับ 8 หน่วย






จากภาพมัดไม้แสดงจำนวนอะไร

19

เขียนแสดงจำนวนมัดไม้ได้อย่างไร

1 สิบ กับ 9 หน่วย





จากภาพมัดไม้แสดงจำนวนอะไร

20


เขียนแสดงจำนวนมัดไม้ได้อย่างไร

2 สิบ กับ 0 หน่วย





จำนวน	เขียนแสดงจำนวนในรูปสิบกับหน่วย
10	1 สิบ กับ 0 หน่วย
11	1 สิบ กับ 1 หน่วย
12	1 สิบ กับ 2 หน่วย
13	1 สิบ กับ 3 หน่วย
14	1 สิบ กับ 4 หน่วย
15	1 สิบ กับ 5 หน่วย
16	1 สิบ กับ 6 หน่วย
17	1 สิบ กับ 7 หน่วย
18	1 สิบ กับ 8 หน่วย
19	1 สิบ กับ 9 หน่วย
20	2 สิบ กับ 0 หน่วย



จากภาพมัดไม้แสดงจำนวนอะไร

15

เขียนแสดงจำนวนมัดไม้ได้อย่างไร

1 สิบ กับ 5 หน่วย

หลักสิบ	หลักหน่วย
1	5



หลักสิบ	หลักหน่วย
1	5



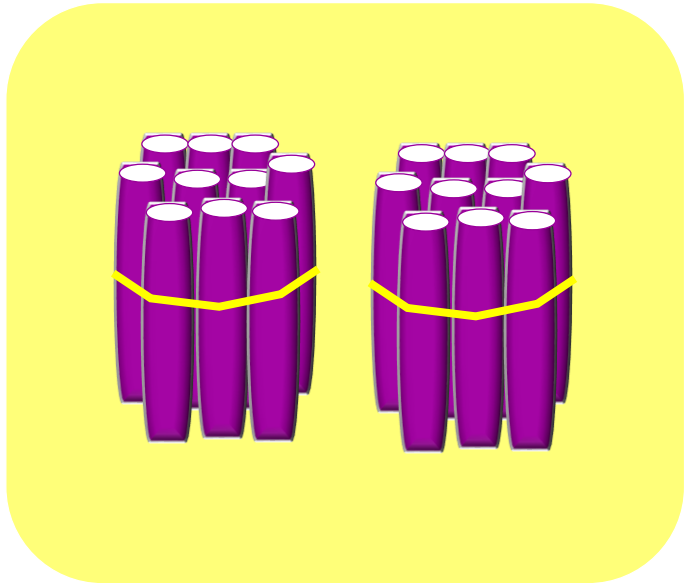
1 ใน หลักสิบ มีค่าเป็น 10

5 ใน หลักหน่วย มีค่าเป็น 5

15 เป็นจำนวนสองหลักที่มี

1 อยู่ในหลักสิบ และ 5 อยู่ในหลักหน่วย





จากภาพมัดไม้แสดงจำนวนอะไร

20

เขียนแสดงจำนวนมัดไม้ได้อย่างไร

2 สิบ กับ 0 หน่วย

หลักสิบ	หลักหน่วย
2	0



หลักสิบ	หลักหน่วย
2	0



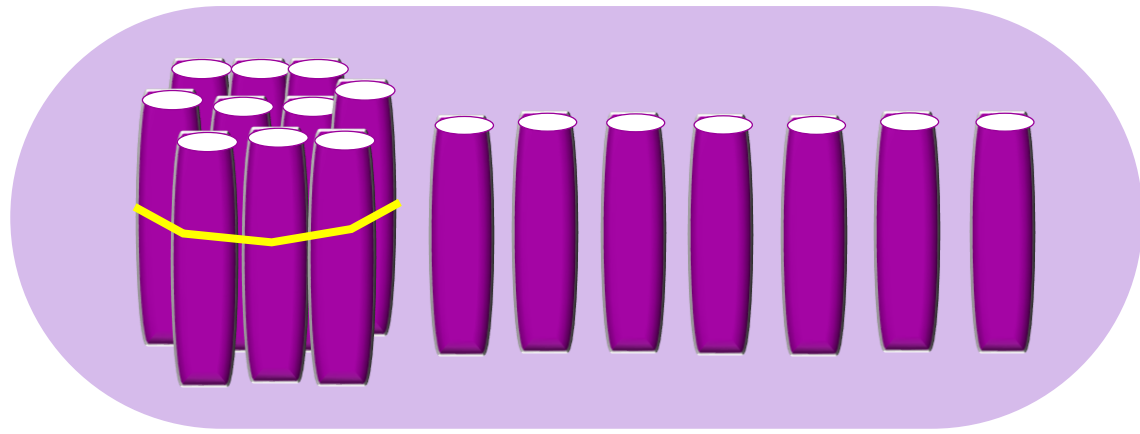
2 ใน หลักสิบ มีค่าเป็น 20

0 ใน หลักหน่วย มีค่าเป็น 0

20 เป็นจำนวนสองหลักที่มี

2 อยู่ในหลักสิบ และ 0 อยู่ในหลักหน่วย





หลักสิบ

หลักหน่วย

1

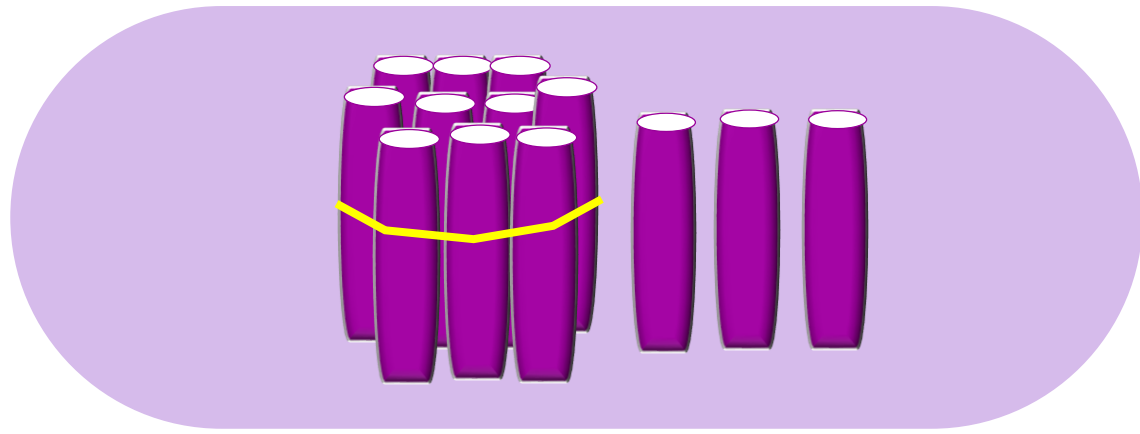
7



หลักสิบ	หลักหน่วย
1	7

- | | |
|-----------------|-----------|
| 1 อยู่ในหลักใด | หลักสิบ |
| มีค่าเป็นเท่าใด | 10 |
| 7 อยู่ในหลักใด | หลักหน่วย |
| มีค่าเป็นเท่าใด | 7 |





หลักสิบ

1



หลักหน่วย

3



หลักสิบ	หลักหน่วย
1	3

- | | | |
|---|-----------------|-----------|
| 1 | อยู่ในหลักใด | หลักสิบ |
| | มีค่าเป็นเท่าใด | 10 |
| 3 | อยู่ในหลักใด | หลักหน่วย |
| | มีค่าเป็นเท่าใด | 3 |



ถ้า 1 อยู่ในหลัก สิบ

และ 2 อยู่ในหลักหน่วย

จำนวนนั้นคืออะไร

12



ถ้า 1 อยู่ในหลัก สิบ

และ 5 อยู่ในหลักหน่วย

จำนวนนั้นคืออะไร

15




คำชี้แจงกิจกรรมนักเรียน



1. ให้นักเรียนทำแบบฝึกหัด 1.20

คำชี้แจงบทบาทครูปลายทาง



1. แจกแบบฝึกหัด 1.20 ให้นักเรียน
2. ครูอธิบายคำชี้แจงแต่ละข้อ
3. ครูตรวจสอบความถูกต้องและให้ความช่วยเหลือตามความเหมาะสม



แบบฝึกหัด 1.20

- ๑ เขียนตัวเลขแสดงจำนวนสิบกับหน่วย แล้วเขียนตัวเลข
ฮินดูอารบิกแสดงจำนวนนั้นใน

ตัวอย่าง



1

สิบ กับ

9

หน่วย

19

1)



สิบ กับ

หน่วย

2)



สิบ กับ

หน่วย

3)



สิบ กับ

หน่วย

4)



สิบ กับ

หน่วย

ใบงานที่ 1.20

หลัก ค่าของเลขโดดในหลักสิบ
และหลักหน่วยของจำนวน
10 ถึง 20



(สามารถดาวน์โหลดได้ที่ www.dltv.ac.th)

- ๒ เขียนเลขโดดในหลักสิบและหลักหน่วยตามจำนวนที่กำหนดให้
ใน

	จำนวน	หลักสิบ	หลักหน่วย
ตัวอย่าง	13	1	3
1)	17	<input type="text"/>	<input type="text"/>
2)	11	<input type="text"/>	<input type="text"/>
3)	16	<input type="text"/>	<input type="text"/>
4)	20	<input type="text"/>	<input type="text"/>
5)	12	<input type="text"/>	<input type="text"/>
6)	19	<input type="text"/>	<input type="text"/>
7)	14	<input type="text"/>	<input type="text"/>
8)	10	<input type="text"/>	<input type="text"/>
9)	15	<input type="text"/>	<input type="text"/>
10)	18	<input type="text"/>	<input type="text"/>

ใบงานที่ 1.20

หลัก ค่าของเลขโดดในหลักสิบ
และหลักหน่วยของจำนวน
10 ถึง 20



(สามารถดาวน์โหลดได้ที่ www.dltv.ac.th)

3 เขียนค่าของเลขโดดในแต่ละหลัก

ตัวอย่าง

12	1	ในหลักสิบ	มีค่า	10
	2	ในหลักหน่วย	มีค่า	2

1) 18		ในหลักสิบ	มีค่า	
		ในหลักหน่วย	มีค่า	

2) 15		ในหลักสิบ	มีค่า	
		ในหลักหน่วย	มีค่า	

4 เขียนหลักและค่าของเลขโดดที่ ขีดเส้น ได้

1) 13	1	อยู่ในหลัก	มีค่า
-------	---	------------	-------

2) 16	6	อยู่ในหลัก	มีค่า
-------	---	------------	-------

3) 14	4	อยู่ในหลัก	มีค่า
-------	---	------------	-------

4) 20	2	อยู่ในหลัก	มีค่า
	0	อยู่ในหลัก	มีค่า

5) 19	1	อยู่ในหลัก	มีค่า
	9	อยู่ในหลัก	มีค่า

ใบงานที่ 1.20

หลัก ค่าของเลขโดดในหลักสิบ
และหลักหน่วยของจำนวน

10 ถึง 20



(สามารถดาวน์โหลดได้ที่ www.dltv.ac.th)

๕ เขียนตัวเลขแสดงจำนวนใน

ค่าของเลขโดดในหลักสิบ	ค่าของเลขโดดในหลักหน่วย	จำนวน
ตัวอย่าง 10	9	19
1) 10	<input type="text"/>	11
2) <input type="text"/>	7	17
3) 10	3	<input type="text"/>
4) 10	<input type="text"/>	16
5) <input type="text"/>	4	14
6) 10	8	<input type="text"/>

ใบงานที่ 1.20

หลัก ค่าของเลขโดดในหลักสิบ
และหลักหน่วยของจำนวน
10 ถึง 20



(สามารถดาวน์โหลดได้ที่ www.dltv.ac.th)



สรุป

10 ถึง 20 เป็นตัวเลขแสดงจำนวนนับที่มี

สองหลัก คือ **หลักสิบ** และ **หลักหน่วย**

โดยเลขโดดทางขวาอยู่ในหลักหน่วย

เลขโดดทางซ้ายของหลักหน่วยอยู่ในหลักสิบ





บทเรียนครั้งต่อไป

เรื่อง การเปรียบเทียบ

จำนวน 1 ถึง 20 และการใช้

เครื่องหมาย $=$ \neq

