

แบบฝึกหัด 1.16

1) นับจำนวนผลไม้ในแต่ละข้อ เติมคำตอบ

1)

นับจำนวนแอปเปิลเขียวได้ ผล

2)

นับจำนวนมะละกอได้ ผล ถ้าเพิ่มอีก 1 ผลจะเป็น ผล

3)

นับจำนวนสับปะรดได้ ผล ถ้าเพิ่มอีก 1 ผลจะเป็น ผล




๒ ระบายสีในรูปตามจำนวนที่กำหนด

1)

ภาพ


จำนวน



2)

ภาพ

จำนวน







3)

ภาพ


จำนวน



4)

ภาพ

จำนวน





๓ เขียน X บน ○ แสดงจำนวนที่กำหนด

1) **๑๖**

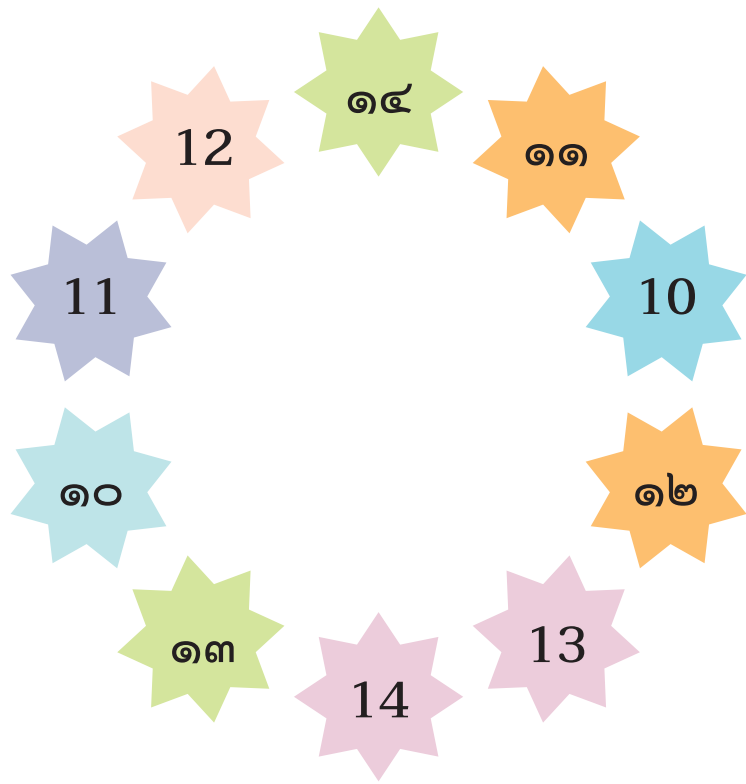
2) **๑๓**

3) **๑๗**

4) **๒๐**



4 โยงเส้นจับคู่ระหว่างตัวเลขที่แสดงจำนวนเดียวกัน



5 เติมตัวเลขแสดงจำนวนใน จากการนับเพิ่มทีละ 1

1)	<input type="text"/>	<input type="text"/>	<input type="text"/>	12
2)	<input type="text"/>	15	<input type="text"/>	<input type="text"/>
3)	<input type="text"/>	<input type="text"/>	19	<input type="text"/>