



แบบฝึกหัด 1.13

1 เขียน ✓ ลงใน □ ได้รูปที่มีจำนวน เท่ากัน

ตัวอย่าง

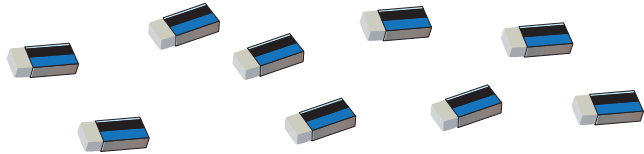



๒ เขียน X ลงใน □ ได้รูปที่มีจำนวน ไม่เท่ากัน


ตัวอย่าง





3 เขียนตัวเลขแสดงจำนวนลงใน และเขียน ✓ หน้าจำนวนที่ มากกว่า


Eraser counting: 

Pencil counting: 

Beach ball counting: 

Soccer ball counting: 

Padlock counting: 

Key counting: 



4 เขียนตัวเลขแสดงจำนวนลงใน และเขียน ✓ หน้าจำนวนที่ น้อยกว่า

Two rows of eggs (10 total) and two rows of chickens (10 total). Each row has a box for writing the number and a checkmark box.

Two rows of chairs (10 total). Each row has a box for writing the number and a checkmark box.

Two rows of plants (10 total) and two rows of pots (4 total). Each row has a box for writing the number and a checkmark box.