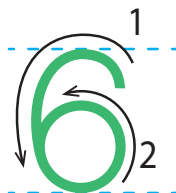






แบบฝึกหัด 1.10

๑ เขียนตัวเลขฮินดูอารบิกแสดงจำนวน หก ตามแบบที่กำหนด



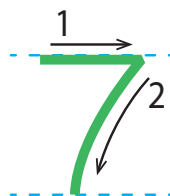



๒ เขียนตัวเลขไทยแสดงจำนวน หก ตามแบบที่กำหนด





๓ เขียนตัวเลขฮินดูอารบิกแสดงจำนวน เจ็ด ตามแบบที่กำหนด





4 เขียนตัวเลขไทยแสดงจำนวน เจ็ด ตามแบบที่กำหนด

