









แบบฝึกหัด 1.9

1 นับและเขียนวงล้อมรอบรูปที่แสดงจำนวน หก






๒ นับและระบายสี ○ ให้เท่ากับจำนวนของสิ่งต่างๆ




○	○	○	○	○
---	---	---	---	---




○	○	○	○	○
---	---	---	---	---



○	○	○	○	○
---	---	---	---	---



○	○	○	○	○
---	---	---	---	---



○	○	○	○	○
---	---	---	---	---




หน่วยที่ ๑ จำนวน




★ ผ. ๑.๙ / ผ.๙


หน่วยที่ ๑ จำนวน



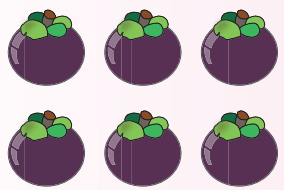
○	○	○	○	○
○	○	○	○	○




○	○	○	○	○
○	○	○	○	○



○	○	○	○	○
○	○	○	○	○



○	○	○	○	○
○	○	○	○	○



○	○	○	○	○
○	○	○	○	○

ชุดกิจกรรมการเรียนรู้ (สำหรับนักเรียน) กลุ่มสาระการเรียนรู้คณิตศาสตร์ ภาคเรียนที่ ๑ ชั้นประถมศึกษาปีที่ ๑ (ฉบับปรับปรุง)