



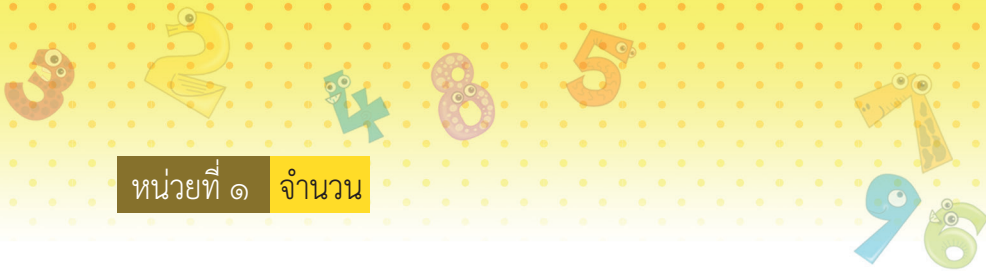
แบบฝึกหัด 1.7

1 เขียน ✓ ลงใน □ ได้รูปที่มีจำนวน เท่ากัน

ตัวอย่าง

 <input type="checkbox"/>	 <input type="checkbox"/>
----------------------------------	----------------------------------

 <input type="checkbox"/>	 <input type="checkbox"/>
----------------------------------	----------------------------------



๒ เขียน X ลงใน □ ได้รูปที่มีจำนวน ไม่เท่ากัน

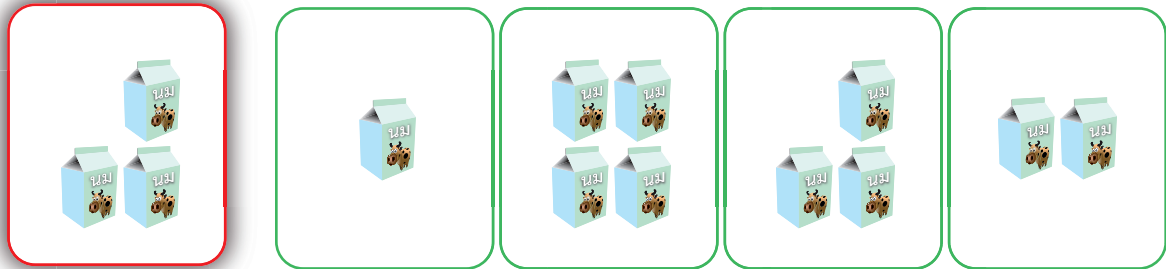
ตัวอย่าง

 □	 □
-------	-------


 □	 □
-------	-------



๓ เลือกรูปที่มีจำนวน มากกว่า รูปทางซ้าย แล้วเขียน X ทับ ก ข ค หรือ ง



ก ข ค ง



ก ข ค ง





ก ข ค ง

๔ เขียน X ทับจำนวนที่ มากกว่า จำนวนทางซ้าย





5 เลือกรูปที่มีจำนวน น้อยกว่า รูปทางซ้าย แล้วเขียน X ทับ ก ข ค หรือ ง

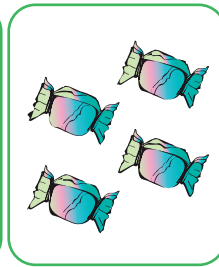



ก

ข

ค

ง

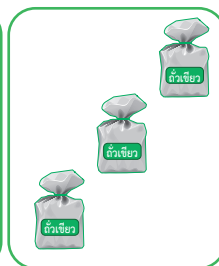


ก

ข

ค

ง



ก

ข

ค

ง

6 เขียน X ทับจำนวนที่ น้อยกว่า จำนวนทางซ้าย

