




หน่วยที่ ๑ จำนวน



ผ. ๑.๕ / ผ.๕

แบบฝึกหัด 1.5


๑ เขียนตัวเลขฮินดูอารบิกแสดงจำนวน ห้า ตามแบบที่กำหนด




หน่วยที่ ๑ จำนวน

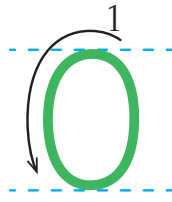



๒ เขียนตัวเลขไทยแสดงจำนวน ห้า ตามแบบที่กำหนด







3 เขียนตัวเลขฮินดูอารบิกแสดงจำนวน ศูนย์



ในแจกันมีดอกไม้ 0 ดอก



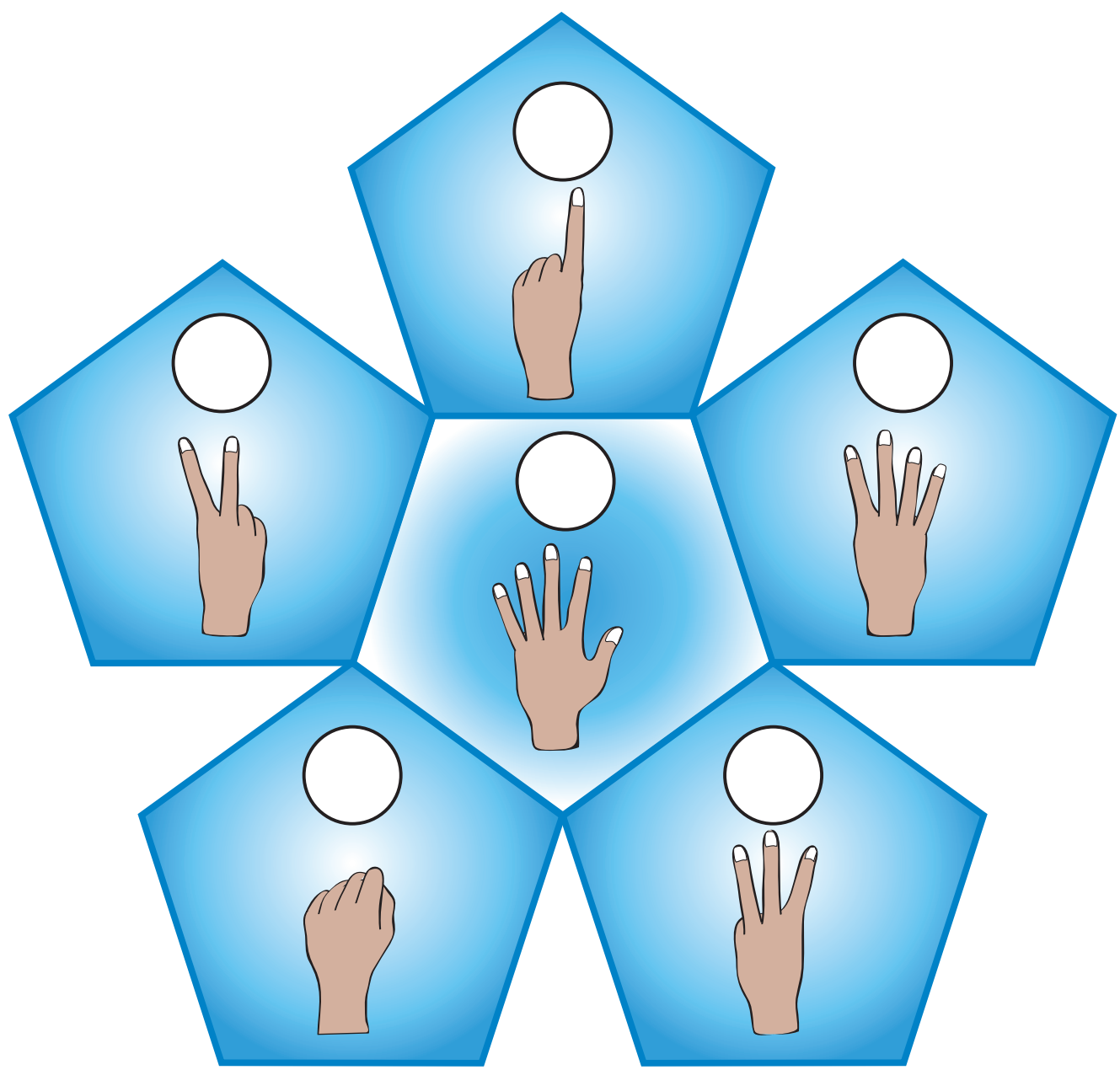

4 เขียนตัวเลขไทยแสดงจำนวน ศูนย์ ตามแบบที่กำหนด



ในอ่างปลา มีปลา ๐ ตัว









๕ เขียนตัวเลขฮินดูอารบิกแสดงจำนวนนิ้วมือใน

















๖ เขียนตัวเลขฮินดูอารบิกแสดงจำนวนตามรูปที่กำหนด







รูป	ตัวเลขฮินดูอารบิก
1) 	..... .....
2) 	..... .....
3) 	..... .....
4) 	..... .....
5) 	..... .....















๗ ระบายสีใน  ให้เท่ากับจำนวนที่กำหนด

1)      

2)      

3)      

4)      

5)      

6) 