

รายวิชา คณิตศาสตร์

รหัสวิชา ค11101

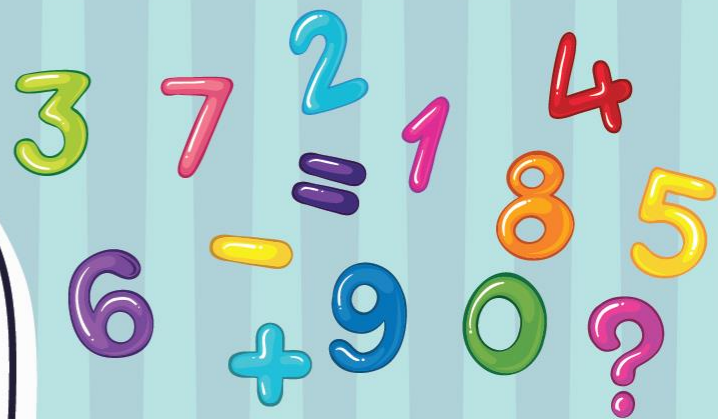
ชั้นประถมศึกษาปีที่ 1

เรื่อง การนับและแสดงจำนวน

1 ถึง 5 และ 0 (2)


ครูผู้สอน ครูจิรวุฒิ ภักดี

ครูรัชนีพร พิณฑอง



การนับและแสดงจำนวน

1 ถึง 5 และ 0 (2)



จุดประสงค์การเรียนรู้

1. เพื่อให้นักเรียนสามารถ นับและแสดงจำนวนนับ 1 ถึง 5 และ 0



ข้อตกลงในการเรียน



สองตา



สองหูฟัง



สมองคิด



มีสติ



ไม่เข้าใจให้ถาม



กลับบ้านทบทวน




เรียนรู้อย่างฉลาด



เฮ้ เฮ้ เฮ้



ทบทวนจำนวน 1 ถึง 5 และ 0




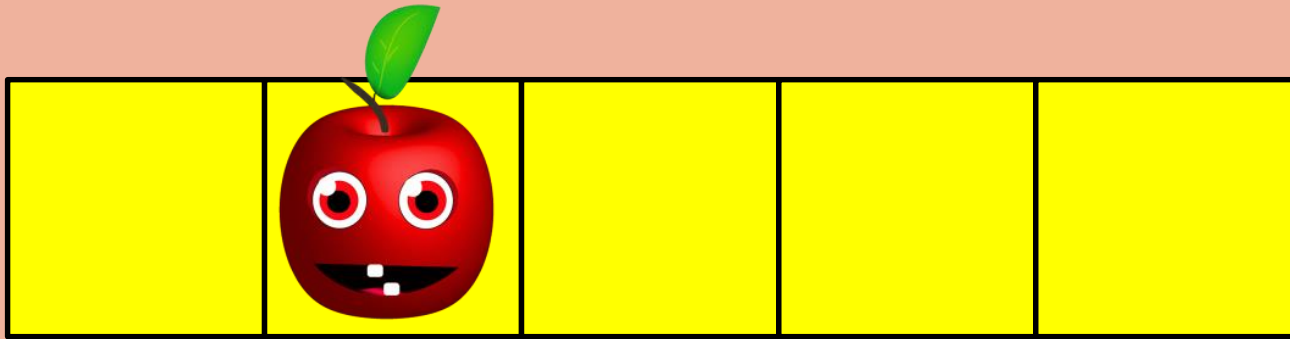
--	--	--	--	--




จำนวนนับ “หนึ่ง”












จำนวนนับ “สอง”












จำนวนนับ “สาม”












จำนวนนับ “สี่”










จำนวนนับ “ห้า”





















จำนวน “ศูนย์”



--	--	--	--	--




					0	ศูนย์
					1	หนึ่ง
					2	สอง
					3	สาม
					4	สี่
					5	ห้า




สรุป



เราสามารถบอกจำนวนของสิ่งต่างๆได้ด้วยการนับ



ถ้าไม่มีของจะถือว่าเป็นจำนวนศูนย์




คำชี้แจงกิจกรรมนักเรียน



1. ให้นักเรียนทำแบบฝึกหัด 1.2

คำชี้แจงบทบาทครูปลายทาง



1. แจกแบบฝึกหัด 1.2 ให้นักเรียน
2. ครูอธิบายคำชี้แจงแต่ละข้อ
3. ครูตรวจสอบความถูกต้องและให้ความช่วยเหลือตามความเหมาะสม



แบบฝึกหัด 1.2

1 นับและระบายสี ให้เท่ากับจำนวนของสิ่งต่างๆ













ใบงานที่ 1.2

เรื่อง การนับและแสดง
จำนวน 1 ถึง 5 และ 0 (2)



(สามารถดาวน์โหลดได้ที่ www.dltv.ac.th)

๒ นับและระบายสี ○ ให้เท่ากับจำนวนของสิ่งต่างๆ

5 pineapples in a red oval followed by 5 empty circles in a row.

4 purple coconuts in a red oval followed by 5 empty circles in a row.


An empty red oval followed by 5 empty circles in a row.

4 red tomatoes in a red oval followed by 5 empty circles in a row.

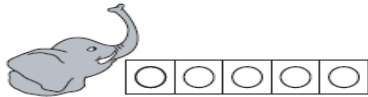

5 green coconuts in a red oval followed by 5 empty circles in a row.

ใบงานที่ 1.2

เรื่อง การนับและแสดง
จำนวน 1 ถึง 5 และ 0 (2)

 (สามารถดาวน์โหลดได้ที่ www.dltv.ac.th)

3 นับและระบายสี ○ ให้เท่ากับจำนวนของสิ่งต่างๆ



ใบงานที่ 1.2

เรื่อง การนับและแสดง จำนวน 1 ถึง 5 และ 0 (2)



(สามารถดาวน์โหลดได้ที่ www.dltv.ac.th)

8 เขียนรูปที่แสดงจำนวน หนึ่ง แล้วระบายสีหรือแรเงา

9 เขียนรูปที่แสดงจำนวน สอง แล้วระบายสีหรือแรเงา

10 เขียนรูปที่แสดงจำนวน สาม แล้วระบายสีหรือแรเงา

ใบงานที่ 1.2

เรื่อง การนับและแสดง
จำนวน 1 ถึง 5 และ 0 (2)



(สามารถดาวน์โหลดได้ที่ www.dltv.ac.th)



บทเรียนครั้งต่อไป

เรื่อง การเขียน การอ่าน

ตัวเลขฮินดูอารบิกและตัวเลขไทย

แสดงจำนวนนับ 1 และ 2

