



หน่วยการเรียนรู้ที่ 1 แรกพบจำนวนเต็ม

แบบฝึกหัด 1 : จำนวนเต็มและการเปรียบเทียบจำนวนเต็ม



ตอนที่ 1

คำชี้แจง ให้นักเรียนพิจารณาจำนวนที่กำหนดให้ แล้วเขียนรูวงกลม (○) ล้อมรอบจำนวนเต็มบวกหรือจำนวนที่สามารถเขียนในรูปจำนวนเต็มบวกได้ และเขียนรูปสามเหลี่ยม (△) ล้อมรอบจำนวนเต็มลบหรือจำนวนที่สามารถเขียนในรูปจำนวนเต็มลบได้

-2	$\frac{16}{4}$	12	$\frac{3}{3}$	0
4.8	88	-23	-9	-3
-5	$\frac{20}{10}$	7.5	$1\frac{2}{3}$	-41





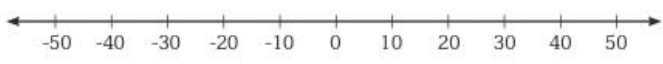
หน่วยการเรียนรู้ที่ 1 แรกพบจำนวนเต็ม



ตอนที่ 2

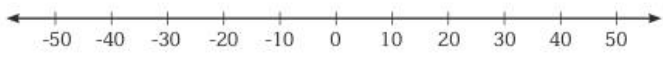
คำชี้แจง ให้นักเรียนเปรียบเทียบจำนวนเต็มต่อไปนี้ โดยลงจุดบนเส้นจำนวน พร้อมทั้งเติมเครื่องหมาย > หรือ < ลงใน เพื่อให้ประโยคต่อไปนี้เป็นจริง

1. 38 และ -45



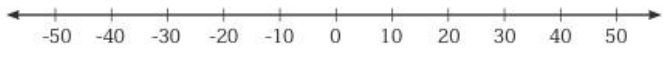
จากการลงจุดบนเส้นจำนวน
จะได้ว่า 38 -45

2. -45 และ -32



จากการลงจุดบนเส้นจำนวน
จะได้ว่า -45 -32

3. 0 และ -10



จากการลงจุดบนเส้นจำนวน
จะได้ว่า 0 -10

ตอนที่ 3

คำชี้แจง ให้นักเรียนเรียงลำดับจำนวนเต็มต่อไปนี้จากมากไปน้อย

1. 38 -45 -32 -10 0

2. -12 9 -7 -28 5