

ชื่อ-สกุล ชั้น เลขที่
วันที่ เดือน พ.ศ.

 บ. ๑.๒ / ผ. ๒.๒-๐๒

สัตว์ตัวนี้ มีชื่อว่า



มีหน้าที่

มีหน้าที่

ขน มีหน้าที่

ชื่อ-สกุล ชั้น เลขที่
วันที่ เดือน พ.ศ.

★ ป. ๑.๒ / ผ. ๒.๒-๐๒

๒. จากรูปสัตว์ต่อไปนี้ ส่วนต่าง ๆ ของสัตว์มีหน้าที่อะไร

สัตว์ตัวนี้ มีชื่อว่า


ตา มีหน้าที่



..... มีหน้าที่

..... มีหน้าที่

ชื่อ-สกุล ชั้น เลขที่
วันที่ เดือน พ.ศ.


 บ. ๑.๒ / ผ. ๒.๒-๐๒

ใบงาน ๐๒ : แบบฝึกหัด เรื่องหน้าที่ของส่วนต่าง ๆ ของสัตว์

ตอบคำถามต่อไปนี้ให้ถูกต้อง

๑. จากรูปที่กำหนดให้ สัตว์ใช้ส่วนของร่างกายส่วนใด ทำหน้าที่ต่อไปนี้


เลือกอักษรใต้รูป
ไปเติมในช่องว่างให้ถูกต้อง



ก




ข



ค



ง



จ



ฉ



ช

๑.๑ ส่วนของร่างกายที่สัตว์ใช้ในการเดิน คือ

.....
.....
.....

๑.๒ ส่วนของร่างกายที่สัตว์ใช้ฟังเสียง คือ

.....
.....
.....

๑.๓ ส่วนของร่างกายที่สัตว์ใช้ต่อสู้กัน คือ

.....
.....
.....

๑.๔ ส่วนของร่างกายที่สัตว์ใช้ในการว่ายน้ำ คือ

.....
.....
.....

๑.๕ ส่วนของร่างกายที่สัตว์ใช้ปิดแมลง คือ

.....
.....
.....

๑.๖ ส่วนของร่างกายที่สัตว์ใช้ในการบิน

.....
.....
.....

๑.๗ ส่วนของร่างกายที่สัตว์ใช้ในการมองเห็น คือ

.....
.....
.....