

รายวิชา วิทยาศาสตร์และเทคโนโลยี
รหัสวิชา ว11101
ชั้นประถมศึกษาปีที่ 1


เรื่อง หน้าทีของส่วนต่าง ๆ
ของร่างกาย (6)

ครูผู้สอน ครูภาณุพัฒน์ บุตรดีไชย
ครูวิภามาศ แซ่ไฉว



หน้าที่ของส่วนต่าง ๆ

ของร่างกาย (6)





เพลง หากพวกเรา

กำลังสบาย



เพลง หากพวกเรากำลังสบาย



“หากว่าเรากำลังสบาย จงปรบมือพลัน (ซ้ำ)
หากว่าเรากำลังมีความสุข หมดเรื่องทุกข์ใด ๆ ทุกสิ่ง
จะมัวประวิงอะไรกันเล่า จงปรบมือพลัน



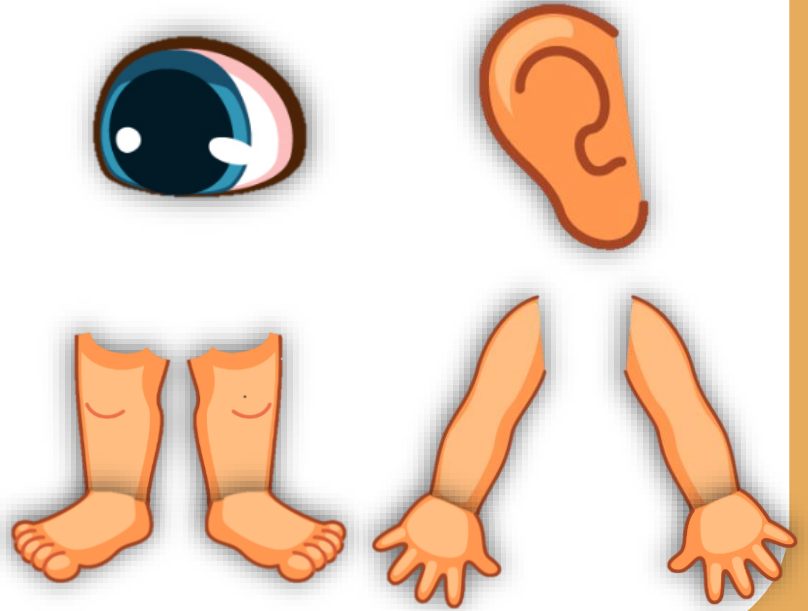
คำถามตรวจสอบความรู้

นักเรียนใช้ส่วนใดของร่างกาย
ในการเต้นท่าประกอบเพลง
หากพวกเรากำลังสบาย
และทำหน้าที่อย่างไร



คำถามตรวจสอบความรู้

ตอบ ตาใช้มองดูเนื้อเพลง
และท่าทางของครู ใช้หูฟัง
เสียงเพลง ใช้เท้าเคลื่อนไหวที่
ใช้แขนและมือทำท่าทาง
ประกอบ




จุดประสงค์การเรียนรู้

บรรยายและบอกหน้าที่ส่วนต่าง ๆ ของ
ร่างกายที่ทำหน้าที่ร่วมกัน



กิจกรรมจับคู่हरรษา

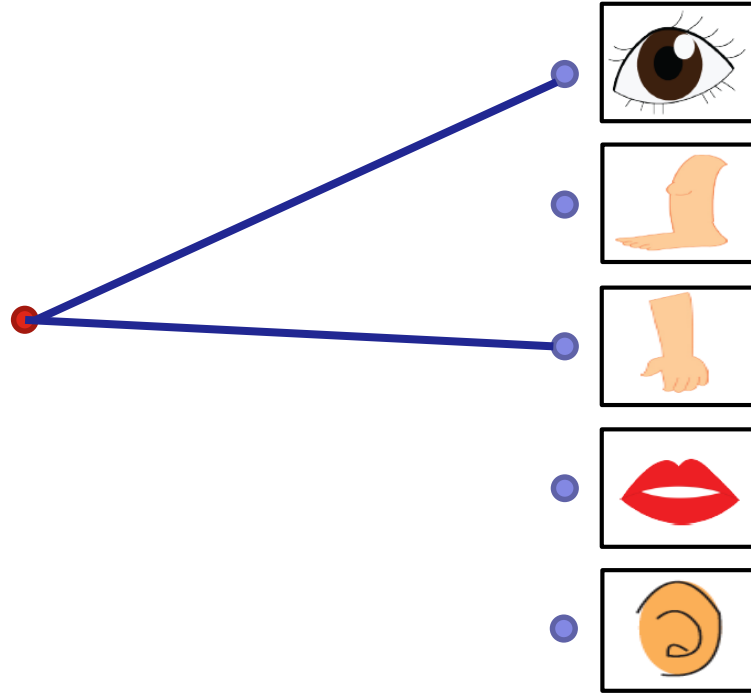


คำชี้แจง ให้นักเรียนจับคู่ภาพกิจกรรมกับการใช้ส่วนต่าง ๆ ของร่างกายให้ถูกต้อง

1.



วาดภาพ

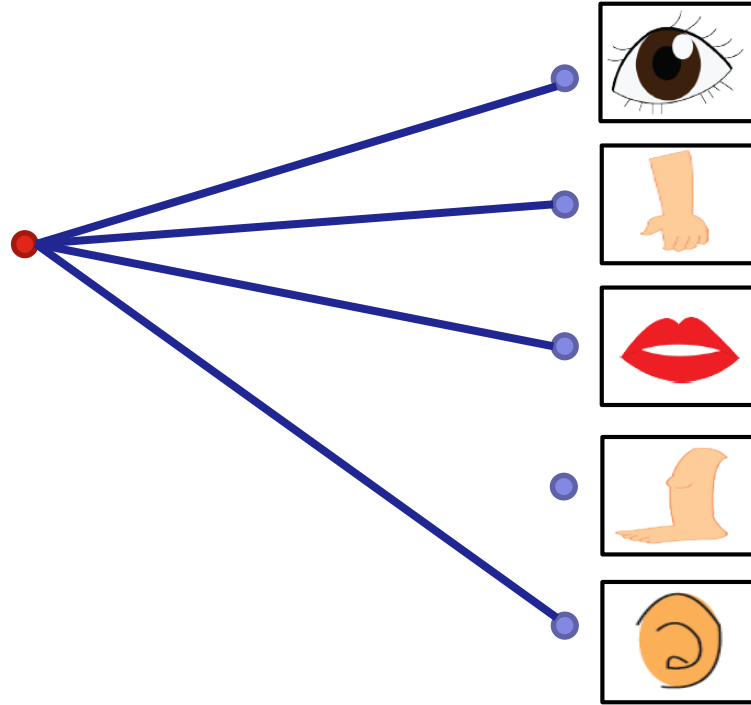


คำชี้แจง ให้นักเรียนจับคู่ภาพกิจกรรมกับการใช้ส่วนต่าง ๆ ของร่างกายให้ถูกต้อง

2.



เป่า ยิง ชุบ

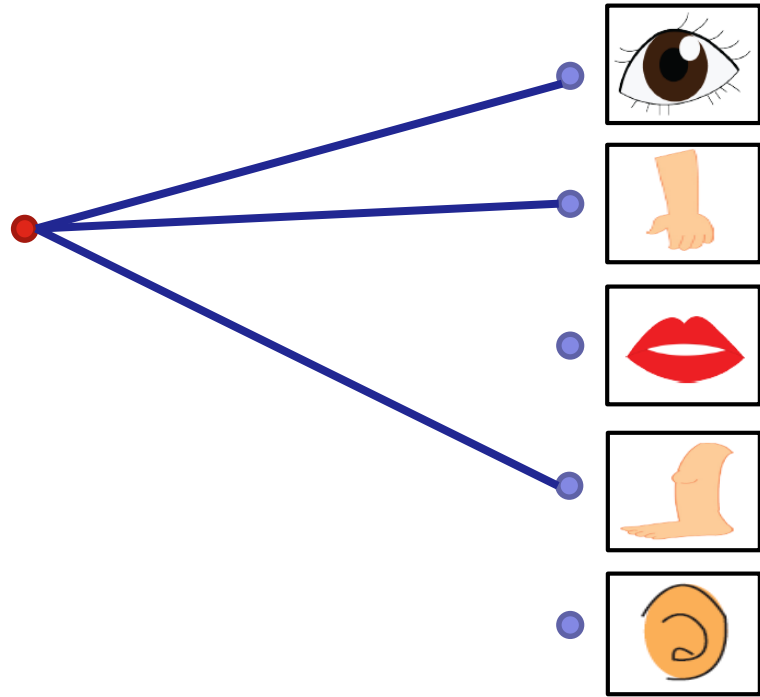


คำชี้แจง ให้นักเรียนจับคู่ภาพกิจกรรมกับการใช้ส่วนต่าง ๆ ของร่างกายให้ถูกต้อง

3.



ว่ายน้ำ



การตอบคำถาม

หลังกิจกรรม และแบบฝึกหัด



ชื่อ-สกุล _____ ชั้น _____ เลขที่ _____
วันที่ _____ เดือน _____ พ.ศ. _____



คำถามหลังจากทำกิจกรรม

๑. กิจกรรมที่นักเรียนเล่นคือกิจกรรมใด

๒. ส่วนต่าง ๆ ของร่างกายที่ใช้ทำกิจกรรมนี้มีอะไรบ้าง

- ตา หู จมูก
 ปาก แขนและมือ
 ขาและเท้า ผิวหนึ่ง

ขีด ✓ ใน
ที่เลือก

๓. ส่วนต่าง ๆ ของร่างกายที่ใช้ในการเล่นได้ทำหน้าที่ร่วมกันหรือไม่

- ทำหน้าที่ร่วมกัน ไม่ทำหน้าที่ร่วมกัน

ขีด ✓ ในช่อง
ที่เลือก

๔. การเดินไปหยิบของไกลตัวหรือการเดินบนเส้นตรงโดยมองที่พื้น มีการใช้
ส่วนต่าง ๆ ของร่างกายร่วมกันหรือไม่

- ใช้ร่วมกัน ไม่ใช้ร่วมกัน

ขีด ✓ ในช่อง
ที่เลือก

คำถามหลังกิจกรรม

หน้า 21



(สามารถดาวน์โหลดได้ที่ www.dltv.ac.th)





คำถามหลังจากทำกิจกรรม

1. กิจกรรมที่นักเรียนเล่นคือกิจกรรมใด

2. ส่วนต่าง ๆ ของร่างกายที่ใช้ทำกิจกรรมนี้มีอะไรบ้าง

ตา หู จมูก

ปาก แขนและมือ

ขาและเท้า ผิวหนัง

ขีด ✓ ใน
ที่เลือก



3. ส่วนต่าง ๆ ของร่างกายที่ใช้ในการเล่นได้ทำหน้าที่ร่วมกันหรือไม่

ขีด ✓ ในช่อง ที่เลือก

ทำหน้าที่ร่วมกัน

ไม่ทำหน้าที่ร่วมกัน

4. การเดินไปหยิบของไกลตัวหรือการเดินบนเส้นตรงโดยมองที่พื้น มีการใช้ส่วนต่าง ๆ ของร่างกายร่วมกันหรือไม่

ขีด ✓ ในช่อง ที่เลือก

ใช้ร่วมกัน

ไม่ใช้ร่วมกัน

ชื่อ-สกุล _____ ชั้น _____ เลขที่ _____
วันที่ _____ เดือน _____ พ.ศ. _____



๕. การเดินและไม่ได้เดินไปหยิบของไกลตัว ส่วนใดของร่างกายที่ไม่ได้ใช้เหมือนกัน

๖. การเดินบนเส้นตรงโดยมองที่พื้นกับไม่ได้มองที่พื้น ส่วนใดของร่างกายที่ไม่ได้ใช้เหมือนกัน

๗. ในการทำกิจกรรมหนึ่ง ๆ ที่ใช้ส่วนต่าง ๆ ของร่างกายร่วมกัน หากส่วนใดส่วนหนึ่งไม่สามารถทำหน้าที่ได้ ผลที่เกิดขึ้นเป็นอย่างไร เราจะทำกิจกรรมนั้น

๘. จากกิจกรรมนี้ สรุปได้ว่าอย่างไร

ในกิจกรรมหนึ่ง ๆ มีการใช้ส่วนต่าง ๆ ของร่างกาย _____

ถ้าส่วนใดส่วนหนึ่งของร่างกายไม่สามารถทำหน้าที่ได้ จะทำให้ทำกิจกรรมนั้นได้



คำถามหลังกิจกรรม

หน้า 22



(สามารถดาวน์โหลดได้ที่ www.dltv.ac.th)



5. การเดินและไม่ได้เดินไปหยิบของไกลตัว
ส่วนใดของร่างกายที่ไม่ได้ใช้เหมือนกัน

6. การเดินบนเส้นตรงโดยมองที่พื้นกับไม่ได้มอง
ที่พื้น ส่วนใดของร่างกายที่ไม่ได้ใช้เหมือนกัน



7. ในการทำกิจกรรมหนึ่ง ๆ ที่ใช้ส่วนต่าง ๆ
ของร่างกายร่วมกัน หากส่วนใดส่วนหนึ่ง
ไม่สามารถทำหน้าที่ได้ ผลที่เกิดขึ้นเป็นอย่างไร
เราจะทำกิจกรรมนั้น



8. จากกิจกรรมนี้ สรุปได้ว่าอย่างไร

ในกิจกรรมหนึ่ง ๆ มีการใช้ส่วนต่าง ๆ

ของร่างกาย

ถ้าส่วนใดส่วนหนึ่งของร่างกาย

ไม่สามารถทำหน้าที่ได้ จะทำให้ทำกิจกรรมนั้นได้



ชื่อ-สกุล _____ ชั้น _____ เลขที่ _____
วันที่ _____ เดือน _____ พ.ศ. _____

★ บ. ๑.๑ / ม. ๑.๒ - ๐๓

ใบงาน ๐๓ : แบบฝึกหัด เรื่องหน้าที่ของส่วนต่าง ๆ ของร่างกาย

๑. ส่วนต่าง ๆ ของร่างกายมีหน้าที่อะไร

จับคู่ส่วนของร่างกาย
กับหน้าที่ให้ถูกต้อง

ตา

หู

จมูก

มือ

เท้า

ปาก

กระดูก

สมอง

ผิวหนัง

ลำไส้

เดิน วิ่ง

มองดู

ฟังเสียง

ดมกลิ่น

กินและพูด

ห่อหุ้มร่างกาย

ควบคุมการทำงานของร่างกาย

หยิบ จับ

เป็นโครงร่างของร่างกาย

ย่อยอาหาร

ใบงาน 03 แบบฝึกหัด หน้า 23



(สามารถดาวน์โหลดได้ที่ www.dltv.ac.th)



ชื่อ-สกุล _____ ชั้น _____ เลขที่ _____
วันที่ _____ เดือน _____ พ.ศ. _____



๒. การเล่นชิงช้าในรูป ต้องใช้ส่วนใดของร่างกายทำงานร่วมกันและแต่ละส่วนใช้ทำหน้าที่อะไร



ชื่อส่วนของร่างกาย	หน้าที่

ใบงาน 03

แบบฝึกหัด หน้า 24



(สามารถดาวน์โหลดได้ที่ www.dltv.ac.th)



คำชี้แจง

กิจกรรมนักเรียน

1. นักเรียนบันทึก ใบงาน 02 การตอบคำถามหลังกิจกรรมหน้า 21-22
2. นักเรียนบันทึกใบงาน 03 แบบฝึกหัดหน้า 23-24
3. ตรวจสอบความถูกต้อง ความเรียบร้อย

บทบาทครูปลายทาง

1. แจกใบงาน 02 การตอบคำถามหลังกิจกรรมหน้า 21-22 และใบงาน 03 แบบฝึกหัดหน้า 23-24
2. ชี้แจงการทำกิจกรรมกับนักเรียนอีกครั้ง
3. ดูแลการทำกิจกรรมและช่วยเหลือนักเรียนตามความเหมาะสม



ผลการทำกิจกรรม



ชื่อ-สกุล _____ ชั้น _____ เลขที่ _____
วันที่ _____ เดือน _____ พ.ศ. _____



คำถามหลังจากทำกิจกรรม

๑. กิจกรรมที่นักเรียนเล่นคือกิจกรรมใด

๒. ส่วนต่าง ๆ ของร่างกายที่ใช้ทำกิจกรรมนี้มีอะไรบ้าง

- ตา หู จมูก
 ปาก แขนและมือ
 ขาและเท้า ผิวนั่ง

ขีด ✓ ใน
ที่เลือก

๓. ส่วนต่าง ๆ ของร่างกายที่ใช้ในการเล่นได้ทำหน้าที่ร่วมกันหรือไม่

- ทำหน้าที่ร่วมกัน ไม่ทำหน้าที่ร่วมกัน

ขีด ✓ ในช่อง
ที่เลือก

๔. การเดินไปหยิบของไกลตัวหรือการเดินบนเส้นตรงโดยมองที่พื้น มีการใช้
ส่วนต่าง ๆ ของร่างกายร่วมกันหรือไม่

- ใช้ร่วมกัน ไม่ใช้ร่วมกัน

ขีด ✓ ในช่อง
ที่เลือก

คำถามหลังกิจกรรม

หน้า 21



(สามารถดาวน์โหลดได้ที่ www.dltv.ac.th)





คำถามหลังจากทำกิจกรรม

1. กิจกรรมที่นักเรียนเล่นคือกิจกรรมใด

เกมกระชิบส่งสาร

2. ส่วนต่าง ๆ ของร่างกายที่ใช้ทำกิจกรรมนี้มีอะไรบ้าง



ตา



หู



จมูก



ปาก



แขนและมือ



ขาและเท้า



ผิวหนัง

ขีด ✓ ใน
ที่เลือก



3. ส่วนต่าง ๆ ของร่างกายที่ใช้ในการเล่นได้ทำหน้าที่ร่วมกันหรือไม่

ขีด ✓ ในช่อง ที่เลือก

ทำหน้าที่ร่วมกัน

ไม่ทำหน้าที่ร่วมกัน

4. การเดินไปหยิบของไกลตัวหรือการเดินบนเส้นตรงโดยมองที่พื้น มีการใช้ส่วนต่าง ๆ ของร่างกายร่วมกันหรือไม่

ขีด ✓ ในช่อง ที่เลือก

ใช้ร่วมกัน

ไม่ใช้ร่วมกัน

ชื่อ-สกุล _____ ชั้น _____ เลขที่ _____
วันที่ _____ เดือน _____ พ.ศ. _____



๕. การเดินและไม่ได้เดินไปหยิบของไกลตัว ส่วนใดของร่างกายที่ไม่ได้ใช้เหมือนกัน

๖. การเดินบนเส้นตรงโดยมองที่พื้นกับไม่ได้มองที่พื้น ส่วนใดของร่างกายที่ไม่ได้ใช้เหมือนกัน

๗. ในการทำกิจกรรมหนึ่ง ๆ ที่ใช้ส่วนต่าง ๆ ของร่างกายร่วมกัน หากส่วนใดส่วนหนึ่งไม่สามารถทำหน้าที่ได้ ผลที่เกิดขึ้นเป็นอย่างไร เราจะทำกิจกรรมนั้น

๘. จากกิจกรรมนี้ สรุปได้ว่าอย่างไร

ในกิจกรรมหนึ่ง ๆ มีการใช้ส่วนต่าง ๆ ของร่างกาย _____

ถ้าส่วนใดส่วนหนึ่งของร่างกายไม่สามารถทำหน้าที่ได้ จะทำให้ทำกิจกรรมนั้นได้



คำถามหลังกิจกรรม

หน้า 22



(สามารถดาวน์โหลดได้ที่ www.dltv.ac.th)



5. การเดินและไม่ได้เดินไปหยิบของไกลตัว
ส่วนใดของร่างกายที่ไม่ได้ใช้เหมือนกัน

ขาและเท้า

6. การเดินบนเส้นตรงโดยมองที่พื้นกับไม่ได้มอง
ที่พื้น ส่วนใดของร่างกายที่ไม่ได้ใช้เหมือนกัน

ตา



7. ในการทำกิจกรรมหนึ่ง ๆ ที่ใช้ส่วนต่าง ๆ
ของร่างกายร่วมกัน หากส่วนใดส่วนหนึ่ง
ไม่สามารถทำหน้าที่ได้ ผลที่เกิดขึ้นเป็นอย่างไร
เราจะทำกิจกรรมนั้น

อาจทำได้ไม่ดีเท่าที่ควร



8. จากกิจกรรมนี้ สรุปได้ว่าอย่างไร
ในกิจกรรมหนึ่ง ๆ มีการใช้ส่วนต่าง ๆ
ของร่างกาย หลายส่วน

ถ้าส่วนใดส่วนหนึ่งของร่างกาย
ไม่สามารถทำหน้าที่ได้ จะทำให้ทำกิจกรรมนั้นได้
ไม่ดีเท่าที่ควร



ชื่อ-สกุล _____ ชั้น _____ เลขที่ _____
วันที่ _____ เดือน _____ พ.ศ. _____



ใบงาน ๐๓ : แบบฝึกหัด เรื่องหน้าที่ของส่วนต่าง ๆ ของร่างกาย

๑. ส่วนต่าง ๆ ของร่างกายมีหน้าที่อะไร

จับคู่ส่วนของร่างกาย
กับหน้าที่ให้ถูกต้อง

ตา

หู

จมูก

มือ

เท้า

ปาก

กระดูก

สมอง

ผิวหนัง

ลำไส้

เดิน วิ่ง

มองดู

ฟังเสียง

ดมกลิ่น

กินและพูด

ห่อหุ้มร่างกาย

ควบคุมการทำงานของร่างกาย

หยิบ จับ

เป็นโครงร่างของร่างกาย

ย่อยอาหาร

ใบงาน 03 แบบฝึกหัด หน้า 23



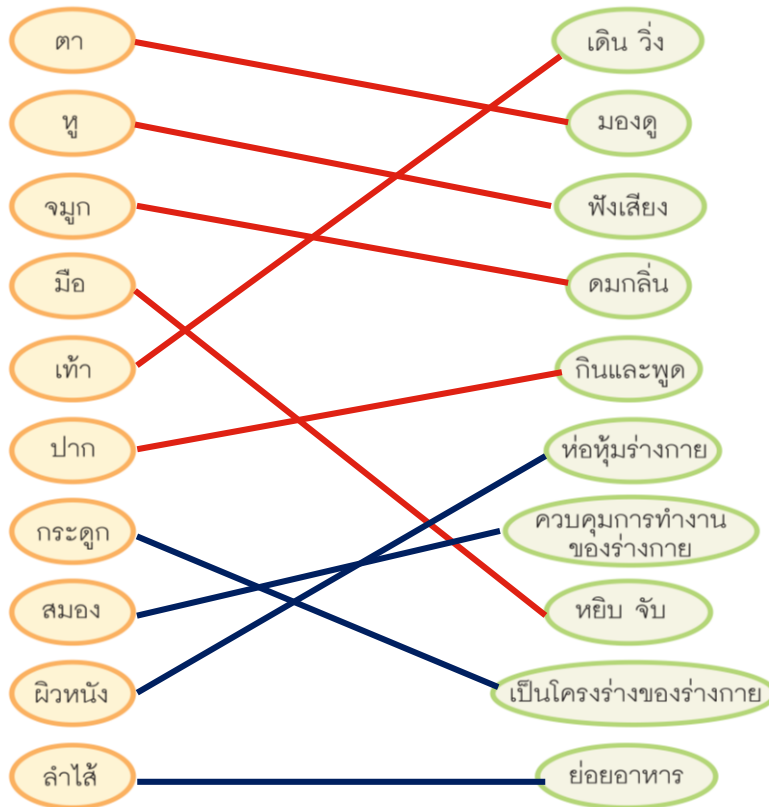
(สามารถดาวน์โหลดได้ที่ www.dltv.ac.th)



ใบงาน ๐๓ : แบบฝึกหัด เรื่องหน้าที่ของส่วนต่าง ๆ ของร่างกาย

๑. ส่วนต่าง ๆ ของร่างกายมีหน้าที่อะไร

จับคู่ส่วนของร่างกาย
กับหน้าที่ให้ถูกต้อง



ชื่อ-สกุล _____ ชั้น _____ เลขที่ _____
วันที่ _____ เดือน _____ พ.ศ. _____



๒. การเล่นชิงช้าในรูป ต้องใช้ส่วนใดของร่างกายทำงานร่วมกันและแต่ละส่วนใช้ทำหน้าที่อะไร



ชื่อส่วนของร่างกาย	หน้าที่

ใบงาน 03

แบบฝึกหัด หน้า 24



(สามารถดาวน์โหลดได้ที่ www.dltv.ac.th)

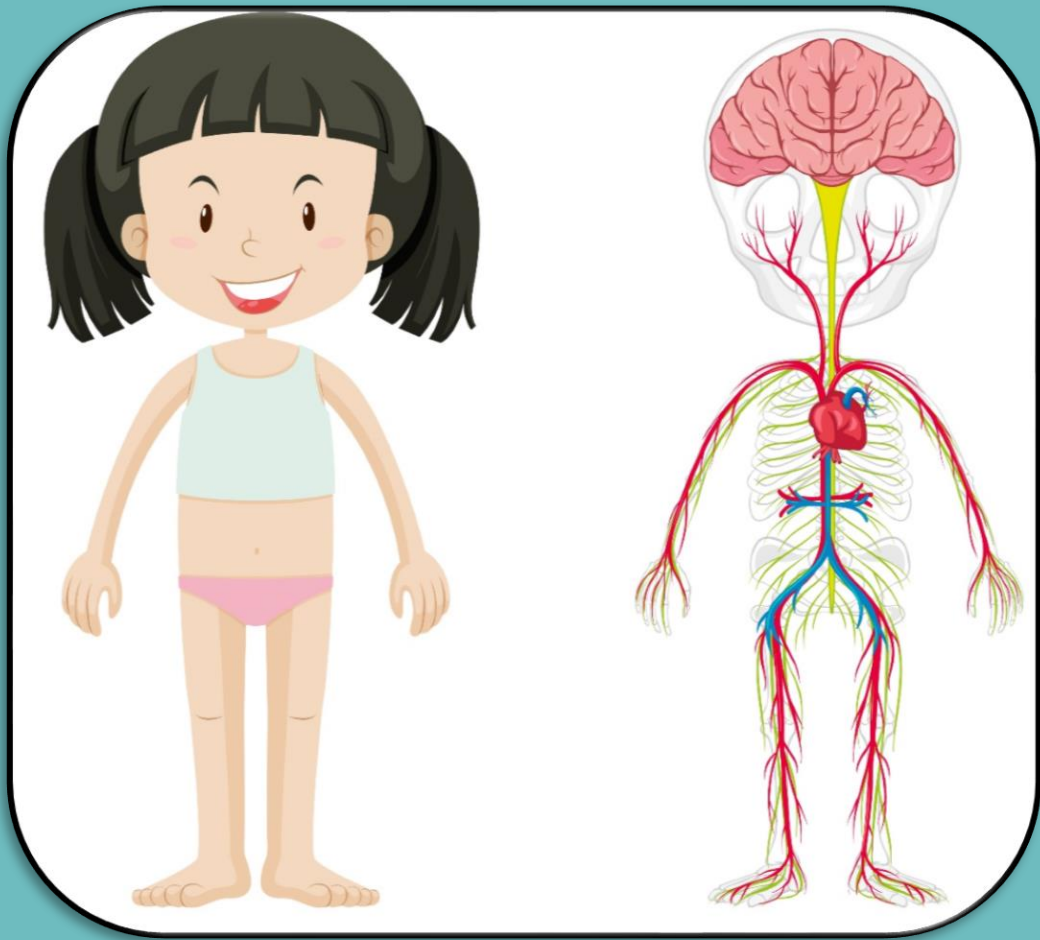


๒. การเล่นชิงช้าในรูป ต้องใช้ส่วนใดของร่างกายทำงานร่วมกันและแต่ละส่วนใช้ทำหน้าที่อะไร



ชื่อส่วนของร่างกาย	หน้าที่
ตา	มองดู
ขาและเท้า	ดันพื้น
แขนและมือ	จับ

ภาพร่างกายของมนุษย์



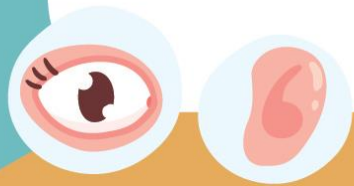
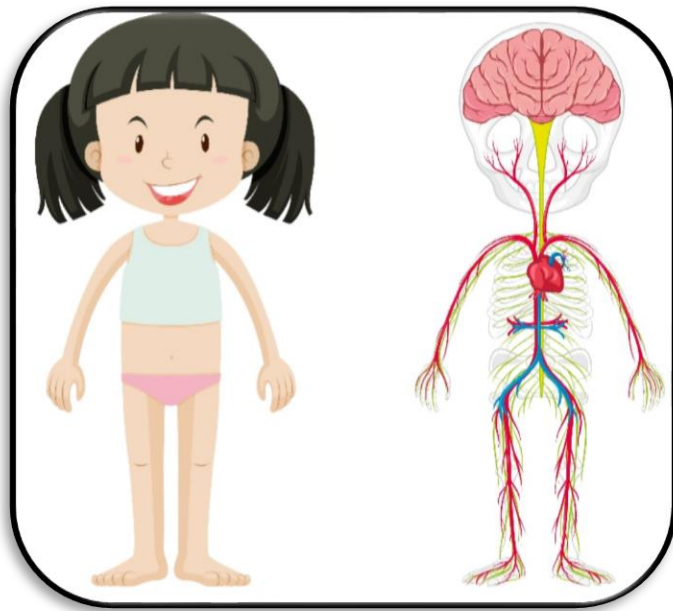
ที่มาภาพ : body ภาพโดย brfgx จาก freepik

คำถามนำสรุปกิจกรรม

1. ส่วนต่าง ๆ ของร่างกาย

มนุษย์ ทำหน้าที่แตกต่างกัน

หรือไม่ อย่างไร

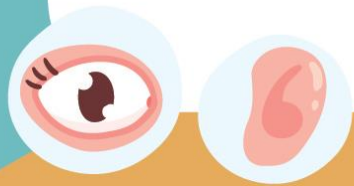



คำถามนำสรุปกิจกรรม

2. แต่ละส่วนของร่างกาย

ทำหน้าที่ร่วมกันหรือไม่

อย่างไร





สรุปความรู้จากกิจกรรม

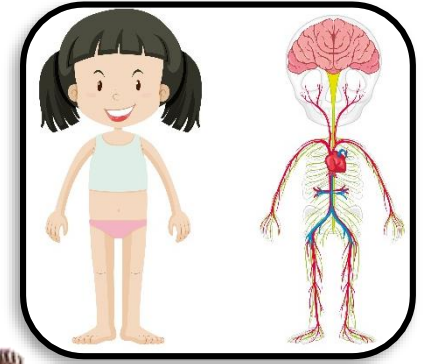
ส่วนต่าง ๆ **ทั้งที่อยู่ภายใน**

และภายนอกร่างกาย มีหน้าที่แตกต่างกัน

ในการทำกิจกรรมต่าง ๆ จะมีการใช้

ส่วนต่าง ๆ ของร่างกายในการ

ทำหน้าที่ร่วมกัน





บทเรียนครั้งต่อไป

เรื่อง การดูแลรักษาส่วนต่าง ๆ
ของร่างกาย (1)





สิ่งที่ต้องเตรียม

- ใบงาน 01 การดูแลรักษาส่วนต่าง ๆ ของร่างกาย
หน้า 29
- อุปกรณ์ที่ใช้แสดงบทบาทสมมติ เช่น เทปกาว สำลี
ผ้าปิดตา เชือก



(สามารถดาวน์โหลดได้ที่ www.dltv.ac.th)

