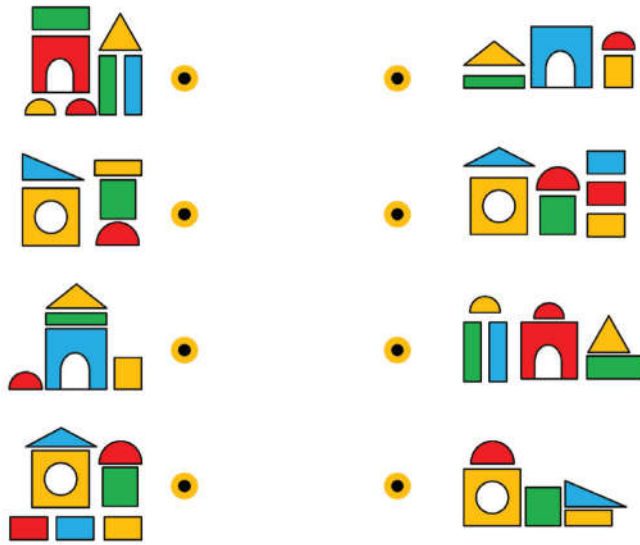



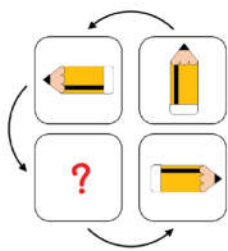
ใบงาน ๐๘ : แบบฝึกหัด เรื่อง การแก้ปัญหาโดยแสดงอัลกอริทึม

๑. ให้นักเรียนจับคู่ภาพบ้านในฝั่งซ้ายและขวาที่ใช้รูปทรงเลขาคณิตเดียวกัน

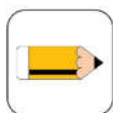


๒. ให้นักเรียนพิจารณาภาพที่กำหนดให้ แล้วเลือกภาพที่หายไป โดย วงกลมล้อมรอบตัวอักษร ก ข ค หรือ ง เพียงคำตอบเดียว

๒.๑




ก.



ข.

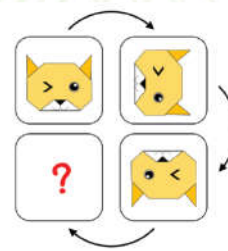


ค.




ง.

๒.๒



ก.



ข.



ค.



ง.