

# รายวิชาคณิตศาสตร์

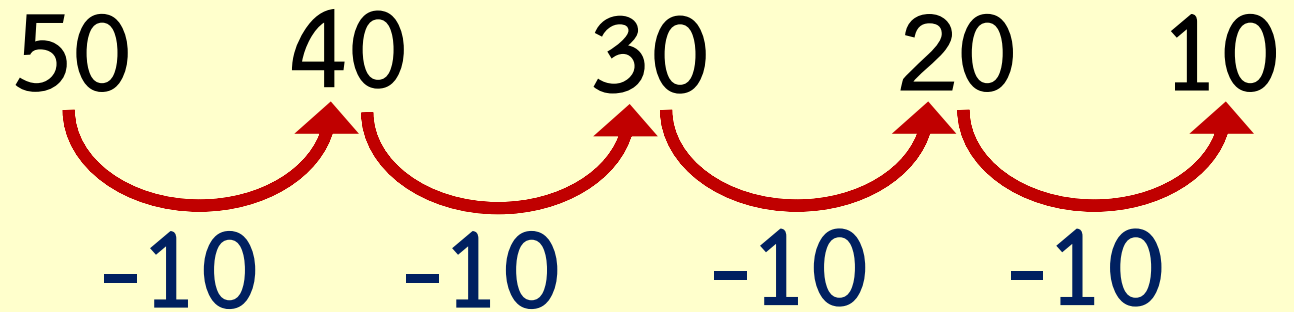
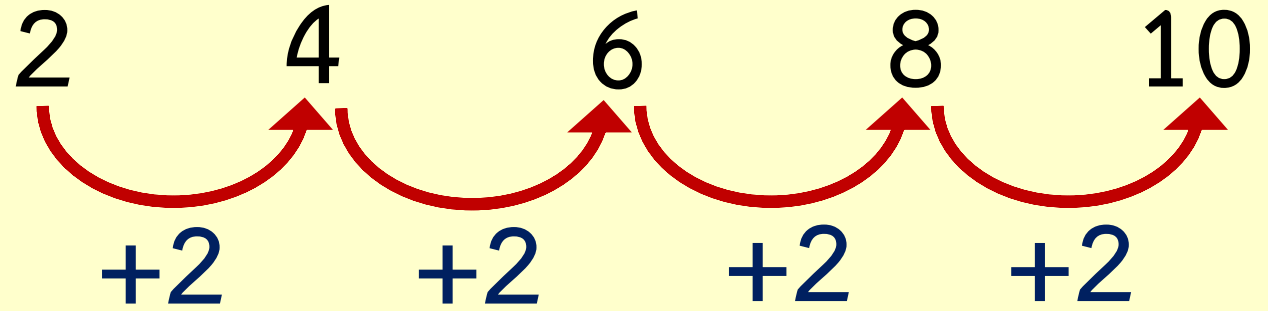
รหัสวิชา ค16101

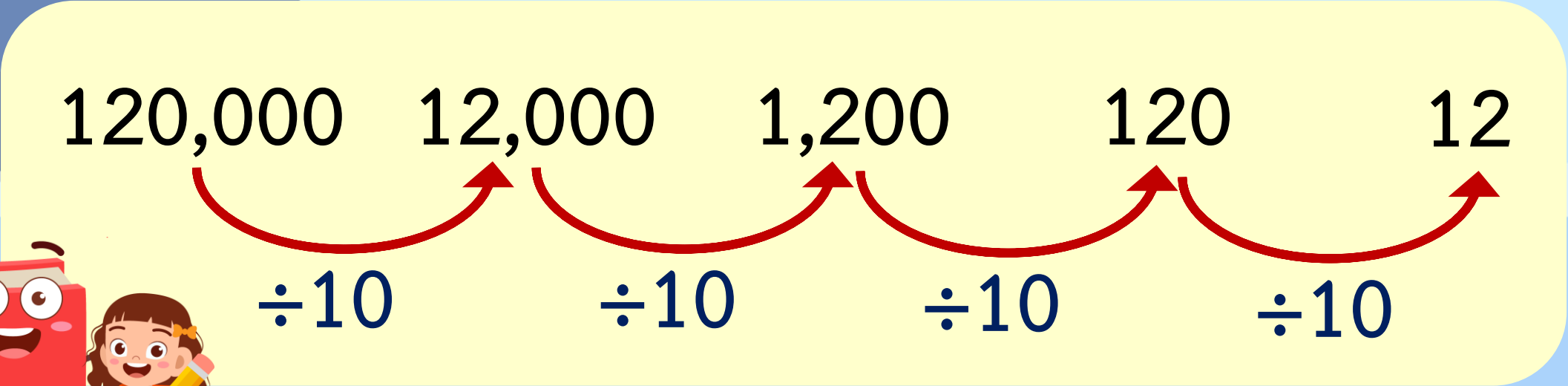
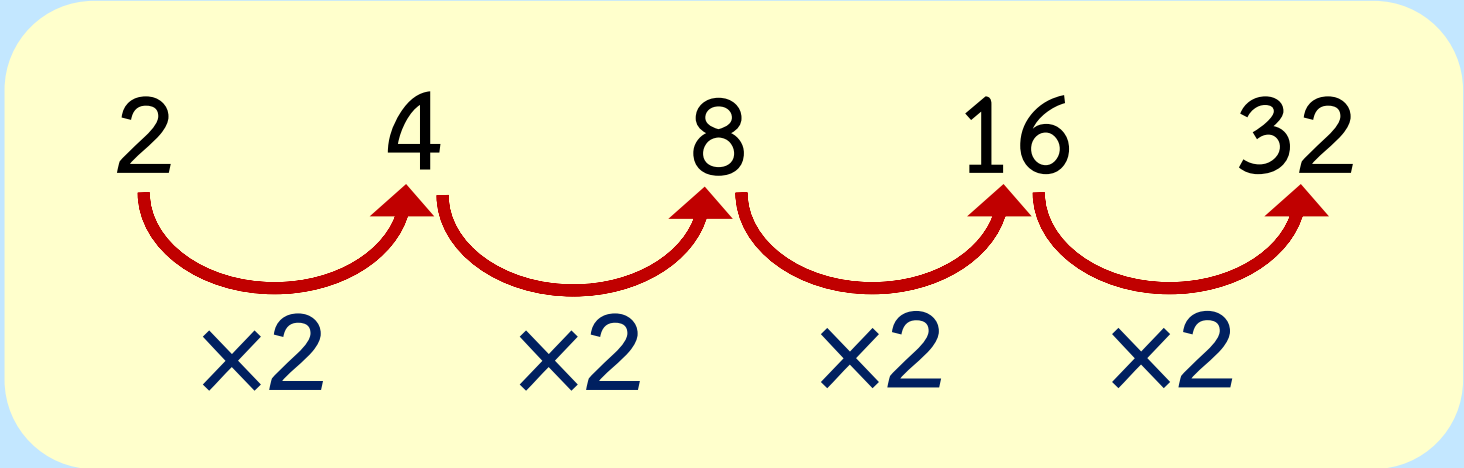

ชั้นประถมศึกษาปีที่ 6

เรื่อง แบบรูปของจำนวนที่เพิ่มขึ้น  
และลดลง

ครูผู้สอน ครูทรงพล ลิ่มทรงธรรม  
ครูรุจิรดา เวทยานุกูล





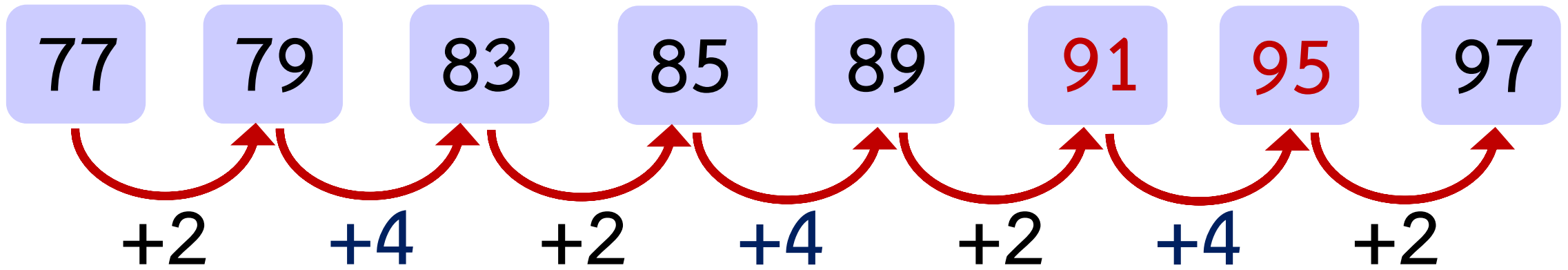


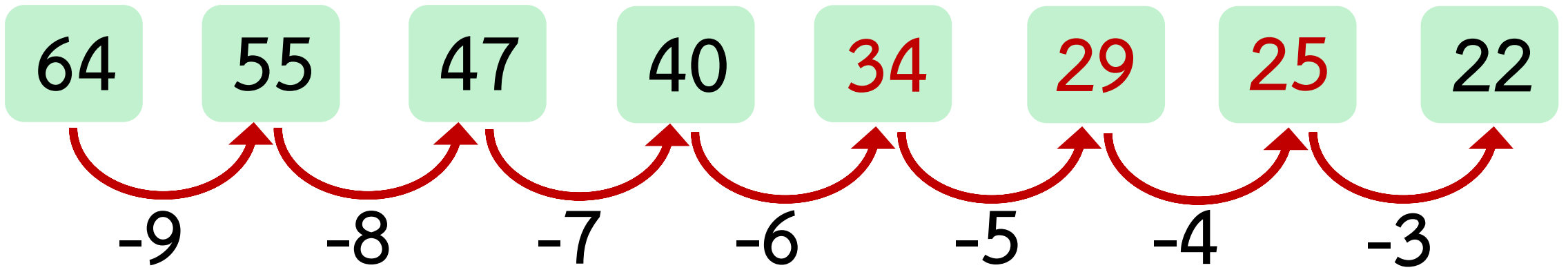
# แบบรูปของจำนวน ที่เพิ่มขึ้นและลดลง



# จุดประสงค์การเรียนรู้

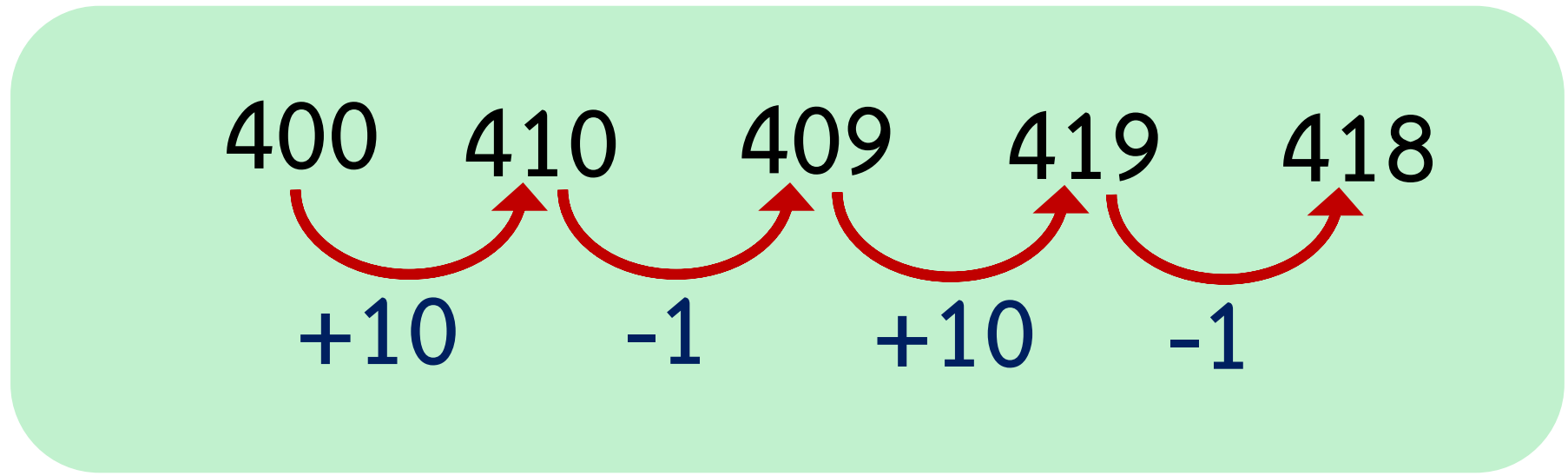
เพื่อให้นักเรียนสามารถบอกความสัมพันธ์  
ของจำนวนและเขียนจำนวนในแบบรูป  
ของจำนวนนับที่เพิ่มขึ้นและลดลง







400 410 409 419 418 ... ..







จำนวนที่อยู่ถัดจาก 418 อีก 2 จำนวนคือจำนวนใด

400

410

409

419

418

428

427

+10

-1

+10

-1

+10

-1





13

39

35

105

101

...

...

13

39

35

105

101

$\times 3$

$-4$

$\times 3$

$-4$





จำนวนที่อยู่ถัดจาก 101 อีก 2 จำนวนคือจำนวนใด

13

39

35

105

101

303

299

$\times 3$

$-4$

$\times 3$

$-4$

$\times 3$

$-4$



ตอบได้มีรางวัล





## คำชี้แจงบทบาทครูปลายทาง

1. ครูให้นักเรียนจับคู่
2. ครูเดินดูนักเรียน  
ให้คำแนะนำและตรวจสอบ  
ความถูกต้อง

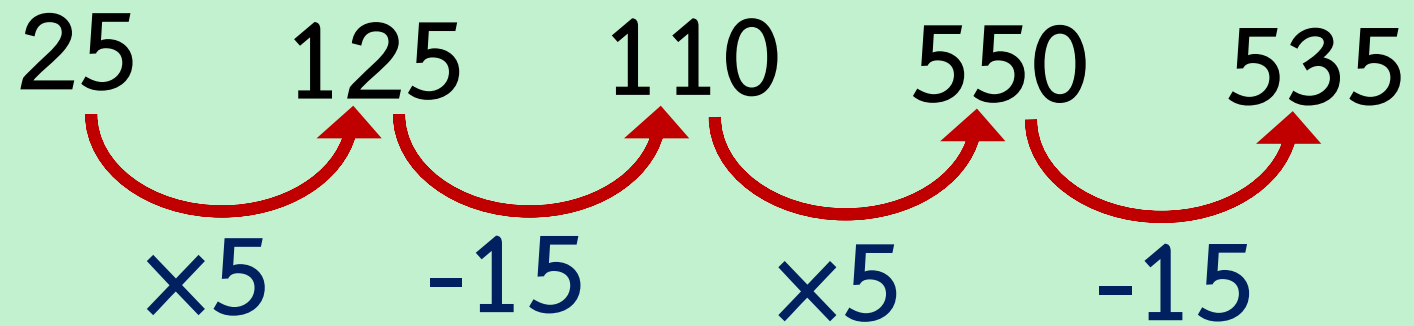


## คำชี้แจงกิจกรรมนักเรียน

1. ให้นักเรียนพิจารณาแบบรูปที่กำหนดให้ และหาจำนวนที่ 6, 7, 8 และ 9 คือจำนวนใด โดยทำลงในสมุด
2. เมื่อนักเรียนแต่ละกลุ่มทำเสร็จแล้วส่งตัวแทนมานำเสนอผลงาน



25    125    110    550    535    ...    ...





จำนวนที่ 6 , 7 , 8 และ 9 คือจำนวนใด

25   125   110   550   535   2,675   2,660   13,300   13,285

$\times 5$     $-15$     $\times 5$     $-15$     $\times 5$     $-15$     $\times 5$     $-15$



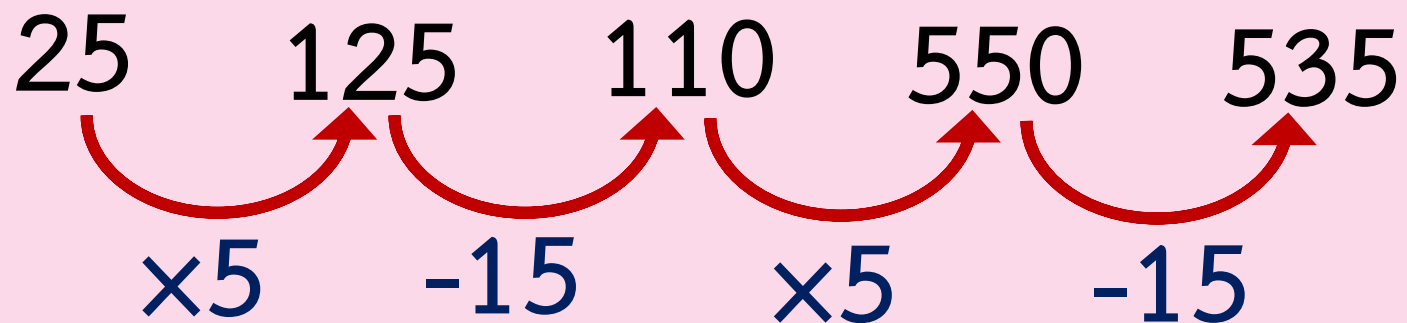
# สรุปบทเรียน







25    125    110    550    535    ...    ...



# แบบฝึกหัด 5.3





## แบบฝึกหัด 5.3

1. สังเกตจำนวนในแบบรูป แล้วเติมความสัมพันธ์ใน

1) 32      37      47      62      82      107

2) 108      99      90      81      72      63

3) 5      50      500      5,000      50,000      500,000

4) 262,144      65,536      16,384      4,096      1,024      256

5) 85      88      82      85      79      82      76

2. เติมตัวเลขแสดงจำนวนใน  ให้ถูกต้อง

1) 10      11      14      19           

2) 300      310      308      318           

3) 545      540      548      543           

4) 600      590      592               576

5) 18      54      34               226     





บทเรียนครั้งต่อไป

ความสัมพันธ์ของ

รูปเรขาคณิตในแบบรูป



สิ่งที่ต้องเตรียมในชั่วโมงต่อไป

แบบฝึกหัด 5.4

สามารถดาวน์โหลดได้ที่ [www.dltv.ac.th](http://www.dltv.ac.th)

