









แบบฝึกหัด 1.1

1. หาตัวประกอบของจำนวนนับที่กำหนดให้


- 1) ตัวประกอบของ 13 ได้แก่
- 2) ตัวประกอบของ 16 ได้แก่
- 3) ตัวประกอบของ 21 ได้แก่
- 4) ตัวประกอบของ 25 ได้แก่
- 5) ตัวประกอบของ 36 ได้แก่
- 6) ตัวประกอบของ 41 ได้แก่
- 7) ตัวประกอบของ 49 ได้แก่
- 8) ตัวประกอบของ 60 ได้แก่
- 9) ตัวประกอบของ 75 ได้แก่
- 10) ตัวประกอบของ 84 ได้แก่
- 11) ตัวประกอบของ 97 ได้แก่
- 12) ตัวประกอบของ 100 ได้แก่




2. ให้นักเรียนวาดจำนวนกลีบดอกไม้เท่ากับจำนวนตัวประกอบของจำนวนนับที่กำหนดให้ แล้วเขียนตัวประกอบของจำนวนนับนั้นลงในกลีบดอกไม้




6) 33



7) 52



8) 53



9) 81

