






แบบฝึกหัด 7.9

1 โยงเส้นจับคู่จำนวนสินค้าที่ซื้อกับจำนวนเงินที่ต้องจ่าย



จำนวนสินค้าที่ซื้อ

จำนวนเงินที่ต้องจ่าย

- | | | |
|--|-----------------------|---|
| 1)  | <input type="radio"/> | <input checked="" type="radio"/> 244.50 บาท |
| 2)  | <input type="radio"/> | <input checked="" type="radio"/> 282 บาท |
| 3)  | <input type="radio"/> | <input checked="" type="radio"/> 158 บาท |
| 4)  | <input type="radio"/> | <input checked="" type="radio"/> 70.50 บาท |
| 5)  | <input type="radio"/> | <input checked="" type="radio"/> 79 บาท |

2 เขียนแสดงวิธีทำและเขียนคำตอบลงในช่องว่าง

1) สินค้าราคาชิ้นละ 89.00 บาท ซื้อ 7 ชิ้น เป็นเงินเท่าใด

วิธีทำ

.....

.....

.....

.....

ตอบ

.....

7) สินค้าราคาชิ้นละ 56.25 บาท ซื้อ 5 ชิ้น เป็นเงินเท่าใด

วิธีทำ

.....

.....

.....

.....

ตอบ

.....

8) สินค้าราคาชุดละ 114.75 บาท ซื้อ 9 ชุด เป็นเงินเท่าใด

วิธีทำ

.....

.....

.....

.....

ตอบ

.....

