

รายวิชาคณิตศาสตร์

รหัสวิชา ค13101

ชั้นประถมศึกษาปีที่ 3

เรื่อง การเปรียบเทียบจำนวนเงิน

ครูผู้สอน

1. ครูสาวตรี

หนูมาศ

2. ครูสุคนธา

บูโปก



เรื่อง

การเปรียบเทียบจำนวนเงิน



จุดประสงค์การเรียนรู้

เพื่อให้นักเรียนสามารถเปรียบเทียบจำนวนเงิน





185.00 บาท

ภาพที่ 1



100.00 บาท

ภาพที่ 2



64.50 บาท

ภาพที่ 3



70.75 บาท

ภาพที่ 4



185.00 บาท



100.00 บาท

185 บาท มากกว่า 100 บาท



64.50 บาท



70.75 บาท

64.50 บาท น้อยกว่า 70.75 บาท

กิจกรรม “สะสมทรัพย์”

1. ครูแจกบัตรคำ “มากกว่า” “น้อยกว่า” หรือ “เท่ากับ”
ให้กลุ่มละ 1 ชุด
2. การเล่นเกมแต่ละรอบให้กลุ่มส่งตัวแทนขึ้นรอบละ 1 คน
3. ครูมีบัตรภาพจำนวนเงินหรือสินค้า ให้ตัวแทนกลุ่ม
เปรียบเทียบจำนวนเงินจากบัตรภาพและชูบัตรคำ
“มากกว่า” “น้อยกว่า” หรือ “เท่ากับ”

รางวัลมูลค่า 12 บาท



64,990.00 บาท

64,990.00 บาท



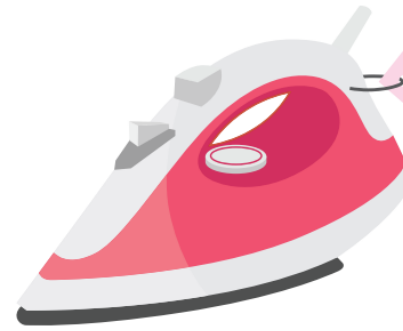
34,990.00 บาท

34,990.00 บาท

รางวัลมูลค่า 17 บาท




627.75 บาท



627.75 บาท

627.75 บาท

627.75 บาท



1,050.75 บาท



1,222.00 บาท





1,222.00 บาท



1,050.75 บาท

รางวัลมูลค่า 17 บาท




1,000.00 บาท



1,000.00 บาท

รางวัลมูลค่า 25 บาท



858.50 บาท



โจมีเงิน.....265.25.....บาท



จอยมีเงิน.....**269.00**.....บาท



โจมีเงิน...265.25...บาท



จอยมีเงิน...269.00...บาท



269.00 บาท



259.75 บาท

โจมีเงินมากกว่าหรือน้อยกว่าจอย



โจมีเงิน...265.25...บาท



จอยมีเงิน...269.00.....บาท



269.00 บาท



259.75 บาท

ราคาตุ๊กตาหมีมากกว่าหรือน้อยกว่าราคาตุ๊กตาสุนัข



โจมีเงิน...265.25...บาท



จอยมีเงิน...269.00.....บาท



269.00 บาท



259.75 บาท

จอยซื้อตุ๊กตาหมีได้หรือไม่ เพราะอะไร



โจมีเงิน...265.25...บาท



จอยมีเงิน...269.00.....บาท



269.00 บาท



259.75 บาท

โจซื้อตุ๊กตาสุนัขได้หรือไม่ เพราะอะไร



สรุป




จากกิจกรรมนี้ สรุปได้ว่า.....

จำนวนเงินสองจำนวนเมื่อนำมาเปรียบเทียบกัน
จำนวนเงินอาจมากกว่ากัน หรือน้อยกว่ากัน
หรือเท่ากันอย่างไรก็ตามอย่างหนึ่ง



แบบฝึกหัด 7.7

1 เขียนคำตอบในช่องว่าง

- 1) 
 เกมีมีเงิน บาท สตางค์
- 2) 
 แจ็กมีเงิน บาท สตางค์
- 3) 
 อุ้มมีเงิน บาท สตางค์
- 4) มีเงินมากที่สุด
- 5) มีเงินน้อยที่สุด
- 6) แจ็กมีเงิน อุ้ม แต่ เก

2 เปรียบเทียบจำนวนเงินโดยเขียนคำ มากกว่า น้อยกว่า หรือเท่ากับ ลงในช่องว่าง

- | | | |
|-------------------------|-------|---------------------|
| 1) 1,290 บาท | | 893 บาท |
| 2) 409 บาท 50 สตางค์ | | 480 บาท 75 สตางค์ |
| 3) 6,064 บาท 75 สตางค์ | | 6,064.75 บาท |
| 4) 721.50 บาท | | 712.75 บาท |
| 5) 649.00 บาท | | 64.50 บาท |
| 6) 867.25 บาท | | 1,890 บาท |
| 7) 120 บาท 75 สตางค์ | | 210 บาท 50 สตางค์ |
| 8) 3,052.25 บาท | | 3,052 บาท 25 สตางค์ |
| 9) 1,189.75 บาท | | 913 บาท |
| 10) 8,267 บาท 75 สตางค์ | | 8,267.75 บาท |



3 เขียนคำตอบลงในช่องว่าง



- รถจักรยานคันที่ 2 ราคามากกว่าหรือน้อยกว่ารถจักรยานคันที่ 3
.....
- รถจักรยานคันใดมีราคามากที่สุด
.....
- รถจักรยานคันใดมีราคาน้อยที่สุด
.....
- ถ้ามีเงิน 2,500 บาท สามารถซื้อรถจักรยานคันใดได้บ้าง
.....



รถจักรยานคันที่ 1



รถจักรยานคันที่ 2



รถจักรยานคันที่ 3



รถจักรยานคันที่ 4

บทเรียนครั้งต่อไป

การบวกและการลบจำนวนเงิน

สิ่งที่ต้องเตรียม

แบบฝึกหัด 7.8

สามารถดาวน์โหลดได้ที่ www.dltv.ac.th

