

# แบบฝึกหัด 7.6

## 1 เขียนจำนวนแบบใช้จุด

1)

เงินทั้งหมด ..... บาท

2)

เงินทั้งหมด ..... บาท

3)

เงินทั้งหมด ..... บาท



4)



เงินทั้งหมด ..... บาท

5)



เงินทั้งหมด ..... บาท

6)


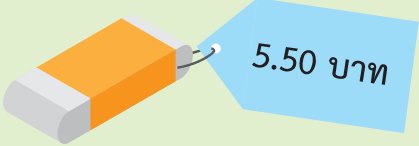




เงินทั้งหมด ..... บาท

## 2 เขียนจำนวนเงินต่อไปนี้แบบใช้จุด

- |                                     |                        |
|-------------------------------------|------------------------|
| 1) 325 บาท 25 สตางค์                | เขียนแบบใช้จุด.....บาท |
| 2) 75 สตางค์                        | เขียนแบบใช้จุด.....บาท |
| 3) 4,805 บาท                        | เขียนแบบใช้จุด.....บาท |
| 4) 5,702 บาท 50 สตางค์              | เขียนแบบใช้จุด.....บาท |
| 5) เก้าพันห้าสิบบาทยี่สิบบห้าสตางค์ | เขียนแบบใช้จุด.....บาท |

## 3 เขียนจำนวนเงินเป็นบาทและสตางค์

<p>1)</p>  <p>.....</p> <p>.....</p>	<p>2)</p>  <p>.....</p> <p>.....</p>
<p>3)</p>  <p>.....</p> <p>.....</p>	<p>4)</p>  <p>.....</p> <p>.....</p>