

## แบบฝึกหัด 7.2



## 1 เขียนวงล้อมรอบธนบัตรตามเงื่อนไขที่กำหนด

1)

ธนบัตรที่มีค่าน้อยที่สุด



2)

ธนบัตรที่มีค่ามากที่สุด



3)

ธนบัตรที่มีค่าเท่ากับธนบัตร



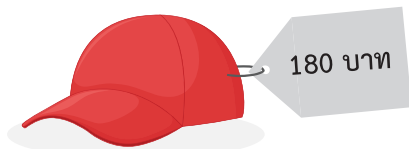
4)

ธนบัตรที่มีค่าเท่ากับธนบัตร




## 2 เขียนวงล้อมรอบธนบัตรให้เท่ากับราคาสินค้าที่กำหนด


1)



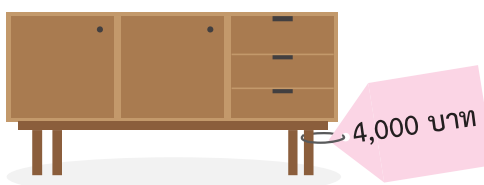
2)



3)



4)



3 เขียนวงล้อมรอบชื่อคนที่มีเงินพอดีกับราคาสินค้าให้ครบ

1)



400 บาท



หญิง




มุก







ปู


2)




700 บาท



ออย



ฟาง



มิ่ง

3)



250 บาท



पूा



แป้ง




กึ่ง

4)



1,000 บาท



ตุ้ก



เกรรท



ตัน