

# รายวิชาคณิตศาสตร์

รหัสวิชา ค13101

ชั้นประถมศึกษาปีที่ 3

เรื่อง

1. เงินเหรียญชนิดต่าง ๆ
2. ธนบัตรชนิดต่าง ๆ

ครูผู้สอน

1. ครูสาวিতรี
2. ครูสุคนธา

หนุมาศ  
บูโกก



# เรื่อง

1. เงินเหรียญชนิดต่าง ๆ
2. ธนบัตรชนิดต่าง ๆ



## จุดประสงค์การเรียนรู้

เพื่อให้นักเรียนสามารถ

1. จำแนกและบอกค่าเงินเหรียญและธนบัตรได้
2. เปรียบเทียบค่าของธนบัตรได้



แสดงวิธีการจ่ายเงินในการซื้อดินสอ  
ราคา 10 บาท ให้พอดี







ที่มาภาพตัวอย่างธนบัตร : ราชกิจจานุเบกษา เล่ม ๑๓๕ ตอนพิเศษ ๑๗๖ ง วันที่ ๒๓ กรกฎาคม ๒๕๖๑

เอกสารแนบท้ายประกาศกระทรวงการคลัง เรื่อง ลักษณะสีและขนาดธนบัตรแบบใหม่ ชนิดราคา ๒๐ บาท ๕๐ บาท ๑๐๐ บาท ๕๐๐ บาท และ ๑,๐๐๐ บาท ที่จะนำออกใช้





## ธนบัตรชนิดราคา 20 บาท หรือธนบัตรยี่สิบบาท

ที่มาภาพตัวอย่างธนบัตร : ราชกิจจานุเบกษา เล่ม ๑๓๕ ตอนพิเศษ ๑๗๖ ง วันที่ ๒๓ กรกฎาคม ๒๕๖๑  
เอกสารแนบท้ายประกาศกระทรวงการคลัง เรื่อง ลักษณะสีและขนาดธนบัตรแบบใหม่  
ชนิดราคา ๒๐ บาท ๕๐ บาท ๑๐๐ บาท ๕๐๐ บาท และ ๑,๐๐๐ บาท ที่จะนำออกใช้



มีธนบัตรยี่สิบบาท 2 ฉบับ มีเงินก็บาท

มีเงิน 40 บาท





เท่ากับ



ธนบัตรยี่สิบบาท 1 ฉบับ เท่ากับเหรียญสิบบาทที่เหรียญ

ธนบัตรยี่สิบบาท 1 ฉบับ เท่ากับเหรียญสิบบาท 2 เหรียญ





ต้องซื้อของราคา 100 บาท ต้องจ่ายเงินด้วยธนบัตรยี่สิบบาทกี่ฉบับ

ต้องจ่ายเงินด้วยธนบัตรยี่สิบบาท 5 ฉบับ



# ธนบัตรชนิดราคา 50 บาท หรือธนบัตรห้าสิบบาท

ที่มาภาพตัวอย่างธนบัตร : ราชกิจจานุเบกษา เล่ม ๑๓๕ ตอนพิเศษ ๑๗๖ ง วันที่ ๒๓ กรกฎาคม ๒๕๖๑  
เอกสารแนบท้ายประกาศกระทรวงการคลัง เรื่อง ลักษณะสีและขนาดธนบัตรแบบใหม่  
ชนิดราคา ๒๐ บาท ๕๐ บาท ๑๐๐ บาท ๕๐๐ บาท และ ๑,๐๐๐ บาท ที่จะนำออกใช้





มีธนบัตรห้าสิบบาท 4 ฉบับ มีเงินก็บาท

มีเงิน 200 บาท



เท่ากับ



ธนบัตรทำสิบบาท 1 ฉบับ เท่ากับเหรียญสิบบาทที่เหรียญ

ธนบัตรทำสิบบาท 1 ฉบับ เท่ากับเหรียญสิบบาท 5 เหรียญ





เท่ากับ 100 บาท

ธนบัตรห้าสิบบาท 2 ฉบับ เท่ากับธนบัตรยี่สิบบาทที่ฉบับ

100 บาท เท่ากับ







ธนบัตรห้าสิบบาท 2 ฉบับ เท่ากับธนบัตรยี่สิบบาทที่ฉบับ

ธนบัตรห้าสิบบาท 2 ฉบับ เท่ากับธนบัตรยี่สิบบาท 5 ฉบับ





## ธนบัตรชนิดราคา 100 บาท หรือธนบัตรหนึ่งร้อยบาท

ที่มาภาพตัวอย่างธนบัตร : ราชกิจจานุเบกษา เล่ม ๑๓๕ ตอนพิเศษ ๑๗๖ ง วันที่ ๒๓ กรกฎาคม ๒๕๖๑  
เอกสารแนบท้ายประกาศกระทรวงการคลัง เรื่อง ลักษณะสีและขนาดธนบัตรแบบใหม่  
ชนิดราคา ๒๐ บาท ๕๐ บาท ๑๐๐ บาท ๕๐๐ บาท และ ๑,๐๐๐ บาท ที่จะนำออกใช้





มีธนบัตรหนึ่งร้อยบาท 5 ฉบับ มีเงินก็บาท

มีเงิน 500 บาท





ธนบัตรหนึ่งร้อยบาท 1 ฉบับ เท่ากับธนบัตรยี่สิบบาทที่ฉบับ

ธนบัตรหนึ่งร้อยบาท 1 ฉบับ เท่ากับ ธนบัตรยี่สิบบาท 5 ฉบับ





ธนบัตรหนึ่งร้อยบาท 1 ฉบับ เท่ากับธนบัตรห้าสิบบาทที่ฉบับ

ธนบัตรหนึ่งร้อยบาท 1 ฉบับ เท่ากับ ธนบัตรห้าสิบบาท 2 ฉบับ





ต้องซื้ออาหารราคา 700 บาท ต้องจ่ายเงินด้วยธนบัตรหนึ่งร้อยบาทที่ฉบับ

ต้องจ่ายเงินด้วยธนบัตรหนึ่งร้อยบาท 7 ฉบับ





## ธนบัตรชนิดราคา 500 บาท หรือธนบัตรห้าร้อยบาท

ที่มาภาพตัวอย่างธนบัตร : ราชกิจจานุเบกษา เล่ม ๑๓๕ ตอนพิเศษ ๑๗๖ ง วันที่ ๒๓ กรกฎาคม ๒๕๖๑  
เอกสารแนบท้ายประกาศกระทรวงการคลัง เรื่อง ลักษณะสีและขนาดธนบัตรแบบใหม่  
ชนิดราคา ๒๐ บาท ๕๐ บาท ๑๐๐ บาท ๕๐๐ บาท และ ๑,๐๐๐ บาท ที่จะนำออกใช้



มีธนบัตรห้าร้อยบาท 2 ฉบับ มีเงินก็บาท

มีเงิน 1,000 บาท





ธนบัตรห้าร้อยบาท 1 ฉบับ เท่ากับธนบัตรหนึ่งร้อยบาทที่ฉบับ

ธนบัตรห้าร้อยบาท 1 ฉบับเท่ากับ ธนบัตรหนึ่งร้อยบาท 5 ฉบับ





ต้องซื้อเครื่องใช้ไฟฟ้าราคา 2,500 บาท ต้องจ่ายเงินด้วยธนบัตรห้าร้อยบาทกี่ฉบับ

ต้องจ่ายเงินด้วยธนบัตรห้าร้อยบาท 5 ฉบับ





มีธนบัตรห้าร้อยบาท 6 ฉบับ  
สามารถซื้อตู้ราคา 2,500 บาทได้หรือไม่ เพราะเหตุใด





มีธนบัตรห้าร้อยบาท 6 ฉบับ  
สามารถซื้อตุ๊กตา 2,500 บาทได้หรือไม่ เพราะเหตุใด





## ธนบัตรชนิดราคา 1,000 บาท หรือธนบัตรหนึ่งพันบาท

ที่มาภาพตัวอย่างธนบัตร : ราชกิจจานุเบกษา เล่ม ๑๓๕ ตอนพิเศษ ๑๗๖ ง วันที่ ๒๓ กรกฎาคม ๒๕๖๑  
เอกสารแนบท้ายประกาศกระทรวงการคลัง เรื่อง ลักษณะสีและขนาดธนบัตรแบบใหม่  
ชนิดราคา ๒๐ บาท ๕๐ บาท ๑๐๐ บาท ๕๐๐ บาท และ ๑,๐๐๐ บาท ที่จะนำออกใช้



มีธนบัตรหนึ่งพันบาท 3 ฉบับ มีเงินกี่บาท

มีเงิน 3,000 บาท





มีค่า 1,000 บาท

ธนบัตรหนึ่งพันบาท 1 ฉบับ เท่ากับธนบัตรหนึ่งร้อยบาทที่ฉบับ





1,000 บาท จะต้องมีธนบัตรหนึ่งร้อยบาท 10 ฉบับ





มีค่า 1,000 บาท



ธนบัตรหนึ่งพันบาท 1 ฉบับ เท่ากับธนบัตรหนึ่งร้อยบาทที่ฉบับ

ธนบัตรหนึ่งพันบาท 1 ฉบับ เท่ากับ ธนบัตรหนึ่งร้อยบาท 10 ฉบับ





ต้องซื้อของราคา 9,000 บาท ต้องจ่ายเงินด้วยธนบัตรหนึ่งพันบาทกี่ฉบับ


ต้องจ่ายเงินด้วยธนบัตรหนึ่งพันบาท 9 ฉบับ





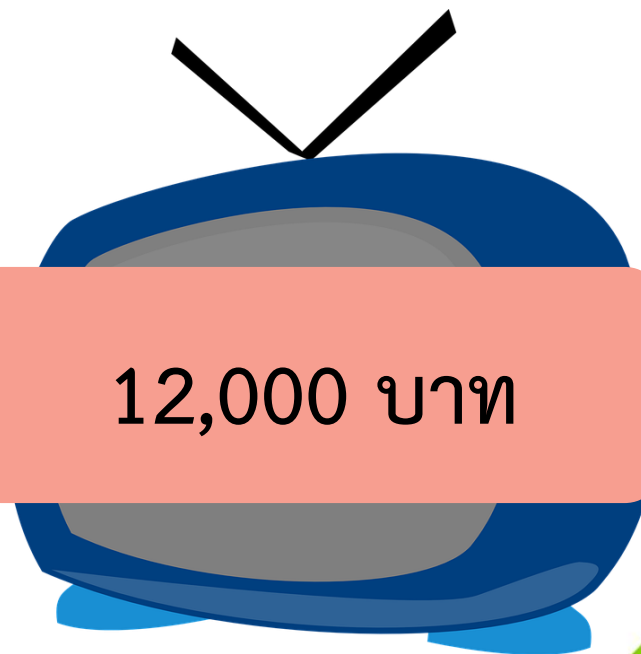
มีธนบัตรหนึ่งพันบาท 10 ฉบับ  
สามารถซื้อโทรทัศน์ราคา 12,000 บาทได้หรือไม่





10,000 บาท

ขอไม่ได้



12,000 บาท





# ธนบัตรที่ใช้หมุนเวียนในปัจจุบัน

สืบค้น ณ วันที่ 26 กรกฎาคม พ.ศ. 2564

ที่มา : [https://www.bot.or.th/Thai/Banknotes/HistoryAndSeriesOfBanknotes/Pages/All\\_Series\\_of\\_Banknotes.aspx](https://www.bot.or.th/Thai/Banknotes/HistoryAndSeriesOfBanknotes/Pages/All_Series_of_Banknotes.aspx)





# ธนบัตรที่ใช้หมุนเวียนในปัจจุบัน

สืบค้น ณ วันที่ 26 กรกฎาคม พ.ศ. 2564

ที่มา: [https://www.bot.or.th/Thai/Banknotes/HistoryAndSeriesOfBanknotes/Pages/All\\_Series\\_of\\_Banknotes.aspx](https://www.bot.or.th/Thai/Banknotes/HistoryAndSeriesOfBanknotes/Pages/All_Series_of_Banknotes.aspx)





## ธนบัตรที่ใช้หมุนเวียนในปัจจุบัน

สืบค้น ณ วันที่ 26 กรกฎาคม พ.ศ. 2564

ที่มา: [https://www.bot.or.th/Thai/Banknotes/HistoryAndSeriesOfBanknotes/Pages/All\\_Series\\_of\\_Banknotes.aspx](https://www.bot.or.th/Thai/Banknotes/HistoryAndSeriesOfBanknotes/Pages/All_Series_of_Banknotes.aspx)

## กิจกรรม “สะสมทรัพย์”

1. ครูแจกธนบัตรจำลองชนิดละ 10 ฉบับและเหรียญสิบบาทจำลอง 10 เหรียญ
2. ให้นักเรียนแสดงเงินเหรียญหรือธนบัตรให้สอดคล้องกับเงื่อนไขที่ครูกำหนด

---

กลุ่มใดทำถูกต้องได้รับเงินรางวัลตามที่ครูกำหนด





รางวัลมูลค่า 2 บาท

ธนบัตรที่มีค่าน้อยที่สุด



รางวัลมูลค่า 2 บาท

ธนบัตรที่มีค่ามากที่สุด





รางวัลมูลค่า 2 บาท

ธนบัตรที่มีสีแดงกับธนบัตรที่มีสีม่วง  
ธนบัตรสีใดมีค่ามากกว่า เพราะอะไร



10 ฉบับ

รางวัลมูลค่า 5 บาท

แสดงเงิน 200 บาท ด้วยธนบัตรชนิดเดียวกัน





4 ฉบับ

รางวัลมูลค่า 5 บาท

แสดงเงิน 200 บาท ด้วยธนบัตรชนิดเดียวกัน



2 ฉบับ

รางวัลมูลค่า 5 บาท

แสดงเงิน 200 บาท ด้วยธนบัตรชนิดเดียวกัน





2 ฉบับ

รางวัลมูลค่า 5 บาท

แสดงเงิน 1,000 บาท ด้วยธนบัตรชนิดเดียวกัน



10 ฉบับ

รางวัลมูลค่า 5 บาท

แสดงเงิน 1,000 บาท ด้วยธนบัตรชนิดเดียวกัน





1 ฉบับ

รางวัลมูลค่า 5 บาท

แสดงเงิน 1,000 บาท ด้วยธนบัตรชนิดเดียวกัน



รางวัลมูลค่า 10 บาท

ถ้ามี 2 ฉบับ จะเท่ากับมีธนบัตรหนึ่งพันบาท 1 ฉบับ  
ฉันทคือธนบัตรใด





รางวัลมูลค่า 10 บาท

ถ้ามี 5 ฉบับ จะเท่ากับมีธนบัตรหนึ่งร้อยบาท 1 ฉบับ  
ฉันทคือธนบัตรใด



รางวัลมูลค่า 10 บาท

ถ้ามีเหรียญสิบบาท 10 เหรียญ จะเท่ากับมีฉันทัน 2 ใบ

ฉันทันคือธนบัตรใด





รางวัลมูลค่า 10 บาท


ฉันทมีค่ามากกว่าธนบัตรที่มีสีเขียวแต่น้อยกว่าธนบัตรที่มีสีแดง  
ฉันทคือธนบัตรใด



รางวัลมูลค่า 10 บาท

ต้องใช้เหรียญสองบาท 500 เหรียญถึงจะเท่ากับฉันทันหนึ่งฉบับ  
ฉันทันคือธนบัตรใด





ให้นักเรียนเรียงลำดับค่าของธนบัตรจากน้อยไปมาก



สรุป



# จากกิจกรรมนี้ สรุปได้ว่า.....

ธนบัตรและเงินเหรียญของประเทศไทยที่ใช้ในปัจจุบัน

- ธนบัตร ได้แก่ ธนบัตรหนึ่งพันบาท  
ธนบัตรห้าร้อยบาท ธนบัตรหนึ่งร้อยบาท  
ธนบัตรห้าสิบบาท และธนบัตรยี่สิบบาท
- เงินเหรียญ ได้แก่ เหรียญสิบบาท เหรียญห้าบาท  
เหรียญสองบาท เหรียญหนึ่งบาท  
เหรียญห้าสิบบาทต่างค์ และเหรียญยี่สิบบาทต่างค์



# จากกิจกรรมนี้ สรุปได้ว่า.....

ธนบัตรเรียงลำดับจากน้อยไปมากได้ดังนี้

ธนบัตรยี่สิบบาท

ธนบัตรห้าสิบบาท

ธนบัตรหนึ่งร้อยบาท

ธนบัตรห้าร้อยบาท

ธนบัตรหนึ่งพันบาท





แบบฝึกหัด 7.2



1 เขียนวงล้อมรอบธนบัตรตามเงื่อนไขที่กำหนด

1) ธนบัตรที่มีค่าน้อยที่สุด



2) ธนบัตรที่มีค่ามากที่สุด



3) ธนบัตรที่มีค่าเท่ากับธนบัตร



4) ธนบัตรที่มีค่าเท่ากับธนบัตร



2 เขียนวงล้อมรอบธนบัตรให้เท่ากับราคาสินค้าที่กำหนด

1) 180 บาท

2) 300 บาท

3) 1,500 บาท

4) 4,000 บาท



3 เขียนวงล้อมรอบชื่อคนที่มีเงินพอดีกับราคาสินค้าให้ครบ

1)



400 บาท















หญิง มุก ปู

2)




700 บาท














ออย ฟาง มิ่ง

3)




250 บาท














ฟ้า แป้ง กุ้ง

4)



1,000 บาท

ตุ๊ก เกรท ต้น





## บทเรียนครั้งต่อไป

1. เงินเหรียญชนิดต่าง ๆ
2. การแลกเงินเหรียญ

## สิ่งที่ต้องเตรียม

1. เงินเหรียญ หรือเงินเหรียญจำลอง
2. แบบฝึกหัด 7.3

สามารถดาวน์โหลดได้ที่ [www.dltv.ac.th](http://www.dltv.ac.th)

