

# รายวิชาคณิตศาสตร์

รหัสวิชา ค13101

ชั้นประถมศึกษาปีที่ 3

**เรื่อง**

1. ชนิดและค่าของเงินเหรียญ
2. การเปรียบเทียบค่าของเงินเหรียญ

**ครูผู้สอน**

1. ครูสาวตรี

หนูมาศ

2. ครูสุคนธา

บูโปก



# เรื่อง

1. ชนิดและค่าของเงินเหรียญ
2. การเปรียบเทียบค่าของเงินเหรียญ



## จุดประสงค์การเรียนรู้

เพื่อให้นักเรียนสามารถ

1. จำแนกและบอกค่าเงินเหรียญได้
2. เปรียบเทียบค่าของเงินเหรียญได้



# เหรียญชนิดราคา 1 บาท หรือเหรียญหนึ่งบาท



ด้านหน้า



ด้านหลัง



ด้านหน้า



ด้านหลัง

มีลักษณะเป็นวงกลม สีเงิน

มีเงินเหรียญหนึ่งบาท 7 เหรียญ มีเงินก็บาท



---

มีเงิน 7 บาท



ต้องการซื้ออย่างละราคา 2 บาท  
ต้องจ่ายเงินด้วยเหรียญหนึ่งบาทก็เหรียญ



---

ต้องจ่ายเงินด้วยเหรียญหนึ่งบาท 2 เหรียญ

ต้องการซื้อไม้บรรทัดราคา 5 บาท  
ต้องจ่ายเงินด้วยเหรียญหนึ่งบาทก็เหรียญ



---

ต้องจ่ายด้วยเหรียญหนึ่งบาท 5 เหรียญ

มีเงินเหรียญหนึ่งบาท 8 เหรียญ  
ซื้อสมุดราคา 7 บาทได้หรือไม่ เพราะเหตุใด





มีเงินเหรียญหนึ่งบาท 8 เหรียญ  
ซื้อสมุดราคา 7 บาทได้หรือไม่ เพราะเหตุใด



# เหรียญชนิดราคา 2 บาท หรือเหรียญสองบาท



ด้านหน้า



ด้านหลัง



ด้านหน้า



ด้านหลัง

มีลักษณะเป็นวงกลม สีทอง

มีเงินเหรียญสองบาท 5 เหรียญ มีเงินกึ่งบาท



---

มีเงิน 10 บาท

ต้องการช็อกบเหลาดินสอราคา 8 บาท  
ต้องจ่ายเงินด้วยเหรียญสองบาทกี่เหรียญ



---

ต้องจ่ายเงินด้วยเหรียญสองบาท 4 เหรียญ



ต้องการช็อกบเหลาดินสอราคา 8 บาท  
ต้องจ่ายเงินด้วยเหรียญสองบาทกี่เหรียญ




---

ต้องจ่ายเงินด้วยเหรียญสองบาท 4 เหรียญ



ต้องการซื้อปากกาคา 12 บาท  
ต้องจ่ายเงินด้วยเหรียญสองบาทกี่เหรียญ



ต้องจ่ายเงินด้วยเหรียญสองบาท 6 เหรียญ

ต้องการซื้อปากกาคา 12 บาท  
ต้องจ่ายเงินด้วยเหรียญสองบาทกี่เหรียญ



---

ต้องจ่ายเงินด้วยเหรียญสองบาท 4 เหรียญ

มีเงินเหรียญสองบาท 10 เหรียญ  
ซื้อขนมราคา 14 บาทได้หรือไม่ เพราะเหตุใด



14 บาท



ได้ เพราะเหรียญสองบาท 10 เหรียญ มีค่า 20 บาท

มีเงินเหรียญสองบาท 10 เหรียญ  
ซื้อขนมราคา 14 บาทได้หรือไม่ เพราะเหตุใด



14 บาท



ได้ เพราะเหรียญสองบาท 10 เหรียญ มีค่า 20 บาท



# เหรียญชนิดราคา 5 บาท หรือเหรียญห้าบาท



ด้านหน้า



ด้านหลัง



ด้านหน้า



ด้านหลัง

มีลักษณะเป็นวงกลม สีเงิน



มีเงินเหรียญห้าบาท 4 เหรียญ มีเงินกึ่งบาท



---

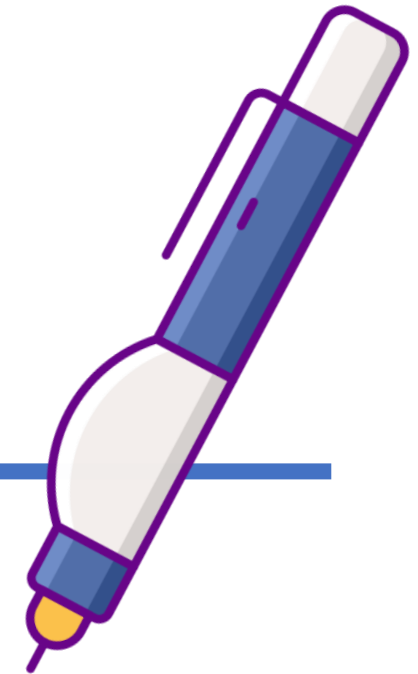
มีเงิน 20 บาท

ต้องการชื้อน้ำยาลบคำผิด ราคา 15 บาท  
ต้องจ่ายเงินด้วยเหรียญห้าบาทกี่เหรียญ



---

ต้องจ่ายเงินด้วยเหรียญห้าบาท 3 เหรียญ



มีเงินเหรียญห้าบาท 5 เหรียญ  
ซื้อดินสอสีราคา 40 บาทได้หรือไม่ เพราะเหตุใด



มีเงิน 25 บาท



# เหรียญชนิดราคา 10 บาท หรือเหรียญสิบบาท



ด้านหน้า



ด้านหลัง



ด้านหน้า



ด้านหลัง

มีลักษณะเป็นวงกลม

โดยวงนอกเป็นโลหะสีเงิน วงในเป็นโลหะสีทอง





มีเงินเหรียญสิบบาท

3 เหรียญ

มีเงินก็บาท



---

มีเงิน 30 บาท





ต้องการซื้อปากกาเน้นข้อความ

ราคา 40 บาท

ต้องจ่ายเงินด้วยเหรียญสิบบาท

ที่เหรียญ


ต้องจ่ายเงินด้วยเหรียญสิบบาท

4 เหรียญ



มีเงิน 50 บาท

มีเงินเหรียญสิบบาท 5 เหรียญ  
ซื้อดินสอสีราคา 49 บาท  
ได้หรือไม่ เพราะเหตุใด





ซื้อได้

มีเงินเหรียญสิบบาท 5 เหรียญ  
ซื้อดินสอสีราคา 49 บาท  
ได้หรือไม่ เพราะเหตุใด







เหรียญสิบบาท 1 เหรียญ



เหรียญสิบบาท 1 เหรียญ  
กับเหรียญห้าบาท 1 เหรียญ  
เหรียญใดมีค่ามากกว่า  
เพราะเหตุใด



เหรียญชนิด 50 สตางค์ หรือเหรียญห้าสิบบาท

เหรียญชนิด 25 สตางค์ หรือเหรียญยี่สิบบาท



เหรียญชนิด 50 สตางค์ หรือเหรียญห้าสิบสตางค์

ด้านหน้า

ด้านหลัง

ด้านหน้า

ด้านหลัง

เหรียญชนิด 25 สตางค์ หรือเหรียญยี่สิบห้าสตางค์

ด้านหน้า

ด้านหลัง

เงินเหรียญสี่สิบห้าสตางค์ 2 เหรียญ มีค่าเท่าไร



50 สตางค์

เงินเหรียญสี่สิบห้าสตางค์ 3 เหรียญ มีค่าเท่าไร



75 สตางค์







100 สตางค์

100 สตางค์ มีค่าเท่ากับ 1 บาท



เท่ากับ





# เงินเหรียญห้าสิบบาทต่าง 2 เหรียญ มีค่าเท่าไร



100 สตางค์

100 สตางค์ มีค่าเท่ากับ 1 บาท



เท่ากับ





เท่ากับ



เท่ากับ



เหรียญสี่สิบห้าสตางค์ก็เหรียญ มีค่าเท่ากับเหรียญห้าสิบสตางค์ 1 เหรียญ



เท่ากับ





เงินเหรียญที่กล่าวมาทั้งหมด เรียกว่า **เหรียญกษาปณ์**

เหรียญ 10 สตางค์



เหรียญ 5 สตางค์



เหรียญ 1 สตางค์





ให้นักเรียนแต่ละกลุ่มร่วมกันประดิษฐ์กระปุกออมสิน  
เพื่อใช้ออมเงิน

ในการเรียนหน่วยการเรียนรู้ที่ 7 เรื่อง เงิน

นักเรียนอาจใช้ แก้วพลาสติกใส  
ฝา และเทปใส ดังภาพ







สรุป

# จากกิจกรรมนี้ สรุปได้ว่า.....

เงินเหรียญชนิดราคาต่าง ๆ สืบเนื่องจากสี ขนาดของเหรียญ  
และตัวเลขระบุจำนวนเงินที่ด้านหลัง



ด้านหน้า



ด้านหลัง



ด้านหน้า



ด้านหลัง

เหรียญสีบบาท 1 เหรียญ มีค่า 10 บาท

# จากกิจกรรมนี้ สรุปได้ว่า.....



ด้านหน้า



ด้านหลัง



ด้านหน้า



ด้านหลัง

เหรียญห้าบาท 1 เหรียญ มีค่า 5 บาท

# จากกิจกรรมนี้ สรุปได้ว่า.....



ด้านหน้า



ด้านหลัง



ด้านหน้า



ด้านหลัง

เหรียญสองบาท 1 เหรียญ มีค่า 2 บาท



# จากกิจกรรมนี้ สรุปได้ว่า.....



ด้านหน้า



ด้านหลัง



ด้านหน้า



ด้านหลัง

เหรียญหนึ่งบาท 1 เหรียญ มีค่า 1 บาท

# จากกิจกรรมนี้ สรุปได้ว่า.....



ด้านหน้า



ด้านหลัง



ด้านหน้า



ด้านหลัง

เหรียญห้าสิบบาท 1 เหรียญ มีค่า 50 สตางค์

# จากกิจกรรมนี้ สรุปได้ว่า.....



ด้านหน้า



ด้านหลัง



ด้านหน้า



ด้านหลัง

เหรียญสี่บาทสตางค์ 1 เหรียญ มีค่า 25 สตางค์

# จากกิจกรรมนี้ สรุปได้ว่า.....








เงินเหรียญที่มีค่าน้อยที่สุด

เงินเหรียญที่มีค่ามากที่สุด



แบบฝึกหัด 7.1

1 โยงเส้นจับคู่ภาพและชนิดของเหรียญ

- |  |   |   |                   |
|--|---|---|-------------------|
| 1)  | • | • | เหรียญสิบบาท      |
| 2)  | • | • | เหรียญยี่สิบบาท   |
| 3)  | • | • | เหรียญห้าบาท      |
| 4)  | • | • | เหรียญห้าสตางค์   |
| 5)  | • | • | เหรียญห้าสตางค์   |
| 6)  | • | • | เหรียญหนึ่งบาท    |
|  |   | • | เหรียญหนึ่งสตางค์ |



2 เขียนวงล้อมรอบเหรียญตามเงื่อนไขที่กำหนด

- เงินเหรียญที่มีค่ามากกว่า  

- เงินเหรียญที่มีค่าน้อยกว่า  







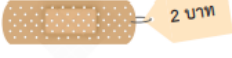

- เงินเหรียญที่มีค่าน้อยกว่า  

- เงินเหรียญที่มีค่ามากกว่า  

- เงินเหรียญที่มีค่าน้อยที่สุด  


- เงินเหรียญที่มีค่ามากที่สุด  


3 เขียนวงล้อมรอบเหรียญให้เท่ากับราคาสินค้าที่กำหนด

-   

-   

-   

-   


# บทเรียนครั้งต่อไป

1. เงินเหรียญชนิดต่าง ๆ
2. ธนบัตรชนิดต่าง ๆ



## สิ่งที่ต้องเตรียม

1. เงินเหรียญหรือเงินเหรียญจำลอง
2. ธนบัตร
3. ธนบัตรจำลอง
4. แบบฝึกหัด 7.2

สามารถดาวน์โหลดได้ที่ [www.dltv.ac.th](http://www.dltv.ac.th)

