





ใบกิจกรรม 6.4


- เขียนคำตอบในช่องว่าง
 - คนที่เกิดวันคู่ คน
 - คนที่เกิดวันคี่ คน
- สร้างแผนภูมิรูปภาพจากข้อมูลจำนวนนักเรียนที่เกิดวันคู่และเกิดวันคี่
โดยระบายสี  ตามข้อกำหนด

ชื่อแผนภูมิ

คนที่เกิดวันคู่	
คนที่เกิดวันคี่	

กำหนดให้  แทนจำนวนนักเรียน คน

ใบกิจกรรม 6.5

- เขียนจำนวนเมล็ดถั่วแดงที่นักเรียนแต่ละคนตัดได้
 - คนที่ 1 ตัดได้ เมล็ด คนที่ 2 ตัดได้ เมล็ด
 - คนที่ 3 ตัดได้ เมล็ด คนที่ 4 ตัดได้ เมล็ด
- สร้างแผนภูมิรูปภาพจากข้อมูลจำนวนเมล็ดถั่วแดงที่นักเรียนแต่ละคนตัดได้
โดยระบายสี  ตามข้อกำหนด

ชื่อแผนภูมิ

คนที่ 1		คนที่ 2		คนที่ 3		คนที่ 4	
---------	---	---------	---	---------	---	---------	---

กำหนดให้  แทนจำนวนเมล็ดถั่วแดง เมล็ด