

แบบฝึกหัด 6.5





















































































1 พิจารณาข้อมูลที่กำหนด แล้วเขียนแผนภูมิรูปภาพ เพื่อนำเสนอข้อมูล

จำนวนโดนัทที่ร้านแห่งหนึ่งขายได้ในแต่ละวันในหนึ่งสัปดาห์

วันอาทิตย์	ขายได้ 20 โหล	วันพฤหัสบดี	ขายได้ 8 โหล
วันจันทร์	ขายได้ 10 โหล	วันศุกร์	ขายได้ 13 โหล
วันอังคาร	ขายได้ 7 โหล	วันเสาร์	ขายได้ 21 โหล
วันพุธ	ขายได้ 12 โหล		

ให้นักเรียนใช้ข้อมูลข้างต้น สร้างแผนภูมิรูปภาพ โดยระบายสี  ตามข้อกำหนด

จำนวนโดนัทที่ร้านแห่งหนึ่งขายได้ในแต่ละวันในหนึ่งสัปดาห์

วันอาทิตย์	           
วันจันทร์	           
วันอังคาร	           
วันพุธ	           
วันพฤหัสบดี	           
วันศุกร์	           
วันเสาร์	           

กำหนดให้  แทนจำนวนโดนัท 2 โหล

- 2) ให้นักเรียนสำรวจเดือนเกิดของเพื่อนร่วมชั้น แล้วนำเสนอด้วยแผนภูมิรูปภาพ โดยกำหนดให้ 1 รูปแทนจำนวนนักเรียน 2 คน

ชื่อแผนภูมิ

มกราคม	
กุมภาพันธ์	
มีนาคม	
เมษายน	
พฤษภาคม	
มิถุนายน	
กรกฎาคม	
สิงหาคม	
กันยายน	
ตุลาคม	
พฤศจิกายน	
ธันวาคม	

กำหนดให้ 1 รูปแทนจำนวนนักเรียน 2 คน